

公民全国答練 選挙

80点以上が合格！41～79点は再テスト！40点以下は宿題プレゼント！

第1回

問1 (1) 20点 (完答) (2) 30点

問2 (1) 30点 (2) 20点

点

問1 下線部①の選挙について、次の(1)、(2)に答えなさい。

(1) 表1を小選挙区制における投票結果とします。この結果から当選する者を、候補者A～Pからすべて選びなさい。また、1区～4区の4つの選挙区のうち、投票率（有権者数に対する投票者数の割合）が最も高い選挙区を書きなさい。ただし、各選挙区の投票者数は得票数の合計に等しいものとします。2013 北海道

表1 当選者→ () 投票率が最も高い選挙区→ ()
区

1区	候補者	A	B	C	D	
有権者数 380 (千人)	得票数 (千票)	120	93	31	3	
2区	候補者	E	F	G	H	
有権者数 720 (千人)	得票数 (千票)	158	20	98	120	
3区	候補者	I	J	K		
有権者数 445 (千人)	得票数 (千票)	112	143	12		
4区	候補者	L	M	N	O	P
有権者数 550 (千人)	得票数 (千票)	122	152	58	38	4

(2) 表2を比例代表制における定数が5議席の選挙区の投票結果とするとき、㊸党～㊼党に配分される議席の数を、それぞれ書きなさい。ただし、議席の配分はドント式（方式）によるものとします。

表2

政党名	得票数 (千票)	議席数
㊸党	516	㊸党 ()
㊹党	330	㊹党 ()
㊺党	246	㊺党 ()
㊻党	159	㊻党 ()
㊼党	132	㊼党 ()

問2 2013 山形

(1) 比例代表制とはどのようなしくみの選挙制度か、説明しなさい。

(2) 国民には、選挙を通じて政治に参加する権利のほかにも、国や地方公共団体に直接要望を訴えることができる権利が保障されています。この権利は何か、書きなさい。

公民全国答練 選挙

80点以上が合格！41～79点は再テスト！40点以下は宿題プレゼント！

第1回解答

問1

(1) 当選する者 A,E,J,M 選挙区 4区

小選挙区制では、最も得票数の多い候補者1名が当選する。

投票率は、投票者数÷有権者数×100で求める。1区は65%、2区は55%、3区は60%、4区は68%となる。

㉔党	3
㉕党	1
㉖党	1
㉗党	0
㉘党	0

(2)

各政党の得票数を1, 2, 3…で割って、商の大きい順に5番目までを当選とする。

$516 \div 2 = 258$, $516 \div 3 = 172$, $330 \div 2 = 165$, $246 \div 2 = 123$, $159 \div 2 = 79.5$, $132 \div 2 = 66$ …
となることから、商が大きい順に、1で割ったときの㉔党の516、㉕党の330、2で割ったときの㉔党の258、1で割ったときの㉖党の246、3で割ったときの㉔党の172となる。

問2

(1) (例) 政党に投票し、得票に応じて各政党に議席が配分される制度。

比例代表制では、有権者は政党に投票し、政党の得票数に応じて各政党へ議席が配分される。比例代表制は、衆議院議員選挙、参議院議員選挙の両方で採用されている。

(2) 請願権


国や地方公共団体に直接要望をする権利を請願権という。住民が署名を集めて地方公共団体に条例の制定や首長の解職などを求めることは、直接請求権。

公民全国答練 選挙

80点以上が合格！41～79点は再テスト！40点以下は宿題プレゼント！

第2回

問1 ア40点 イ30点 ウ30点



問1 下は、まさのりくんが社会科学習のまとめとして、参政権について調べたレポートの一部である。これを見て、次のア～ウに答えなさい。2013 青森

点

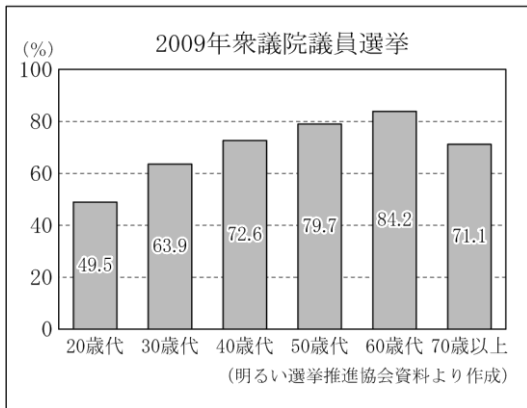
《探究のテーマ》 参政権について ～衆議院議員選挙を例に、選挙の棄権を考える～

《テーマ設定について》 衆議院議員の選挙権は、1889年に直接国税15円以上を納める満25歳以上の男子に初めてあたえられました。その後、50年以上たった第二次世界大戦後になってようやく、納税額や財産などによって制限されず、満20歳以上の国民ならだれでも原則として投票できるようになりました。

しかし、最近の選挙では、投票に行かない棄権が増えていることを知り、年代別の投票率や主な投票方法、棄権の主な理由などを調べてみま

《調べてわかったこと》

資料1 年代別の投票率



資料2 主な投票方法


通常は、投票日当日の朝7時から夜8時までに、指定された投票所で投票します。

投票日当日に用事などがあって投票所へ行けない人には、期日前投票や不在者投票の制度があります。

また、場合によっては郵送で投票したり、病院で投票したりすることもできます。

資料3 棄権の主な理由

- ・用事があったから
- ・選挙にあまり関心がなかったから
- ・投票に行くのが面倒だったから
- ・政策や人物がよくわからなかったから
- ・私一人が投票しなくても同じだから



ア _____ のような選挙を何というか、書きなさい。

イ 資料1から考えられる課題を、一つ書きなさい。

ウ 投票日当日、投票所へ行けない人に対しては、資料2にあるような制度が設けられている。しかし、資料3のような理由で選挙を棄権する人がみられる。多くの人が選挙を棄権すると、国民にはどのような影響があると考えられるか、書きなさい。

公民全国答練 選挙

80点以上が合格！41～79点は再テスト！40点以下は宿題プレゼント！

第2回解答

問1

ア 普通選挙

年齢以外に制限がない選挙を、普通選挙という。

イ (例) 20歳代、30歳代の投票率が他の年代よりも低くなっている。

資料1からは、年代により投票率に差があることがわかる。特に20歳代、30歳代などの若い世代の投票率が、他の世代と比べて低くなっている。

ウ (例) ・投票した一部の人たちによって、政治の大切なことが決められてしまう。

・国民の意見を反映した政治が行われなくなる。など

投票率が低いと、一部の人たちの意見で政治が決まり、国民のさまざまな意見が政治に反映されにくくなる。

公民全国答録 選挙

80点以上が合格！41～79点は再テスト！40点以下は宿題プレゼント！

第3回

問1 各25点 問2 (1) 30点 (2) 20点

点

問1 次は、授業で行った模擬選挙の結果と生徒の会話である。2013 秋田

		X班	Y班	Z班
得票数		15	9	6
*配分方法	得票数÷1	①15.0	② 9.0	④ 6.0
	〃 ÷2	③ 7.5	⑥ 4.5	3.0
	〃 ÷3	⑤ 5.0	3.0	2.0
	〃 ÷4	3.75	2.25	1.5
議席配分数		3	2	1

*数値の高い①～⑥の順に議席を配分する。

生徒A：今回は、個人名ではなく、班名を書いて投票したから、うの方法と同じだね。

生徒B：この方法は、Z班にも議席が配分されたように、えも結果に反映されやすいね。

生徒A：ところで、選挙の課題には何があるのかな。

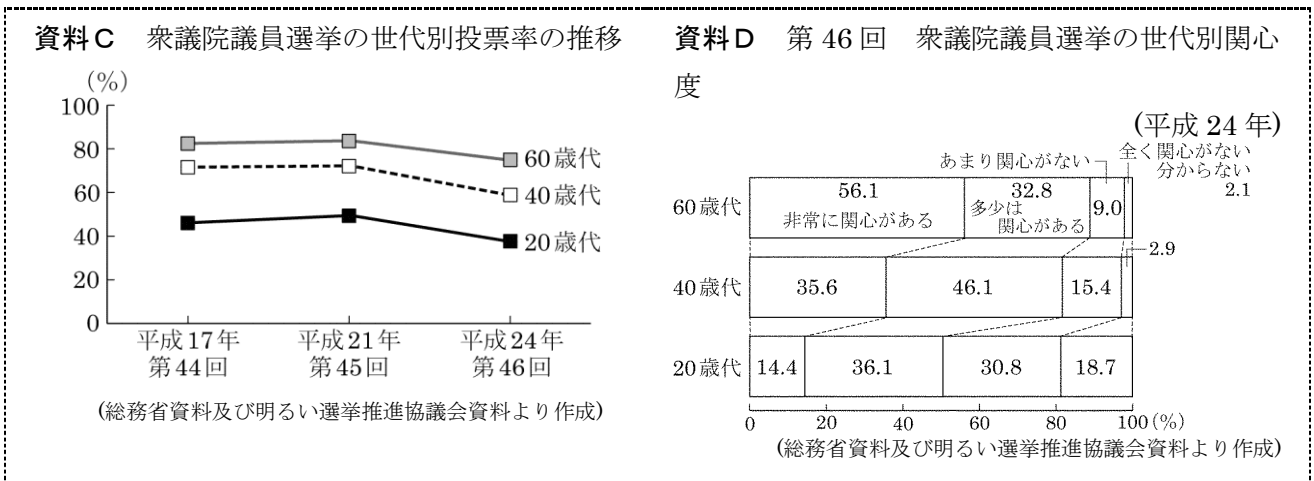
生徒B：前に「一票の格差」が**⑥違憲状態**だと判断されたという記事が新聞にのっていたよ。

うにあてはまる語を、一つ選んで記号を書きなさい。また、えにあてはまる内容を書きなさい。

- | | | | | |
|---|---|---------|---------|---------|
| う | → | ア 小選挙区制 | イ 大選挙区制 | ウ 比例代表制 |
| え | → | () | | |

問2 最近の衆議院議員選挙について作成した資料C、Dをもとに、あとの(1)、(2)の問いに答えなさい。

(1) 資料C、Dをもとに、衆議院議員選挙の世代別投票率の推移と世代別関心度について、年代が若くなるにつれてみられる特徴を、簡潔に述べなさい。



(2) 選挙のとき、多くの人々が棄権をすると、政治にどのような問題が生じると考えられますか。民主的な政治ということをふまえて、簡潔に述べなさい。

公民全国答練 選挙

80点以上が合格！41～79点は再テスト！40点以下は宿題プレゼント！

第3回解答

問1 う ウ え (例) 少数意見

候補者名ではなく政党名を書いて投票するのは、比例代表制。小選挙区制は1選挙区から1名を選出する選挙、大選挙区制は1選挙区から2名以上を選出する選挙である。

問2 (1) (例) 3回にわたる投票率の推移も、最近の選挙に対する関心度も、年齢が若くなるにつれて、
低くなっている。

資料Cより、年代が若いほど、投票率は低くなっていることがわかる。また資料Dより、年代が若いほど、選挙に関心があると答えた人の割合が小さく、あまり関心がない、全く関心がない・分からないと答えた人の割合が大きいことがわかる。

問2 (2) (例) 投票は、自分の考えを示す機会なので、棄権が多いと、一部の人たちによって、政治の
大切なことが決められてしまうという問題がある。

棄権をする人が多いと投票率が下がり、一部の人の意見だけが政治に反映されることになってしまう。

公民全国答練 選挙

80点以上が合格！41～79点は再テスト！40点以下は宿題プレゼント！

第4回

問1 20点 問2 15点 問3 15点 問4 50点

点

晴美さんは、社会科の授業で、「選挙権の拡大と投票率」について調べ、資料A～Dを作成しました。次の問1～問5の問いに答えなさい。2014 宮城

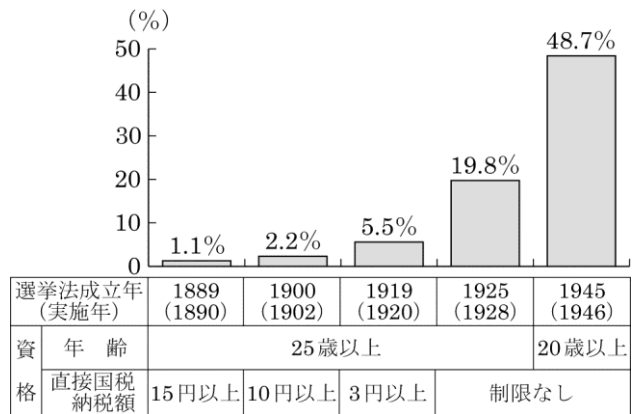
問1 1889年の選挙法が成立する前に、板垣退助らによって、国民が政治に参加できる道を開くべきだということを主張する運動がはじまりました。この運動を何というか、書きなさい。

問2 1925年の選挙法が成立した同じ年に、思想や言論の抑圧を強める法律も成立しました。この法律を何というか、次のア～エから1つ選び、記号で答えなさい。

ア 大日本帝国憲法 イ 国家総動員法 ウ 治安維持法 エ 日本国憲法

問3 1945年の選挙法が成立したことによって、全人口に占める有権者の割合は、48.7%に大きく増加しました。その理由を、資料A、Bをもとに、簡潔に答えなさい。


資料A 選挙法の改正と全人口に占める有権者の割合



(総務省「日本長期統計総覧」より作成)

資料B 選挙法改正後の投票のようす

1928年に実施された選挙



1946年に実施された選挙



問4 現在では、国政選挙や地方自治体の選挙で、投票したり立候補したりすることは、一定の要件を満たせば、だれでもできるようになりました。基本的人権の1つで、選挙権や被選挙権などを含む権利を何というか、書きなさい。

公民全国答練 選挙

80点以上が合格！41～79点は再テスト！40点以下は宿題プレゼント！

第4回解答

問1 自由民権運動

板垣退助らは民撰議院設立の建白書を提出して、国民の代表者による国会の開設を求める自由民権運動をはじめた。

問2 ウ

1925年に、25歳以上のすべての男子に選挙権を与える選挙法が制定されたとき、同時に社会主義の活動を取り締まるため、治安維持法が制定された。

問3 (例) 選挙権が与えられる年齢が25歳から20歳に引き下げられ、かつ女性も選挙権を得たから。

1925年の選挙法では25歳以上の男子に選挙権が与えられていたが、1945年の選挙法の成立によって、20歳以上のすべての男女に選挙権が与えられたため、有権者の割合が大きく増加した。

問4 参政権

国民が政治に参加する権利を参政権といい、選挙権、被選挙権のほか、最高裁判所裁判官の国民審査権、憲法改正における国民投票権などがある。

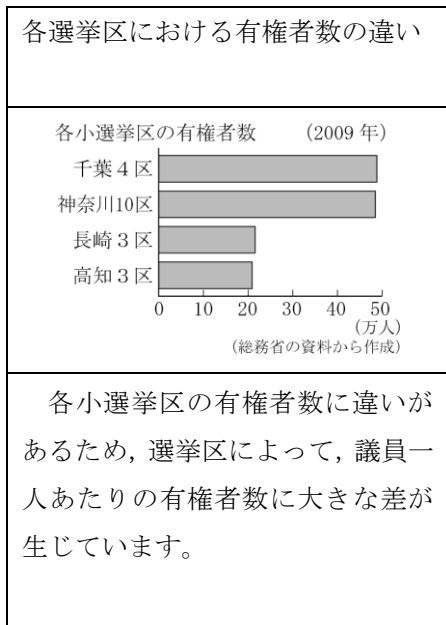
公民全国答練 選挙

80点以上が合格！41～79点は再テスト！40点以下は宿題プレゼント！

第5回

問1 各20点 問2 40点

C



点

問1 Cに関連して、次は、一票の格差についてまとめたものです。あとの問いに答えなさい。2013 山形

一票の格差について、最高裁判所は、右の資料のような判断を下しました。これは、有権者数が少ない選挙区ほど、有権者が投じる一票の価値は なり、有権者数が多い選挙区ほど、一票の価値は なるからです。このことは、国民のもつ基本的人権のうち、 権を侵害することにあたりとされました。

資料

09年衆院選「票の格差」
最高裁「違憲状態」との判断

(2011年3月24日の新聞記事から作成)

(1) , , にあてはまる言葉を、それぞれ書きなさい。

問2 資料は、山形県選挙管理委員会が、参議院議員選挙にあたり、投票への参加を呼びかけた看板です。このように、選挙管理委員会は、投票率を上げるための取り組みを行っています。投票率を上げることが望まれるのはなぜか、公正という観点から書きなさい。2014 山形

資料



公民全国答練 選挙

80点以上が合格！41～79点は再テスト！40点以下は宿題プレゼント！

第5回解答

問1 X 重く Y 軽く Z 平等

有権者数が多い選挙区では、有権者数が少ない選挙区よりも、議員を1人当選させるために必要な票数が多くなるので、一票の価値は軽くなる。

問2 (例) 投票率が低いと、投票した少数の有権者の意見だけで、当選者が決まってしまうから。

投票率が低いと、一部の有権者の意見が政治に反映されることになる。期日前投票の導入や投票時間の延長など、投票率を上げる取り組みが行われている。

公民全国答練 選挙

80点以上が合格！41～79点は再テスト！40点以下は宿題プレゼント！

第6回

問1 30点 問2 20点 問3 25点×2

点

問1 衆議院または参議院の選挙制度を説明した文として適当なものを、次のア～エの中から一つ選びなさい。2013 福島

- ア 衆議院議員選挙では、比例代表において有権者が政党名または候補者名を書いて投票する。
- イ 衆議院議員選挙では、同じ候補者が小選挙区と比例代表の両方に立候補できる。
- ウ 参議院議員選挙では、選挙区よりも比例代表で選出される議員数が多い。
- エ 参議院議員選挙では、議員の半数を選挙区と比例代表により2年ごとに改選する。

問2 選挙権は平等であることが原則だが、近年、日本では、「一票の格差」が大きいことが問題になっている。「一票の格差」について説明した次の文の にあてはまることばを、有権者という語句を用いて書きなさい。2014 福島

選挙区によって、選出される にちがいがあり、一票のもつ価値が異なること。

問3 表1を見て、日本の選挙制度について、次の の文中の に当てはまる語を書きなさい。また、 , に当てはまる語の組み合わせを、下のア～エの中から一つ選んで、その記号を書きなさい。2014 茨城

表1

政党名	△党	○党	□党	
得票数	2,100	1,800	1,000	
名簿順位	1	Aさん	Eさん	Iさん
	2	Bさん	Fさん	Jさん
	3	Cさん	Gさん	Kさん
	4	Dさん	Hさん	Lさん

先生：これは 制の選挙のしくみを学ぶために作った表です。

生徒：ドント式（ドント方式）で、各政党の得票数に応じて議席を配分する方法を表していますね。

先生：そうです。定数が6名の場合、△党は何名が当選になりますか。

生徒： です。

先生：そうです。 では 制と小選挙区制を組み合わせた制度をとっています。

ア [a 3名 b 衆議院]

イ [a 4名 b 衆議院]

ウ [a 3名 b 参議院]

エ [a 4名 b 参議院]

→

公民全国答録 選挙

80点以上が合格！41～79点は再テスト！40点以下は宿題プレゼント！

第6回解答

問1 イ

- ア 小選挙区で候補者名を，比例代表で政党名を書いて投票する。
- ウ 参議院の定数は，選挙区146人，比例代表96人である。
- エ 2年ではなく3年ごとに改選される。

問2 議員1人あたりの有権者の数

議員1人あたりの有権者数が多い選挙区は，有権者数の少ない選挙区に比べて一票の価値が軽くなる。

問3 あ 比例代表 記号 ア

各政党の得票数に応じて議席を配分する選挙制度は，比例代表制。

ドント式では，それぞれの得票数を整数で割っていき，商の大きい順に議席を配分していく。

1で割ると，△党は「2100」，○党は「1800」，□党は「1000」，

2で割ると△党は「1050」，○党は「900」，□党は500，

3で割ると△党は「700」，○党は600，□党は333.3…。

「 」で囲んだ数字が，大きい順に6番目までだから，△党は3議席，○党は2議席，□党は1議席となる。

公民全国答練 選挙

80点以上が合格！41～79点は再テスト！40点以下は宿題プレゼント！

第7回

問1 30点 問2 20点 問3 20点(完答) 問4 30点

点

問1 図2は、小選挙区であるX選挙区とY選挙区の有権者数を示している。この二つの選挙区の間に見られる問題点は何か。小選挙区制のしくみを含めて、「一票の価値」の語を用いて簡潔に書きなさい。2013 栃木

図2

選挙区	有権者数
X	207688人
Y	496141人

問2 選挙の原則の一つである普通選挙の説明として正しいのはどれか。2014 栃木

- ア 財産や身分などに関係なく、一定の年齢に達した全国民に選挙権が与えられること。
- イ 投票した内容を、他の人に知られないようにすること。
- ウ 地方議会の解散や首長の解職の賛否を表明するために投票すること。
- エ 一定額以上の税金を納めた国民のみに選挙権が認められること。

問3 次の政党と政権に関する文章と、下の衆議院における政党と内閣の関係を模式的にあらわした図1の、とにあてはまる語を、それぞれ書きなさい。

図1において、A党の議席は衆議院の過半数に達していない。図1の場合、A党とB党からなる内閣が、政権を担当している。このように、複数の政党からなる政権のことを政権という。また、A党とB党を、野党に対してという。

問4 次の中の, にあてはまるものの組み合わせとして最も適するものを、あとの1～4の中から一つ選び、その番号を書きなさい。2014 神奈川

政治や社会の問題などについての国民の意見を「」といいます。「」が形成される上で、大きな影響力をもっているものとして新聞やテレビなどのマスメディア（マス・メディア）があげられます。マスメディア（マス・メディア）の報じる内容には、その価値観が反映される場合があります。そこで、情報を入手し適切に利用するには、という「メディアリテラシー（メディア・リテラシー）」の能力を高める必要があります。

- 1 F：世論 G：さまざまな情報を比較し分析する
- 2 F：公約 G：特定の情報のみをすばやく選び出す
- 3 F：公約 G：さまざまな情報を比較し分析する
- 4 F：世論 G：特定の情報のみをすばやく選び出す

公民全国答練 選挙

80点以上が合格！41～79点は再テスト！40点以下は宿題プレゼント！

第7回解答

問1 (例) 小選挙区は一選挙区から一名が当選するしくみであり、X選挙区とY選挙区の有権者数の違いにより、一票の価値に格差が生じるという問題。

小選挙区では、一つの選挙区から一名が当選する。図2よりXとYでは有権者数が大きく違うことをふまえて、有権者数が違えば議員一名を当選させるのに必要な票数も異なるため、選挙が公平ではなくなるという問題点について書く。

問2 ア

普通選挙は、一定の年齢に達した全国民に選挙権が与えられること。イは秘密選挙、ウは直接請求権、エは制限選挙についての文。

問3 I 連立(政権) II 与党

複数の政党により内閣が組織される政権を、連立政権という。政権を担当する政党を与党、政権を担当しない政党を野党という。

問5 1

F 政治・社会問題などについての国民の意見を、世論という。公約は選挙に立候補するとき、どのような政策を実行するのかを約束すること。

G 情報をうのみにしたり、偏った情報をとり入れたりすることがないように注意する必要がある。

公民全国答練 選挙

80点以上が合格! 41~79点は再テスト! 40点以下は宿題プレゼント!

第8回

問1 10点 問2 10点 問3 10点 問4 10点 問5 60点

点

問1 (c)国政選挙に関連して、選挙における原則は次のようにまとめられる。文中の□にあてはまる語句を書きなさい。2013 富山

20歳以上の国民なら原則として投票できる	…普通選挙
1人1票をもつ	…□選挙
無記名で投票する	…秘密選挙
有権者が直接投票する	…直接選挙

問2 国民が政治に参加する権利を何というか、書きなさい。2014 石川

問3 下線の部分(7)について、次のAとBは日本の政党に関して述べた文である。それぞれの文が正しいか誤りかの組み合わせとして最も適当なものを、下のア～エから1つ選んで記号で書け。2013 福井

- A 内閣を組織して政権をになう政党を野党という。
B 過半数の議席を獲得した政党のみがになう政権を連立政権という。

- ア AもBも正しい。 イ Aは正しい。Bは誤り。
ウ Aは誤り。Bは正しい。 エ AもBも誤り。

問4 各政党が政権を担当した場合に実施する政策とその政策を実現するための財源や期限を具体的に示したものを何というか書け。2014 福井

問5 下線部(a)について、2010年の参議院議員選挙のどのような点が「違憲状態」と判断されたのか、資料Vを参考にして、簡潔に書きなさい。2013 群馬

資料V 参議院議員選挙の定数と有権者数

県名(選挙区名)	鳥取県	神奈川県
定数	2人	6人
有権者数	約49万人	約729万人

公民全国答練 選挙

80点以上が合格！41～79点は再テスト！40点以下は宿題プレゼント！

第8回解答

問1 平等（選挙）

問2 参政権

問3 エ

- A 政党政治において、政権をになう政党を与党という。野党は、政権を担当しない政党をいう。
- B 連立政権とは、複数の政党で政権をになうことをいう。

問4 マニフェスト（政権公約）

選挙のときに各政党は、実施する政策について、財源はどうするか、いつまでに実施するかなど具体的な内容をまとめたマニフェスト（政権公約）を示して、有権者に支持を訴える。

問5（例）議員1人あたりの有権者数に差があり、1票の重みの格差が大きい点。

資料Ⅴより、鳥取県の議員一人あたりの有権者数は約24.5万人、神奈川県は約121.5万人と、選挙区によって大きな差があり、1票の持つ価値、1票の重みに格差が生じていることがわかる。

公民全国答録 選挙

80点以上が合格！41～79点は再テスト！40点以下は宿題プレゼント！

第9回

(1) 40点 (完答) (2) 40点 (3) 20点

点

全て 2014 山梨

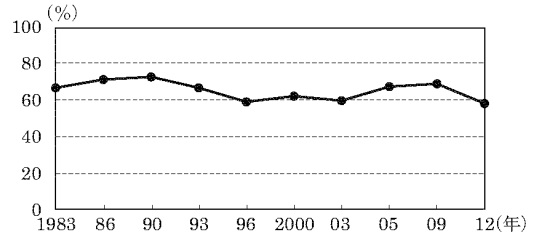
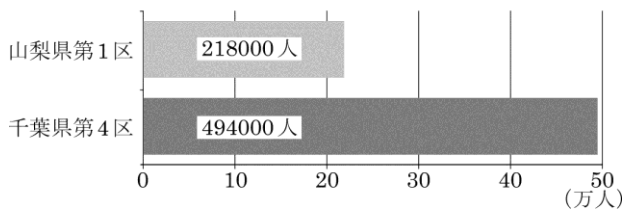
問 明夫さんは、国の選挙のしくみと課題について調べる中で、下のグラフⅠ、Ⅱを

つくり、これを参考に、次の文章をまとめた。これに関する次の(1)～(3)の問いに答えなさい。

各選挙区の有権者数

全国の衆議院議員選挙の投票率の推移

(2012年12月16日実施の衆議院議員選挙時点の概数)



グラフⅠ

(総務省資料より作成)

グラフⅡ

我が国の衆議院議員選挙は、**㉑** (小選挙区 , 大選挙区) 制と**㉒**比例代表制の組み合わせにより行われているが課題もある。グラフⅠからわかるように、選出する議員一人あたりの有権者数は、2012年実施の衆議院議員選挙の時点では、千葉県第4区は山梨県第1区の約2.27倍であった。よって山梨県第1区の方が有権者一人あたりの一票の価値が**㉓** (低 , 高) く、格差が生じていた。

また、グラフⅡからわかるように、1983年以降、投票率は一度も80%を上まわることはなかった。一人でも多くの有権者が投票できるように、様々な**㉔**改革が行われている。

(1) 上の文章中の**㉑**、**㉓**の () の中からそれぞれ当てはまる語句を一つ選び、書きなさい。

㉑

㉓

(2) 下線部**㉒**について、定数5人の選挙区で、投票結果を右の資料のとおりとしたとき、**B党**の当選者数は何人か、その**数**を書きなさい。

政党別得票数

政党名	得票数 (票)
A党	50 000
B党	30 000
C党	12 000

(3) 下線部**㉔**について、現在までに行われた、国の選挙の改革の説明として正しいものを、次の**ア**～**エ**から一つ選び、記号で書きなさい。

ア 投票を義務化し、棄権者には罰則を科すことにした。

イ 投票時間の延長や期日前に投票できる制度を整備した。

ウ メールやインターネットによる投票をできるようにした。

エ 選挙運動期間中に、候補者が有権者を戸別訪問できるようにした。

公民全国答練 選挙

80点以上が合格！41～79点は再テスト！40点以下は宿題プレゼント！

第9回解答

(1) ㉑ 小選挙区 ㉒ 高

- ㉑ 衆議院議員選挙は、小選挙区制と比例代表制を組み合わせている。
- ㉒ 議員一人あたりの有権者数が少ない選挙区の方が、一票の価値が高くなる。

(2) 2人

比例代表制では、それぞれの政党の得票数を1, 2, …と整数で割っていき、その商の大きい順に議席を獲得していく。1で割るとA党は50000 (①), B党は30000 (②), C党は12000, 2で割るとA党は25000 (③), B党は15000 (⑤), C党は6000, 3で割るとA党は16666.66… (④), B党は10000, C党は4000。()内の番号順に商が大きい。したがって、定数5人の選挙区の当選者数はA党が3人, B党が2人, C党が0人。

(3) イ

- ア 投票は義務化されていない。
- ウ 2013年にインターネットによる選挙運動はできるようになったが、メールやインターネットでの投票はできない。
- エ 候補者の戸別訪問は禁止されている。

公民全国答練 選挙

80点以上が合格！41～79点は再テスト！40点以下は宿題プレゼント！

第10回

問1 10点 問2 20点 問3 30点 問4 40点

点

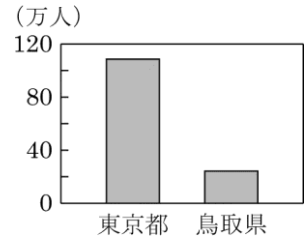
問1 次の文の にあてはまることばを書きなさい。2013 岐阜

現在の選挙は、満20歳以上のすべての国民に選挙権が憲法によって保障される普通選挙、一人一票の 選挙、議員を直接選出する直接選挙、無記名で投票を行う秘密選挙の4原則のもとで行われている。

問2 グラフ7は、平成25年7月の参議院議員選挙における東京都と鳥取県の選挙区の議員1人当たりの有権者数を表している。次の 中の文章は、グラフ7から分かる、現在の選挙制度の課題を述べたものである。次のア～エの中から、文中の (a)、(b) に当てはまる語の正しい組み合わせを1つ選び、記号で答えなさい。2014 静岡

グラフ7の2つの選挙区を比較すると、1票の価値は、4倍以上も (a) の選挙区の方が高く、格差がみられる。このようなことが日本国憲法に定められた (b) に反するのではないかと問題視する声が上がリ、選挙制度の大きな課題となっている。

グラフ7



注 総務省資料により作成

- ア a 東京都 b 法の下の平等 イ a 東京都 b 公共の福祉
ウ a 鳥取県 b 法の下の平等 エ a 鳥取県 b 公共の福祉

問3 II

私たちが、政治について正しい判断をするためには、国や地方公共団体に関する情報を入手できる (2) が保障され、そのための情報公開のしくみが必要になります。また、新聞やテレビからの情報を、無批判に受け入れずに判断し、活用できる (3) が求められています。

IIの文章中の (2)、(3) にあてはまることばの組み合わせとして最も適当なものを、次のアからエまでの中から選んで、そのかな符号を書きなさい。2014 愛知 (A)

- ア ② 知る権利、 ③ メディア・リテラシー
イ ② 知る権利、 ③ インフォームド・コンセント
ウ ② プライバシーの権利、 ③ メディア・リテラシー
エ ② プライバシーの権利、 ③ インフォームド・コンセント

問4 国会議員の④選挙について述べた文として最も適当なものを、次のアからエまでの中から選んで、そのかな符号を書きなさい。2014 愛知 (A)

- ア 衆議院議員選挙では、2年ごとに全体の半数ずつの議員が改選される。
イ 衆議院議員選挙では、小選挙区制と比例代表制を組み合わせた選挙が実施される。
ウ 参議院議員選挙では、任期である6年ごとにすべての議員が改選される。
エ 参議院議員選挙では、選挙区制より比例代表制によって選出される議員の方が多い。

公民全国答練 選挙

80点以上が合格！41～79点は再テスト！40点以下は宿題プレゼント！

第10回解答

問1 平等

問2 ウ

1票の価値が高いのは、議員1人当たりの有権者数が少ない鳥取県。選挙区によって1票の価値に差があることは、憲法で定めた法の下での平等に反するとの意見がある。

問3 ア

- ② 情報公開制度のもとになっているのは、知る権利である。プライバシーの権利は、個人的な情報を公開されない権利。
- ③ 情報をうのみにせず、批判的に読み取り、必要な情報を判断し活用する力を、メディア・リテラシーという。インフォームド・コンセントは、十分な説明にもとづく同意。

問4 イ

衆議院議員選挙は、小選挙区比例代表並立制が採用されている。

- ア 衆議院議員の任期は4年ですべての議員が改選されるが、任期の途中で解散総選挙が行われる場合がある。
- ウ 参議院議員は3年ごとに半数ずつの議員が改選される。
- エ 参議院議員選挙では、選挙区制で選出される議員の方が多い。

公民全国答練 選挙

80点以上が合格！41～79点は再テスト！40点以下は宿題プレゼント！

第11回

問1 20点 問2 各10点 問3 20点

問4 20点 問5 20点

点

問1 ①選挙に関連して述べた次の文の（ ）にあてはまる最も適切なことばを、漢字4字で書きなさい。2013 愛知 (B)

日本国憲法は、「公務員を選定し、及びこれを罷免することは、国民固有の権利である。」(第15条)と定め、さらに「公務員の選挙については、成年者による（ ）を保障する。」(第15条)として、選挙権を保障している。

問2 (a) 参議院議員の選挙について述べた文として最も適当なものはどれか、次のア～エから1つ選び、その記号を書きなさい。2013 三重

ア 選挙権は満20歳以上、被選挙権は満25歳以上のすべての国民に認められる。

イ 議員の任期は4年であるが、任期満了前に終了し、選挙が行われる場合がある。

ウ 定数は480人で、300議席が小選挙区制で選ばれ、180議席が比例代表制で選ばれる。

エ 都道府県を単位とした選挙区制と、全国を1つの単位とした比例代表制で行われる。

(b) 政治家個人へ企業などからの資金提供が制限されているかわりに、選挙などにも使える資金として、申請した政党に対して得票や議席に応じて国から提供される資金を何というか、その名称を書きなさい。

問3

選挙において、比例代表制ではドント式とよばれる方法で議席数が決まる。定数が7の比例区で、各政党が資料2の得票数であった場合、7人目の議席は何党の何人目になるか。書きなさい。2014 滋賀

() 党の () 人目

資料2

政党	A党	B党	C党	D党
得票数	105,000	93,000	45,000	22,000
得票数÷1				
得票数÷2				
得票数÷3				
得票数÷4				

問4 民主政治に関し、意見の対立がある場合に多数決は有効な方法ですが、多数決を行う際に、どのようなことに注意する必要がありますか、簡潔に書きなさい。2013 和歌山

問5 参議院議員の被選挙権は、満何歳になると認められますか、書きなさい。2013 和歌山

公民全国答練 選挙

80点以上が合格！41～79点は再テスト！40点以下は宿題プレゼント！

第11回解答

問1 普通選挙

日本国憲法第15条では、公務員の本質や選挙権、秘密投票の保障について規定している。普通選挙とは、一定の年齢を満たすすべての国民に選挙権が認められることである。

問2 (a)エ

- ア 参議院議員の被選挙権は満30歳以上である。
- イ 参議院議員の任期は6年で、解散はない。3年ごとに全体の半数が改選される。
- ウ 参議院議員の定数は242人で、選挙区制で146人、比例代表制で96人が選出される。

問2 (b)政党交付金 ※「政党助成金」も可。

各政党に対して、国から政党交付金が交付される。

問3 B党の3人目

それぞれの政党の得票数を1, 2, 3, 4で割っていき、商が大きい順に議席を配分すると、A党の1人目, B党の1人目, A党の2人目, B党の2人目, C党の1人目, A党の3人目, B党の3人目の順に議席が決まっていく。

問4 少数意見を尊重し、十分に議論する。

多数決は、最も多くの人賛成することを採用する決め方である。十分に話し合った上で採決し、少数意見も尊重しなければならない。

問5 満30歳

参議院議員の被選挙権は満30歳以上、衆議院議員の被選挙権は満25歳以上に認められている。

公民全国答練 選挙

80点以上が合格！41～79点は再テスト！40点以下は宿題プレゼント！

第12回

問1 (1) 40点 (完答) (2) 30点 問2 30点

点

問1 一票の格差に関し、表は、国政選挙の一部の選挙区の定数と、2012年12月3日現在の有権者数を示したものです。これを見て、(1)、(2)に答えなさい。

(1) 表は、衆議院と参議院のどちらの選挙区を示したものですか、判断した理由もあわせて書きなさい。

() 院

理由：

(2) 表には、全国で最も有権者数の多い選挙区と、最も有権者数の少ない選挙区が含まれています。一票の格差は最大で何倍ですか、小数第2位を四捨五入して書きなさい。

表

	定数	有権者数
北海道7区	1	272920
千葉4区	1	497601
愛知9区	1	424585
和歌山1区	1	312216
広島7区	1	378145
高知3区	1	204930

問2 G班のテーマについて、れいこさんは、投票率の低下を防ぐしくみについて、いくつかの資料を集めた。次の資料4は、期日前投票の制度について示したもので、資料5は、2009年に行われた衆議院議員選挙で投票しなかった人に、その理由をたずねた結果を示したものの一部である。また、資料6は、投票率の低下を防ぐしくみについてのG班での話し合いで、れいこさんが出した意見の内容を示したものである。資料6の にあてはまる、意見の内容は何か、その1つとして考えられることを、資料4、資料5から読み取れることをもとにして、書きなさい。2014 三重

資料4

期日前投票の制度は、仕事や旅行、レジャー、冠婚葬祭などの理由で当日投票できない人が、投票日前であっても投票日と同じ方法で投票を行うことができるものです。

(総務省資料、ほかから作成)

資料5

理由	%
用があったから	49.1
病気だったから	17.0
適当な候補者も政党もなかったから	13.9
選挙にあまり関心がなかったから	12.6
面倒だから	10.4

[複数回答]

(「第45回衆議院議員総選挙の実態」から作成)

資料6

期日前投票の制度をより充実させれば、 と考えられるので、私は、選挙における投票率の低下を防ぐことができるのではないかと思います。

公民全国答練 選挙

80点以上が合格！41～79点は再テスト！40点以下は宿題プレゼント！

第12回解答

問1 (1) 衆議院 理由：小選挙区だから

どの選挙区でも定数が1となっていることから、1選挙区から一人を選出する小選挙区制である。小選挙区制は、衆議院議員総選挙で小選挙区比例代表並立制として採用されている。

問1 (2) 2.4倍

最も有権者数の多い選挙区は千葉4区、最も少ないのは高知3区。

一票の格差は、 $497601 \div 204930 = 2.42\dots$ より、小数第2位を四捨五入して2.4倍である。

問2 仕事や旅行など、「用があったから」を投票しなかった理由とする人が投票するようになり、投票者が増える

資料5で、投票しなかった人の理由で最も多いのは、「用があったから」というものであることから、当日用があり投票できない人が、投票日前に投票することができる期日前投票の制度は、投票率を高めるのに有効であると考えられる。

公民全国答練 選挙

80点以上が合格！41～79点は再テスト！40点以下は宿題プレゼント！

第13回

各20点

点

問1 次の文は、国会議員を選ぶ選挙制度について述べたものである。文中の下線部ア～ウのうち、誤っているものを一つ選び、記号を書きなさい。また、その語を正しい語に直して書きなさい。2013 大阪

国会は衆議院と参議院から構成される。衆議院においては、議員の任期はア4年であり、解散制度がある。参議院においては、イ3年ごとに参議院の総議員の半数が改選され、解散制度はない。選挙制度のうち、政党の名前を書いて投票し、各政党の得票に応じて議席を配分するしくみはウ小選挙区制と呼ばれ、衆議院の総議員のうち180人がこの制度で選ばれている。

問2 衆議院議員の選挙における比例代表制を説明した文として適当なものを、次のア～エの中からひとつ選び、記号で答えなさい。2013 鳥取

- ア 選挙区は全国を一つの単位としている。
- イ 各政党の議席数はドント方式によって配分される。
- ウ 小選挙区制よりも定数が多い。
- エ 小選挙区に立候補した候補者が重複して立候補することはできない。

問3 政党政治において、政権をになう政党は何とよばれているか、漢字2字で答えなさい。

2014 島根

問4 太郎さんは、現在の選挙の原則を調べて、次のようにまとめた。 (X) , (Y) に当てはまることばの組み合わせとして適当なのは、(1)～(4)のうちではどれですか。一つ答えなさい。2014 岡山

一定の年齢に達したすべての国民に選挙権が認められることを (X) 選挙といいます。一人が一票を持ち、 (Y) 投票が行われます。

地方公共団体における首長（市長など）と議会の議員は、有権者の直接選挙により選出されます。

- (1) (X) : 制限, (Y) : 無記名で (2) (X) : 制限, (Y) : 記名して
(3) (X) : 普通, (Y) : 無記名で (4) (X) : 普通, (Y) : 記名して

問5 (ア) 次の文は、この選挙について述べたものである。文中の () に入る適切な語を答えなさい。

わが国の衆議院議員の選挙は、小選挙区制と比例代表制を組み合わせた選挙制度がとられている。有権者は、小選挙区制では候補者に投票し、比例代表制では () に投票することになっている。2013 山口

公民全国答練 選挙

80点以上が合格！41～79点は再テスト！40点以下は宿題プレゼント！

第13回解答

問1 ウ 比例代表制

政党の名前を書いて投票し、各政党の得票に応じて議席を配分するしくみを、比例代表制という。
小選挙区制は1選挙区から1人を選出する。衆議院議員選挙は、小選挙区比例代表並立制で行われる。

問2 イ

- ア 全国を11ブロックに分けている。
- ウ 小選挙区選挙の定数は300、比例代表選挙の定数は180。
- エ 重複して立候補できる。小選挙区選挙で落選した人が比例代表選挙で当選することもある。

問3 与党

国会で多数を占め政権を担当する政党を与党、与党以外の政党を野党という。

問4 3

- (X) 一定の年齢に達したすべての人に選挙権が認められることを普通選挙という。制限選挙は、納税額などの制限があること。
- (Y) 選挙は無記名で行われる。これを秘密選挙という。

問4 政党

比例代表制では、有権者は政党名を書いて投票する。政党の得票数に応じて、各政党に議席が配分され当選者が決まる。

公民全国答練 選挙

80点以上が合格！41～79点は再テスト！40点以下は宿題プレゼント！

第14回 各50点

問1 次の表②は2010年の参議院議員選挙での有権者数が多い選挙区と少ない選挙区を示している。選挙における一票の価値の格差について説明するために、表②とともに必要な資料として最も適当なものを、下のア～エから一つ選んで記号で答えなさい。2014 島根


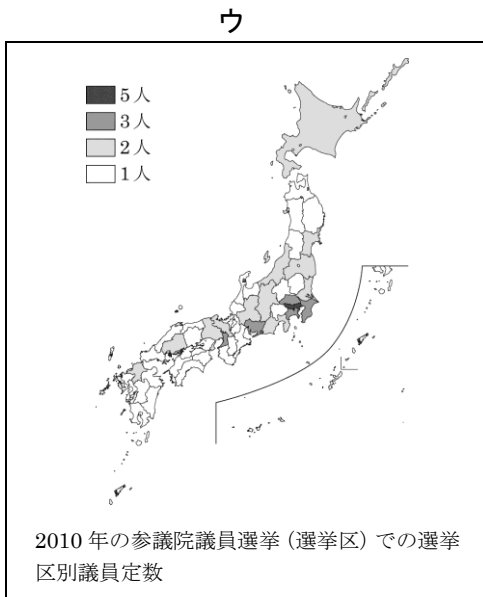
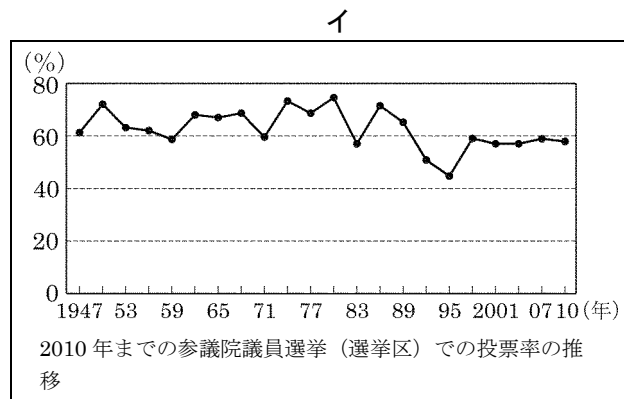
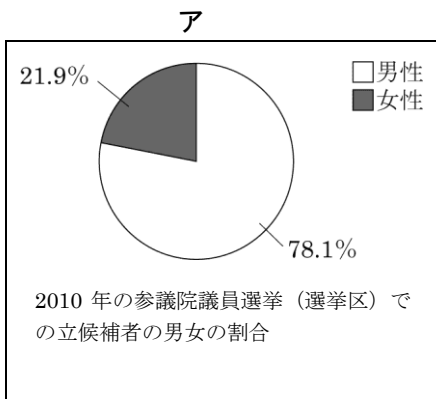
点

表② 有権者数が多い選挙区と少ない選挙区

多い選挙区	有権者数
東京都	10620508
神奈川県	7294561
大阪府	7089288

少ない選挙区	有権者数
鳥取県	485912
島根県	593860
高知県	640959

(「総務省資料」より作成)



問2 日本国憲法で保障されている権利の一つに参政権がある。そのうち、選挙権は、主権者である国民が選挙を通じて政治に参加する権利である。わが国の選挙の原則のうち、財産や性別などに関係なく、満20歳以上のすべての国民に選挙権を保障する原則は、次のア～エのうちのどれか。一つ選んで、その記号を書け。2013 香川

- ア 普通選挙 イ 平等選挙 ウ 直接選挙 エ 秘密選挙

公民全国答録 選挙

80点以上が合格！41～79点は再テスト！40点以下は宿題プレゼント！

第14回解答

問1 ウ

一票の価値の格差は、有権者数÷議員定数で求めた数値を比較することで知ることができる。参議院議員選挙は選挙区によって議員定数が異なるので、選挙区ごとの議員定数がわかる資料が必要。

問2 ア

財産や性別に関係なく、一定の年齢以上の人に選挙権を保障する原則を、普通選挙という。このほか、一人一票の平等選挙、直接選出する直接選挙、無記名で投票する秘密選挙の原則がある。

公民全国答練 選挙

80点以上が合格！41～79点は再テスト！40点以下は宿題プレゼント！

第15回

各20点（問3と問5は完答）

点

問1 次のア・イの図は、それぞれ衆議院議員総選挙の小選挙区制と比例代表制のどちらかの投票用紙の様式の一部を示しています。ア・イのうち、比例代表制の投票用紙を示しているのはどちらですか。その記号を書きなさい。また、その記号が答えとなる理由を、簡潔に書きなさい。2014 広島

<p>ア</p> <table border="1" style="width: 100%; border-collapse: collapse;"> <tr> <td style="width: 30%; padding: 5px;">候補者氏名</td> <td style="padding: 5px;"> <p>○ 注意</p> <p>一 候補者の氏名は、欄内に一人書くこと。</p> <p>二 候補者でない者の氏名は、書かないこと。</p> </td> </tr> </table>	候補者氏名	<p>○ 注意</p> <p>一 候補者の氏名は、欄内に一人書くこと。</p> <p>二 候補者でない者の氏名は、書かないこと。</p>	<p>イ</p> <table border="1" style="width: 100%; border-collapse: collapse;"> <tr> <td style="width: 30%; padding: 5px;"> 政党その他の政治団体の名称又は略称 </td> <td style="padding: 5px;"> <p>○ 注意</p> <p>政党その他の政治団体の名称又は略称は、欄内に二つ書くこと。</p> </td> </tr> </table>	政党その他の政治団体の名称又は略称	<p>○ 注意</p> <p>政党その他の政治団体の名称又は略称は、欄内に二つ書くこと。</p>
候補者氏名	<p>○ 注意</p> <p>一 候補者の氏名は、欄内に一人書くこと。</p> <p>二 候補者でない者の氏名は、書かないこと。</p>				
政党その他の政治団体の名称又は略称	<p>○ 注意</p> <p>政党その他の政治団体の名称又は略称は、欄内に二つ書くこと。</p>				

問2 現在の参議院議員選挙について述べた次のア～エのうち、正しいものはどれか。一つ選んで、その記号を書け。2014 香川

- ア 参議院議員選挙における被選挙権は、満25歳以上の国民に与えられている
- イ 参議院議員選挙は、3年ごとに実施され、参議院議員の半数が改選される
- ウ 参議院議員選挙は、参議院議員が任期に達した場合か、参議院が解散された場合に実施される
- エ 参議院議員選挙では、選挙区で選ばれる議員数よりも、比例代表で選ばれる議員数の方が多い

問3 衆議院と参議院について述べた文について、誤りを正しく直しなさい。2013 高知改

現在の衆議院議員の選挙は、都道府県を単位とする選挙区制と、比例代表制とで行われており、参議院議員の選挙は、小選挙区比例代表並立制で行われている。

問4 資料4は、日本国憲法第15条の条文の一部である。資料4中の（ b ）にあてはまる語句を書きなさい。2013 佐賀

15条 第3項 （ b ）の選挙については、成年者による普通選挙を保障する。

問5 衆議院議員選挙は、小選挙区制と比例代表制を組み合わせで行われている。小さな政党がより議席を獲得しやすいのは、a（ア 候補者 イ 政党）に投票するb（ア 小選挙区制 イ 比例代表制）である。a, bの（ ）の中から適当なものを一つずつ選び、記号で答えなさい。2014 熊本

公民全国答練 選挙

80点以上が合格！41～79点は再テスト！40点以下は宿題プレゼント！

第15回解答

問1 イ 比例代表制では政党に投票する方式をとっており、その方式を示す図はイであるため。

比例代表制では、有権者は候補者ではなく政党に投票し、得票数に応じて各政党に議席が配分される。したがって、政党その他の政治団体の名称又は略称を書くように指示しているイが、比例代表制の投票用紙である。

問2 イ

ア 参議院議員の被選挙権は満30歳以上。

ウ 解散があるのは衆議院のみで、参議院には解散はない。

エ 参議院議員選挙では、選挙区から146人、比例代表で96人選出されるから、選挙区で選ばれる議員数の方が多い。

問3 現在の参議院議員の選挙は、都道府県を単位とする選挙区制と、比例代表制とで行われており、衆議院議員の選挙は、小選挙区比例代表並立制で行われている。

問4 公務員

問5 aイ bイ

小さい政党がより議席を獲得しやすいのは、政党に投票する比例代表制である。小選挙区制は1つの選挙区から1人の代表者を選ぶ制度で、大きな政党に有利だといわれている。

公民全国答練 選挙

80点以上が合格！41～79点は再テスト！40点以下は宿題プレゼント！


第16回

問1 30点 問2 30点 問3 40点 (完答)

問1 資料2は、衆議院議員選挙の投票所のようなすを表したものである。有権者は資料2のように小選挙区制と比例代表制で2回の投票を行う。これらの制度の記述として最も適当なものを、下のア～エの中から一つ選び、記号を書きなさい。2013 佐賀 (特)

点

資料2



- ア 小選挙区制は政党に投票し、一つの選挙区から2名以上が当選するので、多くの政党が乱立し、政権が不安定になる。
- イ 小選挙区制は個人に投票し、一つの選挙区から1名が当選するので、当選に反映されない票（死票）が多くなり、少数意見が反映されない恐れがある。
- ウ 比例代表制は政党の代表に投票し、得票数に応じて各政党に議席が配分されるので、大政党に有利になり、政権が安定しやすい。
- エ 比例代表制は個人に投票し、得票数に応じて各政党に議席が配分されるので、小政党に票が集まりやすく、様々な世論を反映することができる。

問2 資料3は、国が政党への企業・団体献金を制限する代わりに、政党の政治活動にかかる費用の一部を支給する制度の条件を示したものである。こうした条件を満たした政治団体が受け取ることができるお金を何というか、書きなさい。2013 佐賀 (特)

資料3

1. 国会議員5人以上を有する政治団体。
2. 国会議員を有し、かつ、前回の衆議院議員総選挙の小選挙区選挙もしくは比例代表選挙又は前回もしくは前々回の参議院議員通常選挙の選挙区選挙もしくは比例代表選挙で得票率が2%以上の政治団体。

(総務省ホームページより)

問3 次の文の , に適することばを補い、これを完成させよ。2014 鹿児島

現在、衆議院議員の総選挙は、 する小選挙区制と、得票に応じて政党に議席が配分される 制を組み合わせた制度で実施されている。

公民全国答練 選挙

80点以上が合格！41～79点は再テスト！40点以下は宿題プレゼント！

第16回解答

問1 イ

- ア 小選挙区制では、個人に投票し、一つの選挙区から1名が当選する。
- ウ・エ 比例代表制では政党名を書いて投票する。比例代表制では、死票が少なく少数意見が尊重されやすいが、小党の乱立になりやすい。

問2 政党交付金／政党助成金

国は、政党への企業・団体からの献金を厳しく制限する代わりに、政党の政治活動に必要な費用の一部を政党交付金として支給する。

問3 X：一つの選挙区から一人の議員を選出

Y：比例代表

小選挙区制は、一つの選挙区から一人を選出する選挙制度。比例代表制は、政党に投票して得票に応じて議席を配分する制度。衆議院議員選挙は、小選挙区比例代表並立制で行われている。

公民全国答練 選挙

80点以上が合格！41～79点は再テスト！40点以下は宿題プレゼント！

第17回

問1 各30点 問2 20点 問3 20点

点

問1 2013 長崎

(1) 下線部③に関して、資料Ⅰは、1892年の衆議院議員選挙で使用された投票用紙を、資料Ⅱは、2012年の衆議院議員総選挙で使用された投票用紙をあらわしたものである。資料Ⅰ、資料Ⅱをみて、投票用紙に記入する内容の違いについて簡潔に書け。その際、現在のわが国でおこなわれている選挙の原則にふれること。

資料Ⅰ

衆議院議員 選挙投票 用紙 長崎県	
投票者住所氏名	候補者氏名

(注) 用語や漢字は、現在使われているものに置き換えている。また、横書きの文字は左横書きで表記している。

資料Ⅱ

第四十六回 衆議院小選挙区選出議員選挙投票
○注意 一 候補者の氏名は、欄内に一人書くこと。 二 候補者でない者の氏名は、書かなくてよい。
長崎県選挙管理委員会之印
候補者氏名

(資料Ⅰ、Ⅱは、『長崎県公報』から作成)

(2) 下線部④に関して、内閣は、一つの政党だけでなく複数の政党が協力して組織されることもある。このように複数の政党で組織される政権（内閣）を何というか。

問2 資料Ⅱの に当てはまる語として**適当でないもの**を、次のア～エから1つ選び、記号で答えなさい。2013 宮崎

- ア 衆議院 イ 参議院
ウ 都道府県議会 エ 市町村議会

資料Ⅱ	年齢によってできるようになること	
年齢	規定	法律
15歳	a 就職できる	労働基準法
16歳	女性 } 父母の同意のもと 男性 } 結婚ができる	民法
18歳		
20歳	b 裁判員に選ばれる	裁判員法
20歳	c 選挙権をもつ	公職選挙法
25歳	<input type="text"/> 議員に立候補できる	

問3 下線部 a に関連して、次の資料2は衆議院議員選挙の際に用いる投票用紙を簡略化したものである。有権者が資料2中の空らん①・②に記入する内容の組み合わせとして正しいものを次のア～エより1つ選び、記号で答えよ。ただし、「政党名」とは「政党その他の政治団体の名称又は略称」のことである。2013 沖縄

- ア ①候補者名 ②候補者名
イ ①候補者名 ②政党名
ウ ①政党名 ②政党名
エ ①政党名 ②候補者名

資料2

第○回 衆議院 小選挙区選出議員選挙投票 用紙 ①	第○回 衆議院 比例代表選出議員選挙投票 用紙 ②
------------------------------------	------------------------------------

公民全国答練 選挙

80点以上が合格！41～79点は再テスト！40点以下は宿題プレゼント！

第17回解答

問1

(1) 秘密選挙の原則により、資料Ⅱの投票用紙では、投票者住所氏名を記入しない。

資料Ⅰでは、投票者の住所と氏名を記入するようになっているが、資料Ⅱでは投票者の住所や氏名を記入する欄はない。現在のわが国の選挙では、投票は無記名でおこなう秘密選挙の原則がとられている。

(2) 連立政権（連立内閣）

一つの政党がもつ議席だけでは議会の過半数に達しない場合などに、複数の政党によって連立政権（連立内閣）が組織される。

問2 イ

25歳になって立候補できるのは、衆議院議員、都道府県議会議員、市町村議会議員、市町村長である。参議院議員と都道府県知事は、30歳以上で立候補できる。

問3 イ

衆議院議員選挙の小選挙区制では候補者名を、比例代表制では政党名を書いて投票する。

公民全国答練 選挙

80点以上が合格！41～79点は再テスト！40点以下は宿題プレゼント！

第18回

問1 各10点 問2 50点 問3 30点

問1 下線部③について、(1)、(2)の問いに答えなさい。 2013 熊本

(1) 選挙が行われた結果、内閣を組織して政権を担当する政党を という。また、政権が複数の政党によって担当される場合を 政権という。

, に当てはまる語をそれぞれ書きなさい。

点

(2) 18表は、ある県の衆議院小選挙区ごとの有権者数を示したものである。一票の価値が最も高い選挙区を、18表の1区～5区から選んで書きなさい。

18表

衆議院小選挙区	1区	2区	3区	4区	5区
有権者数(人)	416998	272859	248295	400730	294868

(平成23年9月2日現在「総務省資料」による)

問2 下線部cに関連して、選挙は国民が政治に参加する重要な機会であり、政治の方向性を決める上で大切な意義をもっている。表3は、選挙区ごとの有権者数と議員数の割合ができるだけ均等になるように、議員数を改正したものである。このような問題を何というか答えよ。2014 沖縄

表3 参議院選挙区議員数と有権者数

府県	有権者数(人)	議員数	
		改正前	改正後
神奈	7,367,375	6	8
大	7,130,227	6	8
福	1,627,518	4	2
岐	1,684,766	4	2

(※有権者数は、2012年9月2日現在 総務省)

問3 資料Ⅲをもとに、次の説明文の に適切な数字を書きなさい。また、 に入る適切な記号をX～Zから、 に入る最も適切なものを下のア～エから、それぞれ1つずつ選び、記号で答えなさい。2014 宮崎

資料	ある3県の有権者数と議員	
	有権者数	議員数
X県	150万人	3人
Y県	600万人	4人
Z県	420万人	3人

由香さんの説明文(一部)

資料Ⅲをもとに、X、Y、Zの各県を比較すると、議員一人あたりの有権者数の格差は最大で 倍となり、一票の持つ価値は 県が最も高いことがわかります。このことについては、日本国憲法の に違反しているのではないかと議論されています。

ア 法の下での平等

イ 生存権

ウ 教育を受ける権利

エ 個人の尊重と公共の福祉

公民全国答練 選挙

80点以上が合格！41～79点は再テスト！40点以下は宿題プレゼント！

第18回解答

問1

(1) a 与党 b 連立 (政権)

政権を担当する政党を与党，それ以外を野党という。一つの政党で議会の過半数を占めることができない場合などに，連立政権がつくられる。

(2) 選挙区 (3) 区

小選挙区制では1つの選挙区から一人を選出するので，各選挙区の議員定数は1である。一票の価値が最も高いのは，18表で有権者数が最も少ない3区，一票の価値が最も低いのは，有権者数が最も多い1区である。

問2 一票の格差

選挙区によって議員1人あたりの有権者数に差が生じている問題を，一票の格差といい，憲法で定めている法の下での平等に反するという意見がある。

問3 ①3 ②X ③ア

議員一人あたりの有権者数は，有権者数÷議員数で求める。X県は50万人，Y県は150万人，Z県は140万人となり，格差は最大で150万÷50万より3倍となる。議員一人あたりの有権者数が少ないほど，一票の持つ価値は高い。

公民全国答練 選挙

80点以上が合格！41～79点は再テスト！40点以下は宿題プレゼント！

第19回

問1 30点 問2 50点 問3 20点

点

次の文章を読んで、後の問いに答えなさい。2014 東京学芸大附属

(ア)2013年の夏には、参議院議員選挙がおこなわれ、選挙戦がくり広げられた。選挙方法は(イ)法律により細かく定められており、街頭演説の方法や選挙ポスターの枚数などが規定されている。これまで何回も改正されており、(ウ)この2013年の参議院議員選挙も一部改正された形で実施された。

(エ)参議院議員選挙は、都道府県単位でおこなう選挙区選挙と、全国一区の比例代表選挙でおこなわれている。参議院の選挙区選挙では、ひとつの選挙区での当選者が5名のところもあれば、1名のところもあり、大選挙区制と小選挙区制が並立している。ひとつの選挙において複数の選挙制度が混在しており、専門家はこのような状態を「選挙制度のデパート」と呼んでいる。このように選挙のルールは複雑であるが、選挙が適正におこなわれるよう法律が定められている。また、国政選挙には(オ)一票の格差をめぐる問題もあり、改善が求められている。

問1 下線部(イ)の法律名を漢字で答えなさい。

問2 下線部(ウ)について、2013年の参議院議員選挙で認められるようになった行為を、次のうちから1つ選びなさい。

- (1) インターネットによる選挙運動が解禁された。
- (2) 未成年による選挙運動が解禁された。
- (3) 候補者が戸別に訪問することが解禁された。
- (4) 候補者の人気投票をおこなうことが解禁された。

問3 下線部(エ)に関して、次の図は、参議院の比例代表方式で立候補した者の選挙カーをイラスト化したものである。なぜ、図のような看板にしているのか。衆議院議員比例代表選挙と比較して40字以内で説明しなさい。



公民全国答練 選挙

80点以上が合格！41～79点は再テスト！40点以下は宿題プレゼント！

第19回解答

問1 公職選挙法

選挙権や被選挙権，選挙制度など，選挙について定めた法律は，公職選挙法である。

問2 (1)

2013年の参議院議員選挙前に公職選挙法が改正されて，インターネットを利用した選挙運動ができることになった。

問4 衆議院では政党に投票するが，参議院では政党と候補者のどちらに投票してもよいから。

衆議院議員選挙の比例代表は拘束名簿式で，有権者は政党名を書いて投票するが，参議院議員選挙の比例代表方式は非拘束名簿式で，有権者は政党名か候補者名のどちらかを書いて投票する。

公民全国答練 選挙

80点以上が合格！41～79点は再テスト！40点以下は宿題プレゼント！

第20回

問1 各20点 問2 各20点 問3 20点

点

問1 Aのテーマについて、次の①、②の問いに答えなさい。2015新潟

① 我が国では、財産や性別に関係なく、満20歳以上の国民には、選挙権が憲法によって保障されている。このようなしくみを何というか。その用語を書きなさい。

② 右の表は、衆議院議員選挙における二つの小選挙区の有権者数を示したものである。このとき、東京都第5区における一票の価値は、長崎県第3区と比較してどのようにになっているか、書きなさい。

小選挙区の有権者数

選挙区	有権者数(人)
東京都第5区	482,460
長崎県第3区	241,368

(平成25年総務省ホームページによる)

問2 次の文を読んで、あとの(1)、(2)の問いに答えよ。2014長崎

国民が政治に参加する権利を という。そのなかには、③選挙権や被選挙権などがある。

(1) にあてはまる語を書け。

(2) 下線部③に関して、表は衆議院議員総選挙と参議院議員通常選挙の実施年を示したものである。参議院議員通常選挙が定期的を実施されているのに対して、衆議院議員総選挙が定期的には実施されていないのはなぜか。その理由を衆議院議員の任期にふれながら、簡潔に書け。

表 1996年以降の衆議院議員総選挙と参議院議員通常選挙の実施年

衆議院議員総選挙		参議院議員通常選挙	
回	実施年	回	実施年
第41回	1996年	第18回	1998年
第42回	2000年	第19回	2001年
第43回	2003年	第20回	2004年
第44回	2005年	第21回	2007年
第45回	2009年	第22回	2010年
第46回	2012年	第23回	2013年

(総務省資料から作成)

問3 選挙における原則は次のようにまとめられる。文中の にあてはまる語句を書きなさい。

20歳以上の国民なら原則として投票できる …普通選挙

1人1票をもつ …選挙

無記名で投票する …秘密選挙

有権者が直接投票する …直接選挙

公民全国答練 選挙

80点以上が合格！41～79点は再テスト！40点以下は宿題プレゼント！

第20回解答

問1

①普通選挙

一定の年齢に達したすべての人に選挙権を認めるしくみを普通選挙という。逆に、財産や身分、性別などによって選挙権に制限を加える選挙を制限選挙という。

②（正答例）東京都第5区は、長崎県第3区と比べて、一票の価値は約半分である。

小選挙区は、1つの選挙区から1人の議員を選ぶ選挙制度である。東京都第5区は482,460人で1人の議員を選出するが、長崎県第3区は、その約半分の241,368人で1人の議員を選出できる。

問2

（1）参政権

政治に参加する権利を参政権といい、選挙権、被選挙権のほか憲法改正の国民投票権や最高裁判所裁判官の国民審査権などがある。

（2）衆議院議員の任期は4年であるが、任期の途中で衆議院は解散されることがあるから。

衆議院議員の任期は4年だが、衆議院には解散があるので、任期の途中で解散・総選挙が行われることもある。そのため、衆議院議員総選挙は必ずしも4年ごとに行われるわけではない。

問3 平等