

公民全国答練 経済・企業

80点以上が合格！41～79点は再テスト！40点以下は宿題プレゼント！

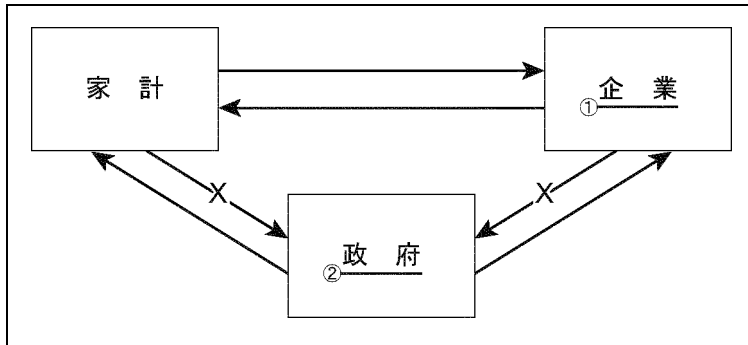
第1回

各20点

点

問1 図2は、家計、企業、政府の経済活動の関係を示したものです。この図を見て、次の(1)～(3)に答えなさい。
2015 北海道

図2



(1) Xの経済活動に関して、わが国の所得税や法人税などのように、税金を納める人と税金を負担する人が一致する税金を何といいますか、書きなさい。

(2) 下線部①について、次の文の に共通して当てはまる語句を書きなさい。

企業のうち、 を発行することにより、利潤をあげるために必要な多額の資金を、多くの人から集める形態の企業を 会社という。

(3) 下線部②には、企業の経済活動における自由な競争を促進し、消費者の利益を確保する目的で制定された独占禁止法の運用を担当する委員会が置かれています。この委員会の名を書きなさい。

問2 株主が企業から受け取る利潤の一部は何ですか。次のア～エのうちから一つ選び、その記号を書きなさい。

2015 岩手

ア 資本 イ 利子 ウ 賃金 エ 配当

問3 次のア～エのうち、製造物責任法（PL法）について述べているものはどれですか。一つ選び、その記号を書きなさい。2015 岩手

- ア 消費者の利益を守るために企業に対して公正な競争を促すことを定めた法律である。
- イ 企業の過失を立証できなくても、損害賠償の請求ができることを定めた法律である。
- ウ 国や地方公共団体、企業や国民に対する環境保全のための責務を定めた法律である。
- エ 消費者の権利を明確にし自立を支援するため行政や企業の責務を定めた法律である。

公民全国答練 経済・企業

80点以上が合格！41～79点は再テスト！40点以下は宿題プレゼント！

第1回解答

問1

(1) 直接税

税金を納める人と負担する人が一致する税を直接税，税金を納める人と負担する人が異なる税を間接税という。

(2) 株式

株式を発行することで多くの人から資金を集める形態の企業を，株式会社という。私企業の代表的な企業の1つである。

(3) 公正取引委員会

企業の自由な競争を促進するために，1947年に定められたのが独占禁止法である。この法を運用するための機関は，公正取引委員会である。

問2 エ

株主は，出資額に応じて利潤の一部を配当として受け取る。

問3 イ

製造物責任法（PL法）は，消費者が製品の欠陥で被害を受けたときに，企業に救済を義務づけた法律。アは独占禁止法，ウは環境基本法，エは消費者基本法。

公民全国答練 経済・企業

80点以上が合格！41～79点は再テスト！40点以下は宿題プレゼント！

第2回

問1 各15点 他 各20点

点

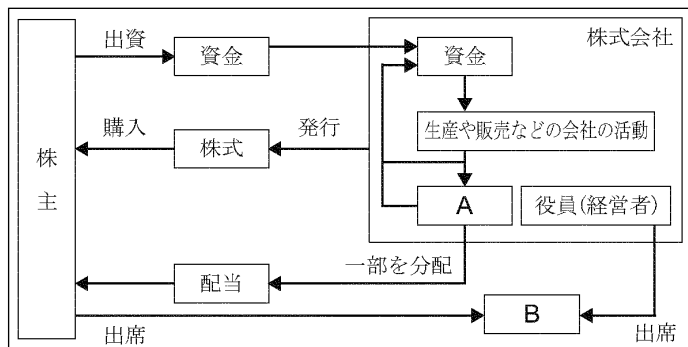
下は、ある生徒が授業で、「日本の企業と労働」についてまとめたものである。これを読んで、次の問1～問4に答えなさい。2015 青森

企業と株式会社	<ul style="list-style-type: none">・㊦株式会社は、株式の発行によって得られた資金をもとに設立される㊧企業である。・広大な市場を求めて、海外の国々に現地籍の企業をつくる（㊨）企業がある。
労働者の権利	<ul style="list-style-type: none">・労働者には、㊩団結して労働組合をつくる権利（団結権）などが、憲法や法律で保障されている。

問1 下の資料は、㊦ _____ のしくみを表している。これを見て、次のア～エに答えなさい。

ア ㊦ _____ は、 を得ることを目的として生産活動を行う。 にあてはまる語を書きなさい。

資料



イ ㊦ _____ では、経営方針や配当の決定、役員を選任などのために、 を開く。 にあてはまる語を書きなさい。

ウ 東京、名古屋、福岡などに設けられ、株式や債券を売買する特定の場所を何というか、書きなさい。

エ ㊦ _____ の株価の変動について説明した下の文章中の に入る適切な内容を書きなさい。

X社の開発した携帯電話が、1回の充電で長時間使用できるということで消費者の間で話題になり、ヒット商品となった。X社の業績はよい方向に進むと考えられるので、人々は配当が増加すると予想し、 ため、株価は上がる。

問2 ㊧ _____ について述べた文として適切でないものを、次の1～4の中から一つ選び、その番号を書きなさい。

- 1 年功賃金にかえて、能力主義、成果主義の賃金を導入する企業が増えてきた。
- 2 教育、文化、環境保全などにおいて積極的に社会貢献を行っている企業がある。
- 3 企業の価格競争をうながすために、消費者基本法が制定されている。
- 4 中小企業の中にも、大企業に引けをとらない技術力をもつ企業が少なくない。

問3 (㊨) にあてはまる語を、漢字3字で書きなさい。

公民全国答練 経済・企業

80点以上が合格！41～79点は再テスト！40点以下は宿題プレゼント！

第2回解答

問1

ア 利潤

資本主義経済は、利潤を得ることを目的に生産活動を行う企業を中心に営まれる。利潤を目的とする企業を特に私企業といい、株式会社はその中の一つの形態で、大規模な企業が多い。

イ 株主総会

株主が出席する最高議決機関を株主総会といい、株主は経営方針などについての議決権をもつ。

ウ 証券取引所

証券取引所では、株式や債券などの有価証券が売買される。東京・名古屋・福岡・札幌・ジャスダックなどがある。

エ (例) 株式を購入したいという人が増える

配当とは、会社があげた利潤のうち、株式数に応じて株主に分配される部分のこと。会社の業績が上がれば配当も増加するので、株式を買おうとする人が増える。買う人が増えれば、株価は上がる。

問2 3

消費者基本法は、消費者の権利を尊重し支援するための法律である。この説明は、独占禁止法のせつめいである。

問3 多国籍

多国籍企業は、複数の国に工場・販売店・支社・子会社をつくり、利潤の最大化をはかっている。

公民全国答練 経済・企業

80点以上が合格！41～79点は再テスト！40点以下は宿題プレゼント！

第3回

問1 各10点 問2 40点 問3 1つ20点

点

全て2015秋田より

資料1

○企業に関する主なお金の流れ

○企業が納める主な税金

- ・企業は、家計と同じ税金の他に **あ** などの税金を納めている。

●1班が調べて分かったこと

- ・ **あ** の比較

日本の税率は、日本企業の進出数が多い東南アジアの国々に比べて高い。

<各国の税率>

日本(34.6%), ベトナム(25.0%)
タイ(20.0%), シンガポール(17.0%)
(平成25年度財務省資料などから作成)

問1 資料1の ア～エから、直接金融にあてはまるお金の流れを示すものを、二つ選んで記号を書きなさい。

問2 資料1の **あ** にあてはまる税金を、一つ選んで記号を書きなさい。ただし、**あ** には同じ語が入る。

- ア 相続税 イ 法人税 ウ 所得税 エ 消費税

資料2

○消費者問題と行政機関の主な取り組み

●2班が調べて分かったこと

- ・ **図1** から読みとれる消費者問題の状況

相談の総件数と高齢者の相談割合の推移に、秋田県の状況が表れている。

- ・ 秋田県生活センターが実施した講座

2011年度に**㊦**実施した講座のうち、約20%は、高齢者を対象に行っている

問3 資料2の下線部**㊦**が公正に行われるよう、国が企業に対して求めている内容として適切なものを、二つ選んで記号を書きなさい。

- ア 安全な商品を生産すること イ 商品の流通を合理化すること
ウ 商品の売り上げをのばすこと エ 商品の情報を正確に表示すること

公民全国答練 経済・企業

80点以上が合格！41～79点は再テスト！40点以下は宿題プレゼント！

第3回解答

問1 ア、イ

直接金融とは、企業が株式などの発行によって直接的に資金を集める方法である。よって、**ア・イ**があてはまる。**ウ・エ**のように、銀行を仲立ちとした資金の貸し借りは間接金融にあたる。

問2 イ

企業などの法人の所得にかけられる税金は法人税である。**ア**は相続した財産にかけられる直接税、**ウ**は個人の所得にかけられる直接税、**エ**は財やサービスの価格にかけられる間接税である。

問2 ア、エ

国（行政）は、消費者を保護するために、企業に対して商品の安全性や情報開示などを求める。**イ・ウ**は、企業が利潤を求めて行う内容である。

公民全国答練 経済・企業

80点以上が合格！41～79点は再テスト！40点以下は宿題プレゼント！

第4回

各20点

点

問1 次の [] の文中の [a] , [b] に当てはまる語の組み合わせを、下のア～エの中から一つ選んで、その記号を書きなさい。また、 [あ] に当てはまる語を書きなさい。2014 茨城

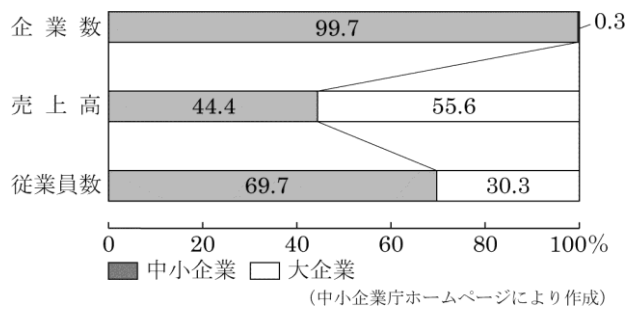
ある株式会社が商品の売り上げを増やして利潤をあげた場合、[a] は会社の利潤から配当金(配当)を受け取ることができる。また、株式は株式市場で売買することができる。事業内容のよい会社の株式は、買い手(需要)が増えて株式の価格(株価)が [b] する傾向がある。
[a] は株式会社の経営方針や利潤の分配などを決定する [あ] に出席することができる。

- ア [a 労働者 b 上昇] イ [a 株主 b 上昇]
ウ [a 労働者 b 下落] エ [a 株主 b 下落]

資料 I

中小企業の中には新しい技術やアイデアに基づいて事業を起こした [A] が増えています。[A] としてスタートした企業の中には事業を発展させ、大企業へと成長した会社もあります。

資料 II 日本経済における中小企業と大企業の割合



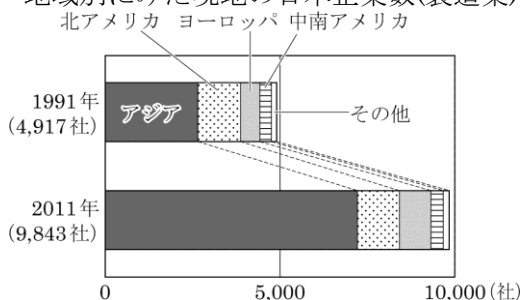
問2 中小企業に関して、資料 I、資料 II は、良二さんが調べたことをまとめたものである。次の①、②の問いに答えなさい。2015 群馬

- ① 資料 I の [A] に当てはまる語を書きなさい。
② 資料 II からわかる、日本経済における中小企業の特徴を、大企業と比較して、簡潔に書きなさい。

問3 仕事の結果に応じて給料を支払う考え方を何というか、書きなさい。2015 群馬

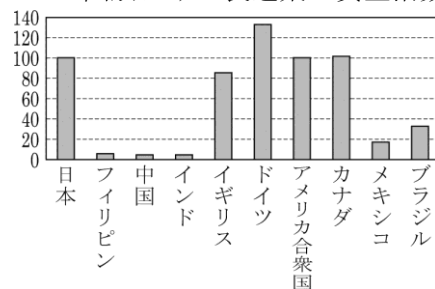
問4 グローバル化について、日本企業(製造業)の海外進出に関連するグラフ1とグラフ2をみつけました。グラフ1とグラフ2を読みとり、日本企業(製造業)がどの地域へ最も多く進出したかを、その理由とともに書きなさい。2014 埼玉

グラフ1 地域別にみた現地の日本企業数(製造業)



(「海外進出企業総覧」から作成)

グラフ2 国別にみた製造業の賃金指数(2011年)



(世界国勢図会 2013/14年版から作成)

公民全国答練 経済・企業

80点以上が合格！41～79点は再テスト！40点以下は宿題プレゼント！

第4回解答

問1 記号：イ 語：株主総会

株式を購入した人を株主という。会社の業績が伸びて買い手（需要）が増えると、株価は上がる。株主は、配当金を受け取り、また会社の経営方針などを決める株主総会に出席することができる。

問2

① ベンチャー企業

新しい技術やアイデアに基づき事業を行う企業を、ベンチャー企業という。

② (例) 大企業と比べ、企業数と従業員数は多いが、売上高は少ない。

企業数と従業員数は中小企業が大企業を上回っているが、売上高は大企業の方が多くなっている。

問3 成果主義

仕事の成果に応じて給料が決まるという考え方を、成果主義という。かつての日本では、勤務年数に応じて給料が上がっていく、年功賃金が一般的だった。

問4 (例) 賃金が安いので、アジア地域へ最も多く進出した。

グラフ1で、日本企業（製造業）が最も多く進出しているのはアジア。グラフ2で、フィリピン、中国、インドといったアジアの国の製造業の賃金は日本と比べてかなり安い。これらの国では、日本国内よりも人件費が抑えられる。

公民全国答練 経済・企業

80点以上が合格！41～79点は再テスト！40点以下は宿題プレゼント！

第5回

問1 各20点 問2 各10点 問3 30点

点

問1 次の文中の E , F に当てはまる用語を、それぞれ書きなさい。2013 新潟

国や地方公共団体が経営する公企業に対し、利潤を目的とする民間企業は E とよばれる。このうち、F を発行して出資者から資金を集める会社を F 会社という。

問2 企業について、あとの①～⑤の問いに答えなさい。2014 新潟

① 我が国の企業について、表1は企業数の割合を、表2は従業者数の割合をそれぞれ示したものである。表中のc～fは、大企業、中小企業のいずれかである。c～fに当てはまる語句の組合せとして、最も適当なものを、次のア～エから一つ選び、その符号を書きなさい。

表1 企業数の割合 (%)

	c	d
企業数 (約 421 万社)	99.7	0.3

表2 従業者数の割合 (%)

	e	f
従業者数 (約 4,013 万人)	69.4	30.6

(表1, 表2とも中小企業庁ホームページによる)

- ア [c 大企業, d 中小企業, e 大企業, f 中小企業]
- イ [c 大企業, d 中小企業, e 中小企業, f 大企業]
- ウ [c 中小企業, d 大企業, e 大企業, f 中小企業]
- エ [c 中小企業, d 大企業, e 中小企業, f 大企業]

② 企業の公正かつ自由な競争を促進するために制定され、公正取引委員会によって運用されている法律を何とよぶか。次のア～オから一つ選び、その符号を書きなさい。

- ア 労働基準法
- イ 製造物責任法
- ウ 独占禁止法
- エ 環境基本法
- オ 消費者基本法

③ 企業による経済活動について述べた次の文中の g に当てはまる語句として、最も適当なものを、下のア～オから一つ選び、その符号を書きなさい。


政府がもつ許認可権の見直しを行うことなどにより、企業にできることは企業に任せ、企業による経済活動の範囲を広げるために g が進められている。

- ア 地方分権
- イ 規制緩和
- ウ 情報公開
- エ 終身雇用
- オ 公共投資

問3 (a)銀行のはたらきについて、右の図を

参考にして説明しなさい。2014 富山

図 銀行のはたらき



公民全国答練 経済・企業

80点以上が合格！41～79点は再テスト！40点以下は宿題プレゼント！

第5回解答

問1 E 私企業 F 株式会社

公企業に対し、利潤を目的に生産する企業は私企業という。私企業の代表的な形態が、株式の発行によって資金を集める株式会社である。

問2

①エ

企業数の割合が90%以上のcが中小企業、dが大企業。従業者数では70%近くを占めるeが中小企業、fが大企業。

②ウ

企業の公正かつ自由な競争を促進するために定められた法律は独占禁止法で、その運用を行っているのが、公正取引委員会である。

③イ

許認可権の見直しなど、政府によるさまざまな規制をゆるめることを規制緩和という。

問3 銀行は、家計や企業を預金と貸し付け（貸し出し）によって仲介している。

銀行は資金に余裕のある家計や企業から預金を受け入れ、資金を必要とする家計や企業に貸し付けを行う。


公民全国答練 経済・企業

80点以上が合格！41～79点は再テスト！40点以下は宿題プレゼント！

第6回

問1 20点 問2 30点

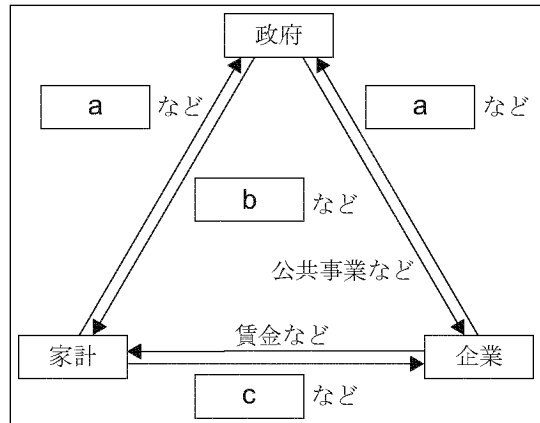
問3 各15点 問4 20点



点

問1 次の図は、政府、家計、企業とそれぞれの間の経済的結びつきについて表したものである。図中の **a** ～ **c** に当てはまる語句の組合せとして、最も適当なものを、下のア～カから一つ選び、その符号を書きなさい。2015 新潟

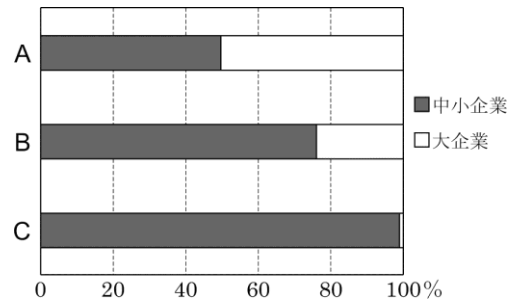
- ア [a 税金, b 社会保障, c サービス]
- イ [a 税金, b 利潤, c 労働力]
- ウ [a 税金, b 社会保障, c 労働力]
- エ [a 補助金, b 利潤, c サービス]
- オ [a 補助金, b 社会保障, c サービス]
- カ [a 補助金, b 利潤, c 労働力]



問2 多くの国に拠点を持ち、国境を越えて生産活動を行う企業のことを何というか、書きなさい。2015 石川

問3 右の資料は、中小企業と大企業の割合を比較したもので、A～Cは、事業所数、従業者数、出荷額のいずれかである。事業所数と出荷額に適するものを、A～Cからそれぞれ選んで記号で書け。2014 福井

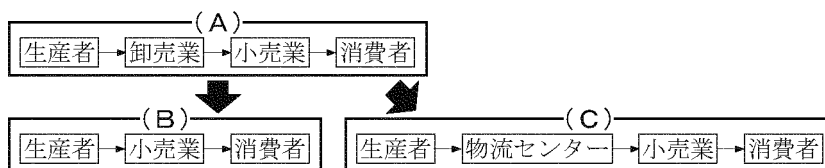
事業所数： 出荷額：



問4 コンビニエンスストアやスーパーマーケットについて、以下の問いに答えなさい。

① 現在、流通のしくみは下図の (A) から (B) や (C) へ変化している。その理由を次の語を使って説明しなさい。2013 富山

[費用 流通]



② 現在、これらの店では商品を販売するだけでなく、銀行預金の引き出しができるところもある。これは、政府が自由な経済活動を推進したからである。このような動きを何というか、次のア～エから適切なものを1つ選び、記号を書きなさい。

- ア 公的扶助
- イ 情報公開
- ウ 規制緩和
- エ 設備投資

公民全国答練 経済・企業

80点以上が合格！41～79点は再テスト！40点以下は宿題プレゼント！

第6回解答

問1 ウ

家計と企業は政府に税金を納め、政府はその税金をもとに、家計に社会保障を提供したり、企業に公共事業の補助金を交付したりする。また、家計は企業に労働力を提供して、賃金を得る。

問2 多国籍企業

多くの国に営業所や工場などを置き、世界的に生産活動を行う企業を、多国籍企業という。

問3 事業所数：C 出荷額：A

中小企業の割合が90%以上を占めているCが事業所数、ほぼ50%を占めているAが出荷額を表している。大企業は、事業所数は少ないが、出荷額は多い。

問4

①流通にかかる費用をおさえるため。

流通にかかる費用を抑えるために、流通経路が合理化されている。

②ウ

自由な経済活動を促進するために、政府による許可や手続きなどのさまざまな規制を廃止したり簡略化したりすることを、規制緩和という。

公民全国答練 経済・企業

80点以上が合格！41～79点は再テスト！40点以下は宿題プレゼント！

第7回

問1 各20点 問2 20点 問3 各10点

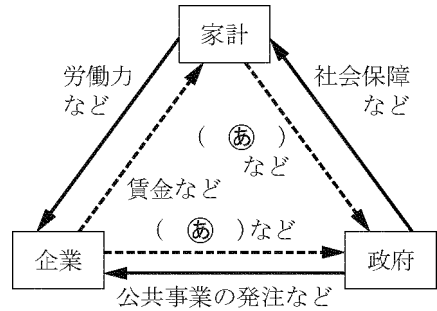
点

問1 経済に関する問いに答えなさい。2014 静岡

a 図10は家計、企業、政府とそれぞれの間の経済的な結びつきを表したものである。図中の→は、ものやサービスの流れを、---▶は、お金の流れをそれぞれ示している。次のア～エの中から、図中の(㊸)に当てはまるものを1つ選び、記号で答えなさい。

- ア 社会資本 イ 税金
- ウ 配当金 エ 補助金

図10



b 次のア～エの中から、企業についての説明として誤っているものを1つ選び、記号で答えなさい。

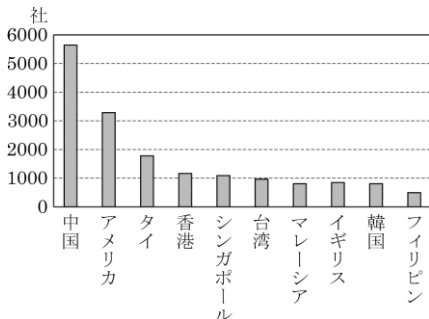
- ア 株式会社は、株式の発行で資金を集めて経営する企業である。
- イ 企業は、その資本金の大きさによって、公企業と私企業とに分けられる。
- ウ 多国籍企業とは多くの国に拠点をもち、世界規模で活動している企業である。
- エ 企業の経営者側は、労働者が結成した労働組合と、さまざまな交渉をすることがある。

問2 現代の企業は、法令を守ったり、情報公開を行ったりするのはもちろん、教育、文化、環境保全などにおいても積極的に取り組んでいる。これらの活動は何に基づく活動か、解答欄にあわせて漢字5字で書け。

2015 福井 企業の ()

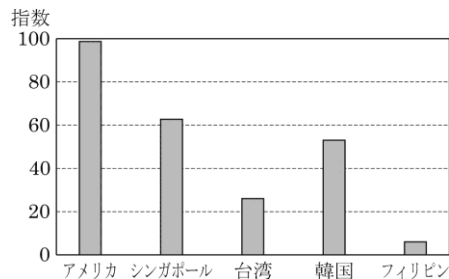
問3 グローバル化にかかわって、武志さんは資料3, 4を集め、考察した。考察のい～おに当てはまる適切な地域名や語句を、それぞれ書きなさい。2014 長野

資料3 日本企業の主な海外進出先と企業数 (2011年)



(「データブックオブザワールド」より作成)

資料4 製造業労働者の賃金の比較(2011年) [日本を100とした場合]



(「世界国勢図会」より作成)

公民全国答練 経済・企業

80点以上が合格！41～79点は再テスト！40点以下は宿題プレゼント！

[考察] 資料3から日本の企業は **い** 州を中心に海外進出していることがわかる。また、資料4から **い** 州の国や地域は、日本に比べ賃金が **う** ことがわかる。私企業の活動の主な目的は、商品の生産や販売によって **え** を得ることなので、日本では製造業を中心に企業が海外の生産性の高い地域へ進出している。その結果、国内の工場が閉鎖されるなどの産業の **お** 化が進んでいる。グローバル化の中で日本の企業のあり方が変わってきている。

い：

う：

え：

お：

第7回解答

問1

a イ

㊦ は、家計や企業から政府へと向いているお金の流れだから、税金を表している。家計が負担する税金には所得税など、企業が負担する税金には法人税などがある。

b イ

公企業は利潤追求を目的としない、国や地方公共団体が運営する企業、私企業は、利潤をあげることを目的とする民間企業である。

問2 社会的責任

教育や文化活動の支援、環境保全の努力などは、企業の社会的責任にもとづく活動である。

問3

い：アジア（州）

アメリカ、イギリス以外はアジア州の国・地域である。

う：安い ※「低い」「安価である」等も正答とする。

シンガポール、台湾、韓国、フィリピンの賃金は、いずれも日本よりかなり安い。

え：利潤 ※「利益」「もうけ」等も正答とする。

私企業の目的は利潤を得ることである。

お：空洞（化）

工場の海外移転が進むと、国内では工場が閉鎖されるなど産業が衰退していく。これを産業の空洞化という。

公民全国答練 経済・企業

80点以上が合格！41～79点は再テスト！40点以下は宿題プレゼント！

第8回

問1と問3 10点 他各20点

点

問1 コンビニエンスストアなどの小売店も企業であり、各種のサービスを生産している。資本主義経済において、企業の生産活動の主な目的は何か、書きなさい。2013 石川

問2 次の文は、市場における①生産者をはじめとする企業間の競争について述べたものである。文中の（ ）にあてはまる最も適切なことばを、漢字2字で書きなさい。2015 愛知

日本では、市場における企業間の競争を促すために（ ）禁止法が制定され、この法律にもとづいて、不当な競争が行われないように監視する公正取引委員会が設置されている。

問3 ③小売業者に関して述べた文として誤っているものを、次のアからエまでの中から一つ選んで、そのかな符号を書きなさい。2015 愛知

- ア スーパーマーケットの中には、卸売業者を介さないで仕入れた商品などを販売する店がある。
- イ 多くのコンビニエンスストアは、販売情報を管理するためのシステムを導入している。
- ウ インターネットによる通信販売が普及し、小売業者を含めた流通のしくみに変化している。
- エ 訪問販売により商品を購入した人が小売業者との契約を取り消すことは、一切できない。

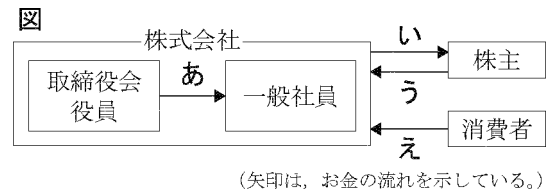
問4 ②会社について述べた次の文章中の（ ）にあてはまる最も適切なことばを、漢字2字で書きなさい。なお、文章中の2か所の（ ）には、同じことばがあてはまる。2014 愛知

多くの個人や法人から大量の資金を集めるために（ ）を発行し、それによって得た資金をもとに経営にあたる会社のことを、（ ）会社という。出資者は、利潤の一部を配当として受け取ることができる。

公民全国答練 経済・企業

80点以上が合格！41～79点は再テスト！40点以下は宿題プレゼント！

問5 A班は、企業を訪問して会社のしくみや取り組みについて調べた。図はしくみをまとめたものであり、資料1は、企業の方が説明された言葉の一部である。株式会社の「配当（金）」にあてはまる流れを、図の矢印あ～えから1つ選びなさい。2013 滋賀



問6 企業に関し、国や地方公共団体が経営する、利潤（利益）を得ることを目的としない企業を何といいますか、書きなさい。2014 和歌山

第8回解答

問1 利潤を得ること。

資本主義経済では、企業は利潤を得ることを目的に生産活動を行う。

問2 独占

少数の企業が市場を支配すると競争が弱まり、消費者は不利益を受ける可能性がある。市場における企業間の自由な競争を促すために、1947年に独占禁止法が制定された。

問3 エ

訪問販売や電話勧誘販売などで商品を購入した場合は、クーリングオフの制度により、一度結んだ契約を解除できることがある。イのシステムはPOSシステムと呼ばれている。

問4 株式

株式を発行することで資金を集めて経営する会社を株式会社といい、私企業の代表的な形態である。

問5 い

配当（金）は、出資者である株主が企業の利潤の一部を受け取るものだから、いがあてはまる。

問6 公企業

国や地方公共団体が経営する利潤を目的としない企業を公企業、株式会社のように利潤を目的とする企業を私企業という。

公民全国答練 経済・企業

80点以上が合格！41～79点は再テスト！40点以下は宿題プレゼント！

第9回

問1 (1) 各15点 (2)～(4) 各10点

問2・問3 各20点

点

問1 家計、企業、政府の結びつきに関する次の問いに答えなさい。2014 兵庫

(1) 図3は、家計、企業、政府の結びつきを示したものである。

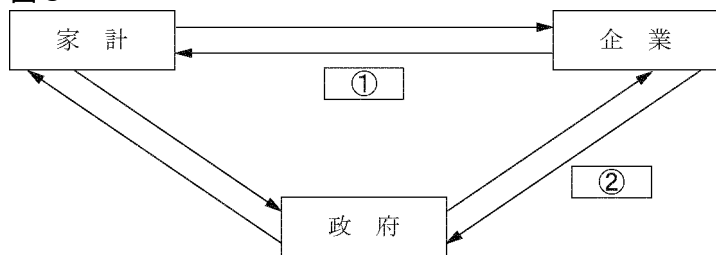
①

②に入るものとして適切なものを、次のア～エから1つずつ選んで、その符号を書きなさい。

ア 労働力 イ 賃金

ウ 税金 エ 公共サービス

図3



①:

②:

(2) 図3中の政府に関して、企業の健全な競争を維持するための独占禁止法を運用する機関を何というか、書きなさい。

(3) 図3中の企業に関して、企業の多くが株式会社という形態をとっている。株式会社のしくみにおいて、株式を所有している人が出席し、事業の基本方針や経営者の選出などを行う機関を何というか、書きなさい。

(4) 図3中の企業について述べた文として適切なものを、次のア～エから1つ選んで、その符号を書きなさい。

ア 企業は資金を調達するとき、銀行などの金融機関を通してお金のやり取りを行うが、このしくみを直接金融という。

イ 企業の規模において、日本の製造業における中小企業の事業所数は、全体のうちの半数以下である。

ウ 企業の多くは、利益を得ることを目的として自由に設立できる公企業であるが、国や地方公共団体が資金を出して経営する私企業もある。

エ 現代の企業は利潤を大きくするだけでなく、よりよいものを安く提供することや雇用を守ることなどの社会的責任を負っている。

問2 企業から消費者に、ある一つの商品が販売されるまでの流通経路において、いくつもの卸売業者を経由するしくみから、一つの卸売業者を経由するしくみに変わると、消費者に販売される商品の価格は、一般的にどうなるか。その理由を含め、簡潔に説明しなさい。2013 山口

公民全国答練 経済・企業

80点以上が合格！41～79点は再テスト！40点以下は宿題プレゼント！

問3 次の文は、企業の社会的責任について述べたものであり、文中の（ ）には同じ語が入る。（ ）に入る適切な語を答えなさい。2013 山口

1992年の、環境と開発に関する国連会議「地球サミット」では、「（ ）な開発」をめざす宣言が採択された。現在の世代の幸福と将来の世代の幸福とを両立させることのできる「（ ）な社会」の実現に向けて、企業は利潤の獲得だけでなく、環境にも配慮した活動が求められている。

第9回解答

問1

(1) ①イ ②ウ

① 家計は企業に労働力を提供し、賃金を受け取る。② 企業は政府に税金を納める。

(2) 公正取引委員会

企業の健全な競争を維持するために独占禁止法が定められ、公正取引委員会が運用している。

(3) 株主総会

株式を所有している人を株主という。株主は、事業方針の決定や経営者の選出などを行う株主総会の議決権をもつ。

(4) エ

ア 金融機関を通して行われる金融は間接金融である。

イ 中小企業の事業所数は、全体の90%以上を占めている。

ウ 利益を得ることを目的とする企業は私企業、国や地方公共団体が設立する利益を目的としない企業を公企業という。

問2 流通にかかる費用が減るため、消費者に販売される商品の価格は下がる。

複数の卸売業者を経由するよりも、一つの卸売業者を経由する方が、流通にかかる費用が安くすむことから、商品の価格も安くなる。

問3 持続可能

将来の世代と現代の世代の幸福を両立させる社会を、持続可能な社会という。

公民全国答練 経済・企業

80点以上が合格！41～79点は再テスト！40点以下は宿題プレゼント！

第10回

問1 各10点 他各20点

点

問1 株式に関する説明である。文中の（あ）には、あてはまる語句を書き、（い）には、最も適切なものをア～エから選びなさい。2014 徳島

株式会社においては、株式をもっている個人や法人を（あ）という。会社が利益をあげると、（あ）はもっている株式の数に応じて、利潤の分配としての（い）を受けとる。

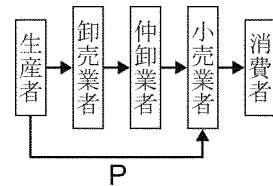
ア 利子 イ 配当 ウ 賃金 エ 預金

あ： い：

問2 企業は利潤を得るために生産活動をおこない、働く人に職場を提供しているが、なかには、生産活動以外にも、社会に貢献し社会的責任を果たすための活動をおこなっている企業がある。企業がおこなっている社会貢献に関する活動にはどのようなものがあるか。具体的に一つ書け。2014 香川

問3 農産物直売所では、図のPの流通経路を使うことで、消費者にとっていくつかの利点をもたらしている。その利点の一つを書け。2014 福岡

図 農産物の流通経路



問4 日本の企業が生産拠点を海外に移すことは企業にとってどのような利点があるか、簡潔に書きなさい。2014 佐賀

公民全国答練 経済・企業

80点以上が合格！41～79点は再テスト！40点以下は宿題プレゼント！

問5 経済のグローバル化について説明したものとして誤っているものを、次のア～エの中から一つ選び、記号を書きなさい。2015 佐賀

- ア 輸送技術などが発達し、海外の野菜等も新鮮な状態で輸入されるようになってきた。
- イ 日本で働く外国人労働者の増加要因の一つに、南北問題もあると考えられている。
- ウ 貿易自由化により、すでに日本では全ての輸入品において関税が撤廃されている。
- エ 有明佐賀空港では国際線も運航されるようになり、海外からの旅行者が増加している。

第10回解答

問1 あ：株主 い：イ

株式をもっている個人や法人を株主といい、株主は会社の利益の一部を配当として受けとる。

問2 (解答例) 植林などの環境保全活動、美術館の設立などの文化的活動 などから一つ

企業がおこなう社会貢献活動としては、地域の清掃活動・植林活動・芸術やスポーツイベントの開催など、環境保全、文化・教育支援、社会福祉、スポーツ振興などに関するものがある。

問3 (例1) 農産物を安く購入することができること。(例2) 新鮮な農産物を購入することができること。

Pの流通経路では、小売業者が卸売業者・仲卸業者を通さず生産者から直接仕入れている。これにより、流通にかかる経費や時間を節約することができる。

問4 (例) 安い人件費で商品生産ができる。／原材料を原産国で手に入れることができる。

／販売市場を拡大することができる。

日本に比べて賃金が安い国に生産を移すことで、人件費を減らすことができるなどの利点がある。

問5 ウ

日本では、全ての輸入品の関税が撤廃されているわけではない。

公民全国答練 経済・企業

80点以上が合格！41～79点は再テスト！40点以下は宿題プレゼント！

第11回

問1 各20点 問2・問3 各20点 問4 20点

点

問1 企業の株価について、現在、多くの企業が株式会社の形態をとっている。株式会社において、株主は、会社が得た利潤の一部を **a** として受け取ることができる。また、一般的に事業内容や業績がよく、高い **a** が期待できる会社の株価は **b** (ア 上昇 イ 下落) する。


a に当てはまる語を書きなさい。また、**b** の () の中から適当なものを一つ選び、記号で答えなさい。ただし、**a** には同じ語が当てはまる。 2014 熊本

問2 企業は、さまざまな社会的責任を担っている。このうち、企業による教育・文化・芸術活動等への支援活動(メセナ)に該当しないものを、次のア～エの中から一つ選び、記号を書きなさい。2014 佐賀


ア 駅への古本寄贈



イ 広告による事業理念の広報活動



ウ 各種コンサートの開催



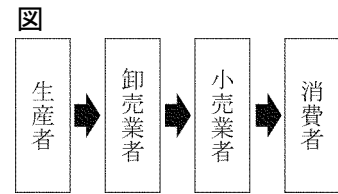
エ スポーツ教室の実施



公民全国答練 経済・企業

80点以上が合格！41～79点は再テスト！40点以下は宿題プレゼント！

問3 図は生産された商品が消費者に届くまでの主な流れを示したものである。このような商品の流れを何というか。漢字2字で書け。2015 鹿児島



問4 4班が調べた労働問題について、誤っているものを次のア～エより1つ選び、記号で答えよ。2014 沖縄

- ア 仕事と生活が調和したワーク・ライフ・バランスを実現できるような制度の改善が求められている。
- イ 雇用の不安定な非正規労働者が増えている。
- ウ 能力主義や成果主義から終身雇用・年功序列へ移行する企業が増えている。
- エ 日本の企業のうち、中小企業の占める割合は大きく、親会社系列の下請け会社も多いが、一方で、ベンチャー企業として期待されることもある。

第11回解答

問1 a: 配当〔配当金〕 b: ア

事業内容や業績がよいときは、株価は上昇する。逆に業績が悪化したり事業内容が悪くなったりしたときは、株価は下落する。

問2 イ

広告による事業理念の広報活動は、利潤を得るための活動の一つで、社会への貢献活動にはあてはまらない。

問3 流通

商品が、生産者から卸売業者、小売業者を経て消費者のもとに届くまでの流れを、流通という。

問4 ウ

かつて日本の企業では、定年まで同じ企業で働く終身雇用、勤続年数が増えるほど賃金が増える年功序列の賃金が一般的だったが、近年は能力主義や成果主義を取り入れる企業も増えている。

公民全国答練 経済・企業

80点以上が合格！41～79点は再テスト！40点以下は宿題プレゼント！

第12回

問1 25点 問2 各10点

問3 25点 問4 各10点

点

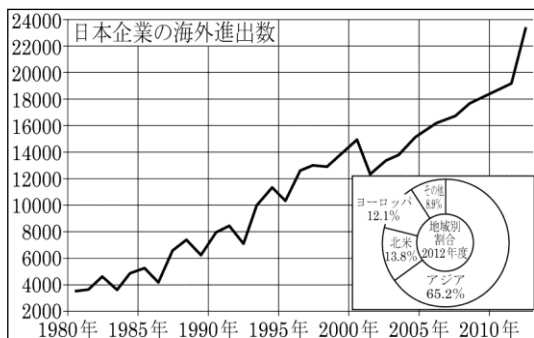
問1 企業の社会貢献の例として、最も適当なものはどれか。2015 鹿児島

- ア 同種の企業を買収して、市場の独占をはかる。
- イ 株式を発行して、多くの人々に購入してもらう。
- ウ 植林活動をして、自然環境の保全をはかる。
- エ 国債を買って、社会全体のお金の量を増やす。

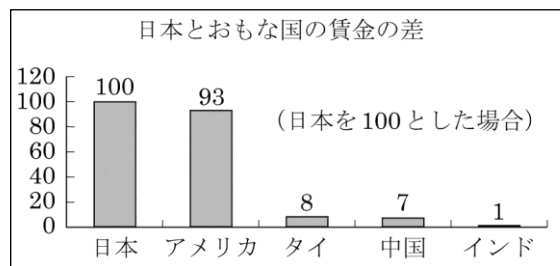
問2 グラフ2・3を見て、次の文の（ア）には当てはまる言葉を選択して記入し、（イ）には地域名を、（ウ）には当てはまる言葉を記入して完成させよ。2015 沖縄

「日本企業の海外進出数は、全体的に（ア 増加・減少）している。地域別割合では、（イ）がもっとも多い。その理由は、日本と比べ、賃金が（ウ）からである」

グラフ2【日本企業の海外進出の推移と地域別割合 経済産業省ほか】



グラフ3【日本とおもな国の賃金の差】



(世界の厚生労働 2009より)

問3 欠陥商品によって消費者が被害を受けた場合、その商品を製造した企業等の責任について定めた法律名

公民全国答練 経済・企業

80点以上が合格！41～79点は再テスト！40点以下は宿題プレゼント！

を答えよ。2015 沖縄

問4 企業について述べた下の 内の㉓の()にあてはまる語句を一つ選び、記号で答えよ。また、㉔)にあてはまる語句を書け。2014 福岡

わが国の企業の大半は、㉓(ア 私企業、イ 公企業)であり、その代表的なものに株式会社がある。株式会社は、多くの人から資金を集め、資金の提供者である出資者は㉔)となり、利益の一部を配当として受けとる権利をもっている。

第12回解答

問1 ウ

企業の社会貢献活動として、環境保全の取り組みや、教育・文化活動の支援などが行われている。

問2

ア 増加

グラフ2から、日本企業の海外進出数は増加傾向にある。

イ アジア

地域別ではアジアの割合が65%以上を占める。

ウ 安い

グラフ3から、タイ、中国、インドの賃金は、日本の10分の1以下である。

問3 製造物責任法

欠陥商品による被害から消費者を救済するための法律は、製造物責任法(PL法)である。

問4 ㉓ア ㉔株主

株式会社は、利潤を目的としている私企業の代表的な形態である。株式を購入して資金を提供している人を株主という。

公民全国答練 経済・企業

80点以上が合格！41～79点は再テスト！40点以下は宿題プレゼント！

第13回

各50点

点

全て2014宮崎

問1 正夫君は、資料Ⅰの③の関係について調べていく中で、次のある企業4社の経営者たちの発言①～④を見つけました。発言①～④は、それぞれ下のX、Yどちらの考え方に当てはまるか、その組み合わせとして最も適切なものを、下のア～エから1つ選び、記号で答えなさい。

①

わが社では、教育費や医療費などの負担が増えていく従業員の実情を考えて、給与を勤めた年数に応じて引き上げている。

②

わが社では、やりがいをもって働いてもらうために、個人の仕事の成果を基準に給与を決めるようにしている。

③

わが社では、専門技能のある従業員を採用したいと考えているので、中途採用者や転職者を積極的に受け入れている。

④

わが社では、雇用の不安を感じずに働いてもらうために、従業員を定年まで雇用し続けるようにしている。

X：日本の大企業を中心に定着していた給与や雇用の形態を、今後も維持しようとする考え方。

Y：グローバル化の進展の中、これまで日本の大企業を中心に定着していた給与や雇用の形態を見直そうとする考え方。

ア X-①と③

Y-②と④

イ X-②と④

Y-①と③

ウ X-①と④

Y-②と③

エ X-②と③

Y-①と④

公民全国答練 経済・企業

80点以上が合格！41～79点は再テスト！40点以下は宿題プレゼント！

問2 正夫君は、資料Ⅰの◀D▶の関係について調べていく中で、資料Ⅱのような活動や環境教育の教材開発・支援、盲導犬育成の支援・協力などの活動を行っている企業があることを知りました。企業がこのような活動を行っている理由として最も適切なものを、次のア～エから1つ選び、記号で答えなさい。



- ア 企業の製造物によって消費者が被害を受けた場合、企業は救済をする必要が出てきたため。
- イ 企業間の国際競争の激化に伴い、品質・サービスを向上させたり、生産コストを引き下げたりする必要が出てきたため。
- ウ 技術革新の進展によって、ベンチャー企業などによる新しい分野への挑戦が期待されているため。
- エ 企業の社会にあたえる影響力が大きくなり、生産活動以外での社会的貢献を行うことが期待されているため。

第13回解答

問1 ウ

- X これまで日本の企業で一般的だったのは、Aの年功序列型の賃金制度とDの定年まで同じ会社で働く終身雇用制である。
- Y 近年は、AやDを見直して、Bの成果主義による賃金やCの中途採用者や転職者の受け入れなどを取り入れている企業も見られる。

問2 エ

企業は、生産活動以外に、環境・文化・教育など様々な分野で社会貢献活動に力を入れている。

公民全国答練 経済・企業

80点以上が合格！41～79点は再テスト！40点以下は宿題プレゼント！

第14回

問1 各20点

点

問1 企業に関して、次の表は製造業と非製造業の企業規模別の企業総数と、総売上高をまとめたものである。この表から読み取れることとして正しいものを、下のアからエまでの中から一つ選び、その記号を書け。2014 国立高専

表 製造業と非製造業の企業規模別の企業総数と総売上高

資本金		1千万円未満	1千万円以上 5千万円未満	5千万円以上 1億円未満	1億円以上 10億円未満	10億円以上
		企業総数 (万社)	19.35	16.48	1.24	0.66
製造業	総売上高 (兆円)	12.34	66.46	31.56	57.81	233.91
	企業総数 (万社)	147.69	82.48	4.75	2.00	0.31
非製造業	総売上高 (兆円)	105.94	268.85	121.59	178.55	304.00

※「非製造業」とは、製造業以外の産業のことであり、運輸業や金融業、建設業、飲食業などを指す。

(財務総合政策研究所『財政金融統計月報第726号』より作成)

- ア 企業総数で見ると、製造業の方が非製造業よりも多い。
- イ 製造業・非製造業とも、資本金1千万円未満の企業が最も多いが総売上高は最も小さい。
- ウ 製造業・非製造業とも、総売上高は資本金5千万円以上1億円未満の企業が最も大きい。
- エ 資本金1千万円未満と10億円以上の企業の総売上高の差は、非製造業の方が大きい。

公民全国答練 経済・企業

80点以上が合格！41～79点は再テスト！40点以下は宿題プレゼント！

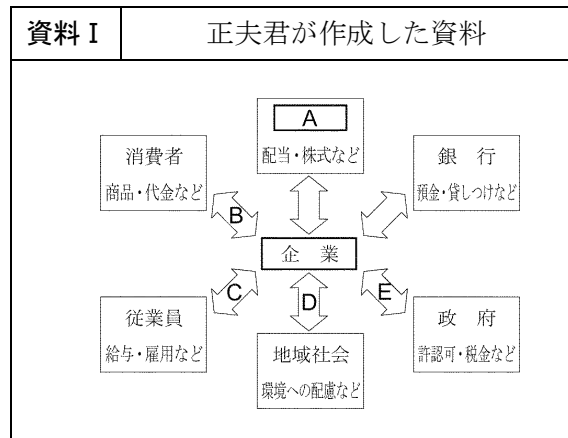
問2 正夫君は、「企業に関係する人々」というテーマで資料を作成し、それをもとに、さまざまな視点から経済のしくみについて発表するための準備をしました。次の問いに答えなさい。2014 宮崎

(1) 資料Ⅰの **A** には、株式の所有者をあらわす語が入る。**A** に当てはまる語を漢字2文字で書きなさい。

(2) 資料Ⅰの **B** の関係の中で、流通の合理化について説明するために、次のように発表原稿にまとめました。次の **①** ～ **③** に当てはまる語を、下の **ア**～**カ** から1つずつ選び、記号で答えなさい。

大規模小売業者は、商品を **①** から仕入れ、**②** を介さないことで、流通にかかる時間と費用の **③** を図っています。 **①** : **②** : **③** :

ア 生産者 **イ** 消費者 **ウ** 小売業者 **エ** 卸売業者 **オ** 増大 **カ** 節約



第14回解答

問1 イ

- ア 企業総数は非製造業の方が多い。
- ウ いずれも総売上高は、資本金10億円以上の企業が最も大きい。
- エ 総売上高の差は、製造業が221.57億円、非製造業が198.06億円で、製造業の方が大きい。

問2

(1) 株主

株式を購入することで、その会社に出資した人を株主という。

(2) ①ア ②エ ③カ

商品の流通は、従来、生産者→卸売業者→小売業者→消費者の経路で行われていたが、大規模小売業者は、生産者から商品を直接仕入れることで、流通にかかる費用や時間を節約している。

公民全国答練 経済・企業

80点以上が合格！41～79点は再テスト！40点以下は宿題プレゼント！

第15回

問1 各20点 問2 40点

点

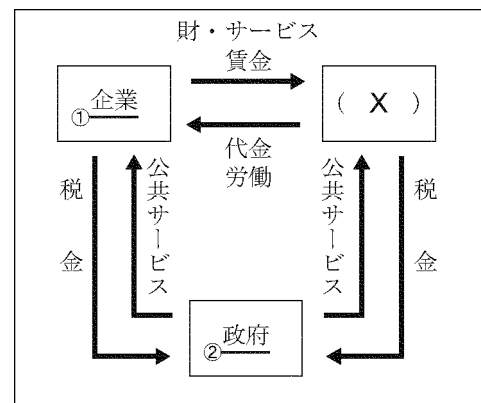
問1 右の図は経済の循環を示そうとしたものである。これを見て、次の問いに答えよ。2014 香川

a 図中の (X) には、経済活動を営む単位の一つであり、家庭の収入や支出を表す言葉が入る。(X) にあてはまる最も適切な言葉を書け。

b 図中の下線部①に企業とあるが、ある商品の生産が少数の企業に集中し、市場が支配されている状態にあるかどうかを調べるために用いる資料として最も適当なものは、次のア～エのうちのどれか。一つ選んで、その記号を書け。

- ア ある企業の年間生産額の、前年に対する増加率を示した資料
- イ ある企業の年間生産額に占める、商品ごとの生産額の割合を示した資料
- ウ ある商品の年間生産額の、前年に対する増加率を示した資料
- エ ある商品の年間生産額に占める、企業ごとの生産額の割合を示した資料

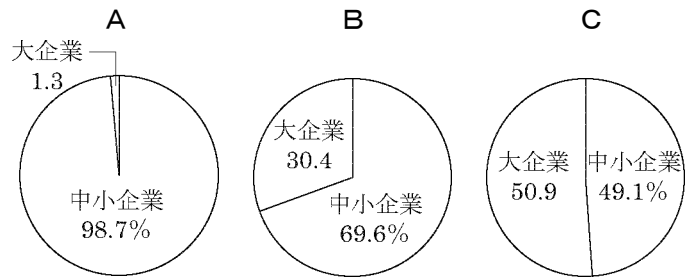
c 企業は利潤を得るために生産活動をおこない、働く人に職場を提供しているが、なかには、生産活動以外にも、社会に貢献し社会的責任を果たすための活動をおこなっている企業がある。企業がおこなっている社会貢献に関する活動にはどのようなものがあるか。具体的に一つ書け。



公民全国答練 経済・企業

80点以上が合格！41～79点は再テスト！40点以下は宿題プレゼント！

問2 ①について、右のA～Cのグラフは、それぞれ、2011年における、我が国の製造業の、出荷額、従業者数、事業所数のいずれかの項目について、中小企業と大企業の比率を表したものである。A～Cのグラフにそれぞれ当たる項目の組み合わせとして適当なものを、ア～エから一つ選び、その記号を書け。2015 愛媛



(注) 従業者数300人以上の企業を大企業としている。
(経済産業省資料による)

- ア {A 出荷額 B 従業者数 C 事業所数}
- イ {A 出荷額 B 事業所数 C 従業者数}
- ウ {A 事業所数 B 出荷額 C 従業者数}
- エ {A 事業所数 B 従業者数 C 出荷額 }

第15回解答

問1

a 家計

家庭の収入や支出など、家庭による経済活動を家計という。

b エ

少数の企業に商品の生産が集中している様子は、ある商品の年間生産額に占める、企業ごとの生産額の割合を示した資料からわかる。少数の企業で生産額割合の大部分を占めていれば、生産の集中が進んでいることになる。

c (解答例) 植林などの環境保全活動、美術館の設立などの文化的活動 などから一つ

企業がおこなう社会貢献活動としては、地域の清掃活動・植林活動・芸術やスポーツイベントの開催など、環境保全、文化・教育支援、社会福祉、スポーツ振興などに関するものがある。

問2 エ

中小企業の割合がおよそ99%を占めるAは事業所数、大企業の割合が高いCは出荷額、残るBは従業者数。

公民全国答練 経済・企業

80点以上が合格！41～79点は再テスト！40点以下は宿題プレゼント！

第16回

問1 各30点 問2 40点

点

全て2013高知

問1 次の資料Ⅰ・Ⅱを見て、下の(1)・(2)の問いに答えよ。

資料Ⅰ



(毎日新聞 2012年9月20日付朝刊による)

資料Ⅱ



(高知新聞 2012年9月26日付夕刊による)

- (1) 資料Ⅰは、独占禁止法違反の疑いを伝える2012年9月20日の新聞である。独占禁止法は、企業の公正で自由な競争をうながし、消費者の権利を守るために制定されたものである。この法律を運用するために設置された行政機関を何というか、書け。
- (2) 資料Ⅱは、群馬県のNPOの活動を伝える2012年9月26日の新聞である。我が国では、1998年に法律が制定され、NPOを支援するしくみが整えられた。NPOとは、どのような活動を行う組織のことか、「営利」と「活動」の二つの語句を使って、簡潔に書け。

公民全国答練 経済・企業

80点以上が合格！41～79点は再テスト！40点以下は宿題プレゼント！

問2 まさるさんは、消費者を守る政府の取り組みについて学習し、その内容をノートにまとめた。次の資料Ⅲは、そのノートの一部である。資料中の に当てはまる法律名を書け。

資料Ⅲ

<p><クーリング・オフ制度></p> <p>訪問販売などによって商品を購入した場合、一定期間内であれば、理由にかかわらず契約を解除できる制度</p>
<p>< <input type="text" value="X"/> ></p> <p>製品の欠陥により消費者が被害を受けた場合に、製造業者などに被害の救済を義務づけた、1994年制定の法律</p>
<p><消費者庁></p> <p>分散されていた消費者行政を統合し、消費者保護政策をいっそう強力に展開するため、2009年に設置された官庁</p>

第16回解答

問1

(1) 公正取引委員会

企業の公正で自由な競争をうながす独占禁止法を運用するために設置された機関は、公正取引委員会である。

(2) (例) 営利を目的としない、社会に貢献する活動を行う組織。

NPOは非営利組織の略称である。政府などからの制約を受けず、営利を求めるのではなく社会貢献の実現を目的として活動している。

問2 製造物責任法

消費者の安全を守るため、製造物責任法（PL法）が定められた。製品の欠陥によって消費者が被害を受けた場合、過失の有無にかかわらず、製造者である企業に損害賠償を義務づけている。

公民全国答練 経済・企業

80点以上が合格！41～79点は再テスト！40点以下は宿題プレゼント！

第17回

問1 20点 問2 各10点 問3 各15点

問4 10点 問5 20点

点

問1 次の文の に共通して当てはまる語句を書きなさい。2013 北海道
商品の購入などをめぐって発生する 問題を一元的に扱う国の新たな行政機関として、
 庁が2009年に設置された。

問2 消費活動に関連した問題である。2013 秋田

① 資料1のような支払い方式をとるカードの総称を、
一つ選んで記号を書きなさい。

ア プリペイドカード イ ポイントカード

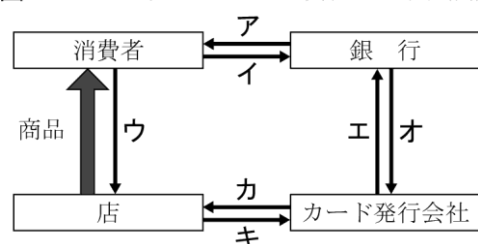
ウ キャッシュカード エ メンバースカード

② 図1のア～キで示した矢印から、商品の代金としての
貨幣（通貨）の流れを表しているものを、すべて選んで
記号を書きなさい。

資料1 商品購入で使用するカード(例)



図1 クレジットカードでの買物のしくみ(例)



公民全国答練 経済・企業

80点以上が合格！41～79点は再テスト！40点以下は宿題プレゼント！

問3 次の文章の , にあてはまる語句をそれぞれ書きなさい。2013 福島

家庭の経済活動を と呼びます。 には、「もの」や「サービス」を消費する役割と、企業などへ **a 労働力を供給**する役割があります。そして、税金を納め、さらに将来の消費に備えて、銀行などの 機関に預金や貯金をします。

:

:

問4 消費者の権利を守る制度の一つに、訪問販売などで商品を購入したとき、一定期間内であれば契約を解除できる制度がある。この制度を何というか、次のア～エの中から一つ選んで、その記号を書きなさい。2013 茨城

ア POSシステム イ リサイクル ウ バリアフリー エ クーリング・オフ

問5 コンビニエンスストアなどの小売店も企業であり、各種のサービスを生産している。資本主義経済において、企業の生産活動の主な目的は何か、書きなさい。2013 石川

第17回 解答

問1 消費者 (庁)

問2

①ア

図書カードは、あらかじめ支払った金額分を利用できるプリペイドカードの1つである。

②イ、オ、カ

消費者がクレジットカードを利用して買い物をしたとき、カード発行会社が代金を立て替えて(カ)、消費者は自分の銀行口座に代金分を入金する(イ)。代金は、銀行の口座からの引き落としによって、カード発行会社に支払われる(オ)。

問3 U 家計 V 金融

U 家計は企業などに労働力を提供するかわりに賃金を得て、消費や貯蓄を行う。

V 資金の貸し借りの仲立ちを行う金融機関には、銀行のほか、保険会社、証券会社などがある。

公民全国答練 経済・企業

80点以上が合格！41～79点は再テスト！40点以下は宿題プレゼント！

問4 エ

問5 利潤を得ること。

資本主義経済では、企業は利潤を得ることを目的に生産活動を行う。

第18回

問1 各30点 問2 各20点

点

問1 はるかさんは、「家計と消費」というテーマで調べたことを発表した。次の

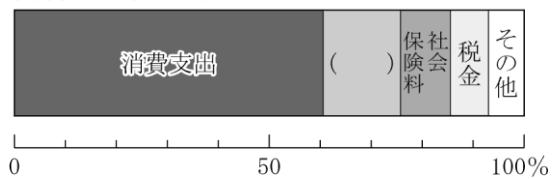
①, ②の問いに答えなさい。2013 群馬

① 家計の支出は、資料Ⅰのように分類できる。資料

Ⅰの()に当てはまる語を、次のア～エから選びなさい。

ア 貯蓄 イ 相続 ウ 給与 エ 年金

資料Ⅰ 家計の支出



(総務省「家計調査平成23年」により作成)

② 資料Ⅱのように、消費支出のうち、通信費が増加した理由として考えられることを、「情報化」という語を用いて、簡潔に書きなさい。

資料Ⅱ 消費支出の変化 (月平均)

	1990年	2010年
通信費	6,493円	12,014円
消費支出全体	311,174円	290,788円

(総務省「家計調査」により作成)

公民全国答練 経済・企業

80点以上が合格！41～79点は再テスト！40点以下は宿題プレゼント！

問2 (3) 政府はこうした消費者被害を防止し、消費者保護を具体化するための取り組みを行っている。とあるが、次のⅠの文は、ある行政機関の役割について述べたものである。Ⅱの略年表は、1968年から2010年までの消費者問題に関する主な出来事についてまとめたものである。Ⅰの文で述べている行政機関の名称を、漢字4字で書け。また、その行政機関が設立された時期に当てはまるのは、Ⅱの略年表中のア～エの時期のうちではどれか。 名称： 時期：

Ⅰ

この行政機関は、国民生活の安全等にかかわる事件・事故の発生を受けて新設され、縦割り行政の問題を解消するために内閣府の下に位置付けられており、消費者行政の一元化を図る「消費者を主役とする政府のかじ取り役」としての役割を担っている。

Ⅱ

西暦	消費者問題に関する主な出来事
1968	●消費者運動の高まりを背景に、消費者保護基本法が制定された。-----
1986	●資産形成取り引きに伴う問題が急増したため、特定商品預託法が制定された。-----
1994	●生産者である企業の責任を明確にし、消費者への損害賠償を義務付ける製造物責任法（PL法）が制定された。-----
2004	●消費者保護基本法が改正され、国の消費者政策の基本理念を明示した消費者基本法が制定された。-----
2010	●環境への配慮、情報化や国際化への対応等を盛り込んだ新たな消費者基本計画が策定された。-----

↑ ア

↑ イ

↑ ウ

↑ エ

第18回 解答

問1

①ア

貯蓄には、銀行の預金や生命保険料の支払いなどがあてはまる。

②（例）携帯電話やインターネットの普及など、情報化が進んだこと。

通信費は、電話料金、携帯電話やインターネットの利用料金などがあてはまる。携帯電話やインターネットの利用が広まるなど、情報化が進んだことで、通信費が増加している。

問2 名称：消費者庁 時期：エ

消費者庁は、それまで分散されていた消費者行政を統合して2009年に設立された。

公民全国答練 経済・企業

80点以上が合格！41～79点は再テスト！40点以下は宿題プレゼント！

第19回

問1 20点 問2 30点 問3 各10点 問4 20点

点

問1 Kさんがまとめた次の [] 中の文の [B] ~ [D] にあてはまるものの組み合わせとして正しいものを、あとの1~4の中から一つ選び、その番号を書きなさい。2013 神奈川

2004年に改正施行された消費者基本法では、消費者の [B] を明確にするとともに、国、地方公共団体と事業者の [C] を定めています。

また2009年には、消費者行政を一元化するための官庁として [D] が設置されました。

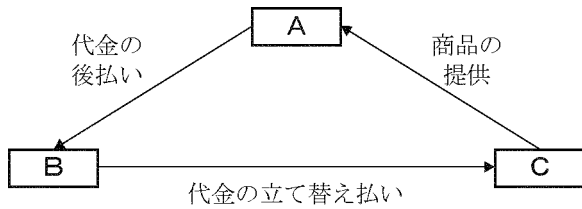
- 1 B:責務 C:権利 D:消費者庁 2 B:権利 C:責務 D:家庭裁判所
3 B:権利 C:責務 D:消費者庁 4 B:責務 C:権利 D:家庭裁判所

問2 貨幣の価値をデジタルデータの形に置きかえ、買い物の支払いや追加の入金ができるようにしたしくみを何というか、書きなさい。2013 石川

公民全国答練 経済・企業

80点以上が合格！41～79点は再テスト！40点以下は宿題プレゼント！

問3 下の図はクレジットカードを使って商品を購入するときの商品とお金の流れを表している。図中の **A** ～ **C** に当てはまる語句を、次のア～ウから一つずつ選び、記号で書きなさい。2013 山梨



- ア 小売店
- イ 消費者
- ウ クレジットカード発行会社

A: B: C:

問4 下の条文は消費者基本法の一部である。この法律について述べているものとして最も適切なものを、次のア～エから一つ選び、記号で書きなさい。2013 山梨

第5条 事業者は、・・・(中略)・・・次に掲げる責務を有する。

(一) 消費者の安全及び消費者との取引における公正を確保すること。

第7条 消費者は、自ら進んで、その消費生活に関して、必要な知識を修得し、及び必要な情報を収集するなど自主的かつ合理的に行動するよう努めなければならない。

- ア 企業の過失の有無にかかわらず、消費者が企業の責任を問える法律
- イ 消費に関する契約やその取り消しなどについて定めた法律
- ウ 循環型社会の形成を目指して制定された法律
- エ 企業の責任だけでなく消費者としてのあり方についても定めた法律

第19回 解答

問1 3

消費者基本法では、消費者の権利と国や地方公共団体、事業者の果たすべき義務と責任が明確化された。

問2 電子マネー

貨幣の価値をデジタルデータに置き換えたものを、電子マネーという。現金を持ち歩く必要がなく、また利用できる場も増えていることから、電子マネーの普及は著しい。

問3 A:イ B:ウ C:ア

公民全国答練 経済・企業

80点以上が合格！41～79点は再テスト！40点以下は宿題プレゼント！

商品を提供していることからCは小売店，Aが消費者。クレジットカード発行会社は，商品の代金を小売店に立て替え払いし，消費者は発行会社に代金を後払いする。

問4 エ

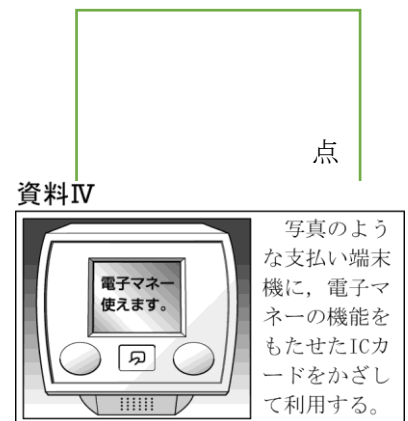
アは製造物責任法（PL法），イは消費者契約法，ウは循環型社会形成推進基本法。

第20回

問1 30点 問2 各20点 問3 30点

問1

資料IVは，小売店などに設置されている支払い端末機の写真と使用方法についての説明である。電子マネーを利用した消費生活などについて述べた下の文章中の（㉓）に当てはまる言葉を，「現金」の語句を用いて簡潔に書け。2013 奈良



点

電子マネーは，駅やコンビニエンスストアなどの身近な場所で（㉓）といった便利さから，普及しています。一方で，電子マネーなどによる支払い方法の多様化によって，お金を使いすぎるなどの問題点も指摘されています。こうした支払い方法のしくみをよく理解し，無理のない消費生活を営むことが求められています。

公民全国答練 経済・企業

80点以上が合格！41～79点は再テスト！40点以下は宿題プレゼント！

問2

わが国では、1947年に独占禁止法が制定された。この法律を運用している機関を何というか。その名称を書け。また、この法律が制定されている目的を、「競争」、「消費者」の語句を用いて簡潔に書け。2013 奈良

名称：

目的：

問3 陽子さんは、建て替えを通じて消費者としての権利や責任について学び、よりよい消費者となるためにはどのような態度や行動が必要なのかについて考えた。消費者基本法は、ものやサービスを提供する事業者の責務を、右のように定めている。このうち、「二」または「三」のいずれかの内容に触れながら、次の陽子さんの発言の空欄に当てはまる内容を、「判断」ということばを用いて書きなさい。2013 岡山

【消費者基本法】

第五条（事業者の責務等）

事業者は、…（中略）…、その供給する商品及び役務について、次に掲げる責務を有する。

一 （省略）

二 消費者に対し必要な情報を明確かつ平易に提供すること。

三 消費者との取引に際して、消費者の知識、経験及び財産の状況等に配慮すること。

（以下省略）

陽子さん：私たち消費者には、ものやサービスを購入する際、 ような態度や行動が求められていると思います。

第20回 解答

問1 （例）現金を持ち歩かなくても商品などを購入できる

問2

名称：公正取引委員会

目的：（例）企業の自由な競争をうながし、消費者の利益を守る。

問3 必要な情報を主体的に入手し、正しく判断する

商品を購入するときは、広告や宣伝などにまどわされず、必要な情報は自分から得て、自分の判断で購入

公民全国答練 経済・企業

80点以上が合格！41～79点は再テスト！40点以下は宿題プレゼント！

することが大切である。