

公民全国答練 財政と金融

80点以上が合格！41～79点は再テスト！40点以下は宿題プレゼント！

第1回

各20点(問3完答)

点

問1 下線部②について、わが国の経済の安定化を図るための政策のうち、不景気のと きにとられる財政政策の説明として最も適当なものはどれですか。次のア～エのうちから一つ選 び、その記号を書きなさい。2014 岩手

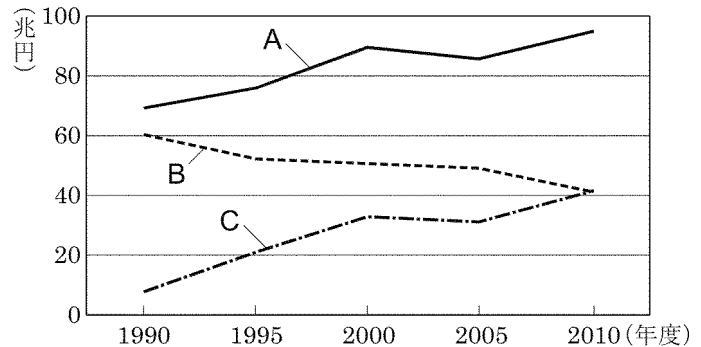
- ア 政府が、増税をすることにより、国民の消費活動を抑制する。
- イ 政府が、減税をすることにより、国民の消費活動を活発にする。
- ウ 日本銀行が、国債を買うことにより、一般の銀行の資金量を増やす。
- エ 日本銀行が、国債を売ることにより、一般の銀行の資金量を減らす。

問2 下線部③について、右の表は、給与所得者の年収額別の所得税額の例を示したものです。この表から、所得税は、どのような課税の方法をとっていることがわかりますか。その方法の名称をことばで書きなさい。2014 岩手

| 給与の年収額 | 所得税額 |
|----------|---------|
| 500 万円 | 6 万円 |
| 700 万円 | 16.6 万円 |
| 1,000 万円 | 59.1 万円 |

※夫婦と子ども2人の給与所得者の場合の例
(財務省ホームページから作成)

問3 下線部④について、右のグラフのA～Cは、わが国の1990年から2010年までの5年ごとの税収額、歳出総額、国債発行額のいずれかの推移を表したものです。A～Cがそれぞれ表しているものはどれですか。次のア～ウのうちから一つずつ選び、その記号を書きなさい。2014 岩手



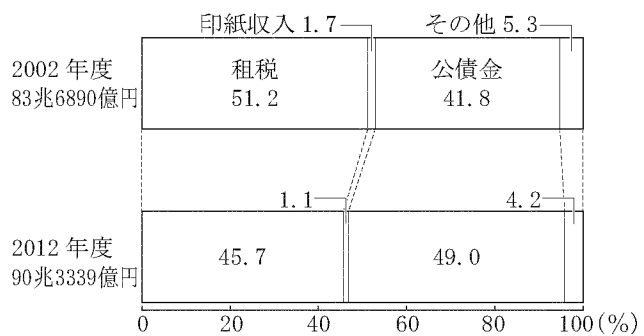
(数字で見る日本の100年 第6版から作成)

- ア 税収額
- イ 歳出総額
- ウ 国債発行額

問4 消費税のように納税者と担税者が一致しない税金を何というか、書きなさい。2013 宮城

問5 国の歳入に占めるおもな項目の割合は2002年度と2012年度でどのように変化したか、資料Aをもとに、簡潔に述べなさい。2013 宮城

資料A 国の歳入の変化



公民全国答練 財政と金融

80点以上が合格！41～79点は再テスト！40点以下は宿題プレゼント！

第1回解答

問1 イ

不景気するとき、政府は経済を活性化させるために、減税をしたり、公共投資を増やしたりする。日本銀行が行う、国債の売買により市場に出回る資金を調整する政策などは、金融政策という。

問2 累進課税

所得税額÷給与の年収額×100により、税金の割合を求めると、年収500万円では1.2%、年収700万円では約2.4%、年収1000万円では約5.9%となり、年収額が多い人ほど割合が高くなっていることがわかる。このような課税方法を、累進課税という。

問3 Aイ Bア Cウ

金額が最も多いAが歳出総額。国債は、税収だけで財政支出がまかなえないときなどに発行されるから、税収額が多いときは国債発行額が少なくなり、税収額が少ないときに国債発行額が多くなる。したがって、Bは税収額、Cは国債発行額である。

問4 間接税

納税者と担税者（税を負担する者）が一致する税を直接税、一致しない税を間接税という。

問5 (例) 租税の割合が減り、公債金の割合が増えている。

資料Aより、租税の割合は5.5%減少し、公債金の割合は7.2%増加していることがわかる。

公民全国答録 財政と金融

80点以上が合格！41～79点は再テスト！40点以下は宿題プレゼント！

第2回

各20点

| |
|---|
| 点 |
|---|

問1 政府の経済活動に関連した問題である。2013 秋田

① 次の と にあてはまる語の正しい組合せを、一つ選んで記号を書きなさい。

一般に不景気のときは、市場の通貨量を増やすために、政府は公共投資を 。また、「銀行の銀行」である日本銀行は、金融政策として国債や手形を 。

- | | |
|--------------|--------------|
| ア X 減らす Y 売る | イ X 減らす Y 買う |
| ウ X 増やす Y 売る | エ X 増やす Y 買う |

② 図2の消費税が、グラフのような負担率になる理由を解答欄にしたがって書きなさい。また、消費税の歳入面の長所を図3から読みとり、次の語を用いて書きなさい。[確保]

図2 給与所得に対する税負担率

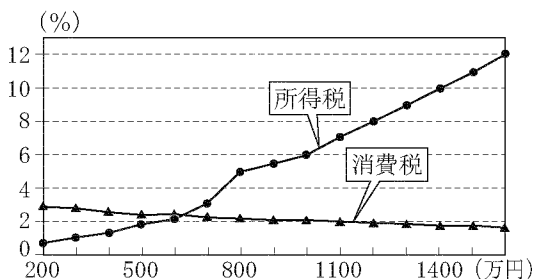
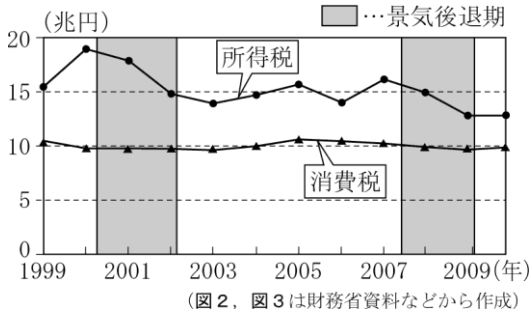


図3 所得税と消費税の税収の推移



問2 わが国の税制について述べた文として適切でないものを、次のア～エから一つ選び、記号で答えなさい。2015 山形

- ア 消費税は、税を負担する人と納める人が違う間接税である。
- イ 自動車税や固定資産税は、国税である。
- ウ 所得税は、高所得者ほど税率が高くなる累進課税制度がとられている。
- エ 法人税や相続税は、直接税である。

問3 次の文の , にあてはまる数字、語句の組み合わせとして適当なものを、下のア～エの中から一つ選びなさい。ただし、為替相場以外の条件は考えないこととする。2014 福島

アメリカとの貿易において、1ドルが100円の時、日本で150万円の自動車は、アメリカでは15000ドルとなる。1ドルが 円になった場合は、同じ自動車がアメリカでは20000ドルになる。そのため は、日本の輸出産業にとって、競争力の面で不利となる。

- | | |
|---------------|---------------|
| ア X 125, Y 円高 | イ X 125, Y 円安 |
| ウ X 75, Y 円高 | エ X 75, Y 円安 |

問4 一般に不況時には、物価が持続的に下がる現象が起こる。この現象を何というか。カタカナで書きなさい。2014 福島

公民全国答練 財政と金融

80点以上が合格！41～79点は再テスト！40点以下は宿題プレゼント！

第2回解答

問1

① エ

不景気するとき、政府は公共投資を増やしたり、減税をしたりして、経済活動を活発化させようとする。日本銀行は、国債や手形を一般の銀行から買って、一般の銀行の資金量を増やそうとする。

② 理由：(例) 消費税の税率が、所得の多さに関係なく一定だから。

長所：(例) 景気変動の影響が少なく、安定した税収を確保できること。

図2より、所得税は、給与所得額が多いほど負担率が上がっているが、消費税は、給与所得額が多いと負担率がやや下がる傾向にあることが読みとれる。また図3より、所得税の税収は景気に左右されているが、消費税の税収は景気の変動による変化がほとんどないことが読みとれる。

問2 イ

自動車税と固定資産税はともに地方税である。

問3 ウ

150万円の自動車が2万ドルなので、 $1500000 \div 20000 = 75$ より、1ドル=75円である。1ドル=100円から1ドル=75円になる場合は、ドルに対する円の価値が高くなる円高である。

問4 デフレーション(デフレ)

物価が下がり続ける現象をデフレーション(デフレ)、物価が上昇し続ける現象をインフレーション(インフレ)という。

公民全国答練 財政と金融

80点以上が合格！41～79点は再テスト！40点以下は宿題プレゼント！

第3回

各20点

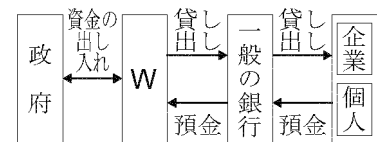
点

B班 金融と金融機関の役割

資金を必要としている側と、余裕がある側との資金の貸し借りを金融といい、その仲立ちをするのが金融機関です。

図Ⅱのように、b一般の銀行は企業や個人からお金を預かり、必要とする企業や個人に貸し出しを行います。また、この図のWは日本の中央銀行として、政府の資金の出し入れや、一般の銀行への貸し出しなどを行います。

図Ⅱ 金融機関とお金の流れ



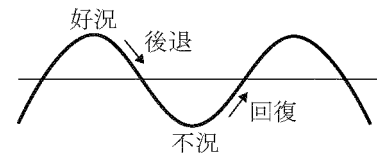
問1 図ⅡのWにあてはまる語句は何か。漢字4字で書きなさい。2015 福島

問2 下線部bについて、図Ⅱのように一般の銀行からの貸し出しなど、金融機関を仲立ちとして企業などが資金を調達するしくみを何というか。漢字4字で書きなさい。2015 福島

C班 景気変動と企業の生産活動

経済は、好況（好景気）と不況（不景気）を交互にくり返します。これをc景気変動といい、一般に図Ⅲのようにあらわされます。景気変動は企業に大きく影響をおよぼします。好況のときには、商品が多く売れるため、企業の生産活動は活発になり、労働者の所得が増加するなどd雇用状

図Ⅲ 景気変動



問3 下線部cについて、図Ⅲの不況のとき、景気を回復させるために一般的に政府がとる政策として最も適当なものを、次のア～エの中から一つ選びなさい。2015 福島

- ア 政府は増税を行い、公共事業への支出を増やし、消費や生産を抑制する。
- イ 政府は増税を行い、公共事業への支出を減らし、消費や生産を活発にする。
- ウ 政府は減税を行い、公共事業への支出を増やし、消費や生産を活発にする。
- エ 政府は減税を行い、公共事業への支出を減らし、消費や生産を抑制する。

問4 好況のとき、一般的に物価が上昇し続ける現象がみられる。これを何というか。2014 栃木

| | |
|------|---|
| 日本銀行 | ・金融政策の一つとして、国債などを <input type="text" value="I"/> , 世の中に出回るお金の量を <input type="text" value="II"/> 。 |
|------|---|

問5 好況のときの金融政策の説明文（上の図）を完成させるには , にはどんな語があてはまるか。その組み合わせとして正しいものを下から選びなさい。2014 栃木

- ア I－買い
- II－増やす
- イ I－買い
- II－減らす
- ウ I－売り
- II－増やす
- エ I－売り
- II－減らす

公民全国答練 財政と金融

80点以上が合格！41～79点は再テスト！40点以下は宿題プレゼント！

第3回解答

問1 日本銀行

政府の資金の出し入れ、一般の銀行の預金の受け入れや一般の銀行への貸し出しなどを行っていることから、日本銀行があてはまる。

問2 間接金融

金融機関が仲立ちとなって、資金が余っている企業や個人から預金を受け入れ、資金を必要とする企業や個人に貸し出すことを、間接金融という。金融機関を仲立ちとしない金融は直接金融。

問3 ウ

不況のとき、政府は消費や生産を活発にさせるために、減税を行い、公共事業への支出を増やす。

問4 インフレーション（インフレ）

物価が上昇し続ける現象をインフレーション（インフレ）、物価が下がり続ける現象をデフレーション（デフレ）という。

問5 エ

好況のとき、日本銀行は国債を売って、世の中に出回るお金の量を減らし、景気の過熱をおさえようとする。不況のときは逆に、国債を買って世の中に出回るお金の量を増やそうとする。

公民全国答練 財政と金融

80点以上が合格！41～79点は再テスト！40点以下は宿題プレゼント！

第4回

問1 各20点 問2 40点

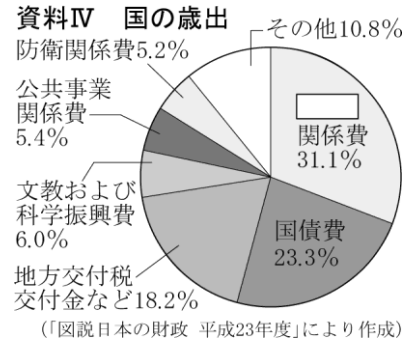
点

問1 大介さんは、「財政」というテーマで調べたことを発表した。後の①、②の問いに答えなさい。2013 群馬

資料Ⅲ 大介さんの発表原稿

平成23年度の国の歳出は、資料Ⅳのとおりです。最も多いのは 関係費で、これは社会保険や社会福祉などにあてられます。

歳入については、国の借金である公債金（国債）が 税収を上回っていることが課題となっています。

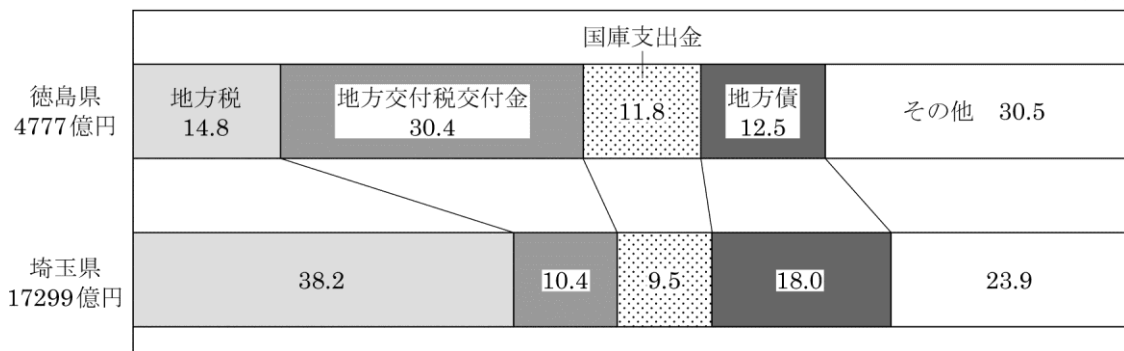


- 資料Ⅲ、資料Ⅳの に当てはまる語を書きなさい。
- 資料Ⅲの下線部に関して、国債の発行は慎重に行わなければならないとされている。その理由を、資料Ⅳを参考にして、簡潔に書きなさい。

問2 Hさんは、地図中の阿波おどりが開かれる徳島県と、埼玉県の平成26年度当初予算の歳入について調べ、グラフ3をつくりました。グラフ3をみて、埼玉県と比較した徳島県の歳入の内訳の特色について、地方税と地方交付税交付金に着目し、地方税と地方交付税交付金とはどのようなものかにふれながら説明しなさい。2015 埼玉

グラフ3 徳島県と埼玉県の平成26年度一般会計当初予算（歳入）の内訳

(%)



公民全国答練 財政と金融

80点以上が合格！41～79点は再テスト！40点以下は宿題プレゼント！

第4回解答

問1

① 社会保障

高齢化が進んだことにより、社会保険などの社会保障関係費が、国の歳出で最も大きな割合を占めている。

② (例) 国債の発行が増えすぎると、国の財政を圧迫するから。

国債は国の借金なので、利子の支払いや元金の返済などが、将来の財政を圧迫することになる。

問2 (例) 徳島県は、地方独自の財源である地方税の割合が低く、財政格差をならすために国から配分される地方交付税交付金の割合が高い。

地方交付税交付金は、地方公共団体の収入の格差をなくすために、国が地方公共団体に交付する補助金である。埼玉県は地方税の割合が高いため、地方交付税交付金の割合は低いが、徳島県は地方税の割合が低いため、地方交付税交付金の割合が高くなっている。

公民全国答練 財政と金融

80点以上が合格！41～79点は再テスト！40点以下は宿題プレゼント！

第5回

問1 各30点 問2 40点

点

2015 茨城

問1 図1と図2は、日本の財政に関するものである。次のア～エの中から正しいものを一つ選んで、その記号を書きなさい。また、下の の文中の に当てはまる語を書きなさい。

図1 国の歳入（2013年度）

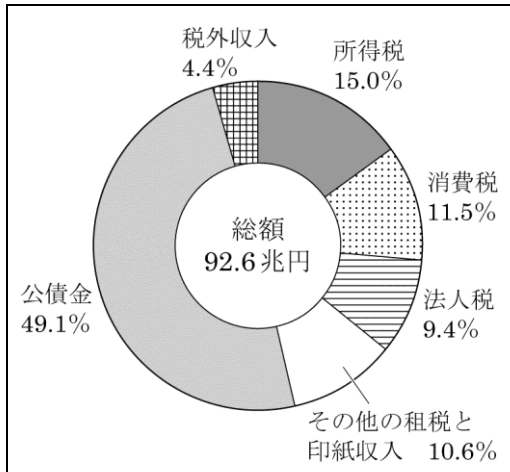
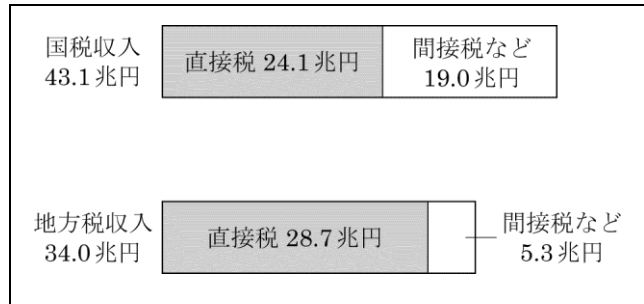


図2 国税収入と地方税収入（2013年度）



注)「間接税など」には、印紙収入等を含む。

〔図1、図2は財務省「財政金融統計月報」、租税及び印紙収入予算の説明、総務省「地方財政計画」より作成〕

- ア 国税の中の直接税において、所得税の額が占める割合は50%以下である。
- イ 国税と地方税を合わせると、直接税と直接税以外の比率は4：3である。
- ウ 国の歳入で、公債による借り入れ額は最大の割合を占め、地方税の総額を超える。
- エ 国税における直接税の額は、地方税における直接税の額より大きい。

租税負担の公正を図るため、所得税では、所得が多くなるほど税率（所得に対する税金の割合）が高くなる という方法がとられている。

問2 金融は、経済活動を円滑にすすめるための重要なしくみである。金融について述べた次のア～エの中から正しいものを一つ選んで、その記号を書きなさい。

- ア 金融機関を通して、貸し手と借り手の間で資金の貸し借りをするしくみを直接金融という。
- イ 一般の銀行は家計や企業からお金を預金として預かり、家計や企業に貸し付けを行う。
- ウ 日本銀行は、増税や減税など財政の活動を通じて景気を調節する政策を行う。
- エ 日本銀行は、不景気（不況）のとき、家計に対して直接貸し付けを行う。

公民全国答録 財政と金融

80点以上が合格！41～79点は再テスト！40点以下は宿題プレゼント！

第5回解答

問1 ウ 累進課税

- ウで、公債による借入額は、 $92.6 \times 0.491 = 45.46 \dots$ (兆円)となることから、地方税の収入を上回っている。
- ア 所得税の額は、 $92.6 \times 0.15 = 13.89$ (兆円)で、これが直接税に占める割合は、 $13.89 \div 24.1 \times 100$ より57.63...%となる。
- イ 国税と地方税の直接税の合計は52.8兆円、国税と地方税の合計は77.1兆円。直接税の占める割合は $52.8 \div 77.1 = 0.68 \dots$ となることから、直接税と直接税以外の比率はおよそ7 : 3である。
- エ 地方税における直接税の額の方が大きい。

問2 イ

- ア 直接金融ではなく間接金融である。
- ウ 財政の活動を通して景気を調整するのは政府。
- エ 日本銀行は、一般の企業や家計との取り引きは行わない。

公民全国答練 財政と金融

80点以上が合格！41～79点は再テスト！40点以下は宿題プレゼント！

第6回

各20点

2014群馬

点

問1 聡太さんは、「政府の経済活動」について発表した。資料Ⅰは、そのときに使用したものの一部である。次の①、②の問いに答えなさい。

① 下線部(a)について、累進課税のしくみを、「所得」、「税率」という語を用いて、簡潔に書きなさい。

② 下線部(b)について、ここに示されている例のほかにもどのような公共サービスがあるか、1つ書きなさい。また、公共サービスが政府によって提供されている理由を、簡潔に書きなさい。

資料Ⅰ 政府の経済活動の役割

- 税負担の公正・公平を図る。
(例)所得税に(a) 累進課税の方法を適用する。
- (b) 公共サービスを提供する。
(例)住民の安全を守る。
教育を提供する。
司法サービスを提供する。
- 景気の安定を図る。

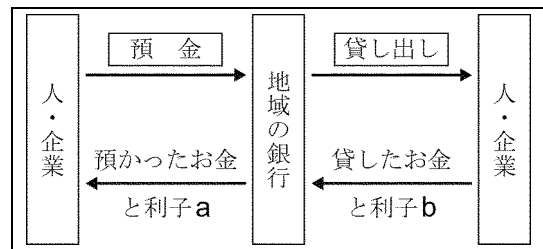
問2 明子さんは、「金融」について、地域の銀行を調べ、発表した。資料Ⅱ、資料Ⅲは、そのときに使用したものの一部である。次の①、②の問いに答えなさい。

① 資料Ⅱに関して、預金に対して銀行が支払う利子aと、貸し出しに対して銀行が受けとる利子bでは、どちらの利子の比率が高いか、書きなさい。また、そのように判断した理由を、簡潔に書きなさい。

公共サービス：

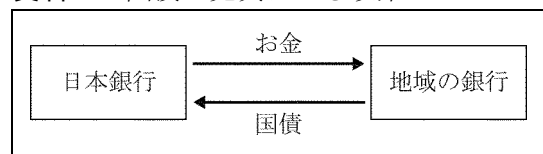
理由：

資料Ⅱ 金融のしくみ



② 資料Ⅲは、日本銀行の金融政策の一部を示したものである。このような政策を行う場合の景気の状態を、簡潔に書きなさい。

資料Ⅲ 国債の売買による政策



公民全国答練 財政と金融

80点以上が合格！41～79点は再テスト！40点以下は宿題プレゼント！

第6回解答

問1

① (例) 所得が高い人ほど税率が高くなるしくみ。

所得が高いほど税率が高くなるしくみを累進課税といい、所得税や相続税に適用される。

② 公共サービス：(例) 社会保障を提供する

理由：(例) 民間企業では提供しにくいから。

公共サービスとしては、道路や公園、橋、港湾などの社会資本の整備や、ごみの収集・警察や消防の仕事などがあげられる。民間の企業は利潤を目的に生産活動を行うので、公共サービスの提供は行いにくい。

問2 ① 利子：利子b

理由：(例) 銀行の貸し出し利子と預金利子の差が、銀行の収入となるから。

貸したお金に対する利子（銀行が受け取る利子）の比率は、預かったお金に対する利子（銀行が支払う利子）の比率より高い。この差額が銀行の利益となる。

② (例) 景気が悪い状況

資料Ⅲでは、日本銀行が地域の銀行から国債を買い、その代金を支払っている。この政策によって地域の銀行の資金量が増え、企業などに貸し出しを行いやすくなる。これは、景気が悪いときに行われる金融政策である。

公民全国答練 財政と金融

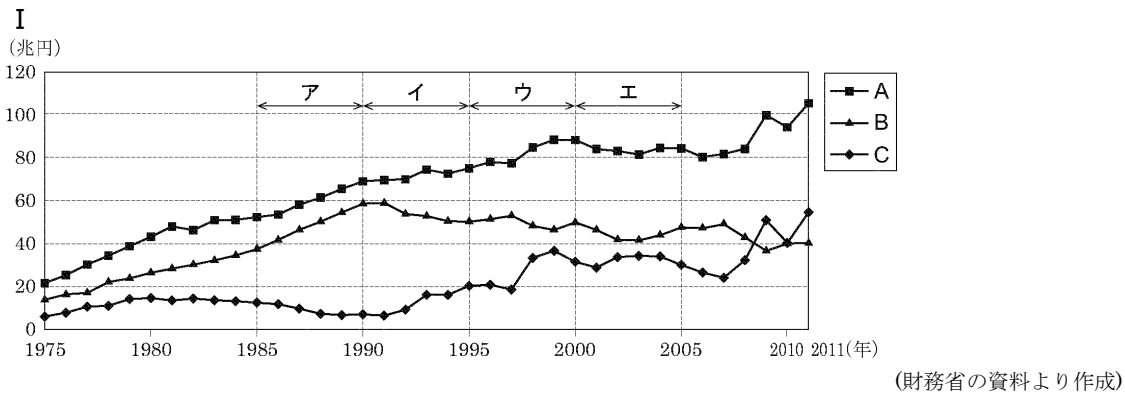
80点以上が合格！41～79点は再テスト！40点以下は宿題プレゼント！

第7回

各50点

点

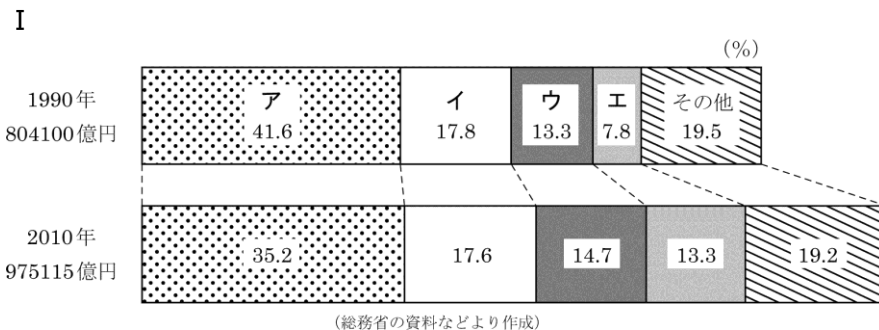
問1 (2) 国会で議決された、歳入・歳出にかかわる予算に基づいて財政が運営される。とあるが、次のⅠのグラフは、1975年から2011年までの我が国における歳入・歳出に関する金額の推移を示したものである。ⅠのグラフのA、B、Cは、租税収入、公債発行額、歳出総額のいずれかに当てはまる。Ⅱの文章は、ある時期の我が国の経済状況についてまとめたものである。Ⅱの文章で述べている時期に当てはまるのは、Ⅰのグラフ中のア～エのうちではどれか。2014 東京



Ⅱ

- この5年間で、歳出総額が約10兆円以上拡大した。
- 好景気を背景に、租税収入が増加したため、財政収支が改善した。

問2 (3) 公共財や公的サービスの原資となる財源の確保が課題となっている。とあるが、次のⅠのグラフは、1990年と2010年における我が国の地方財政歳入総額及び歳入項目別の割合を示したものである。Ⅰのグラフ中のア～エは、地方税、地方交付税交付金、国庫支出金、地方債のいずれかに当てはまる。Ⅱの文章は、1990年と2010年の歳入項目別の変化の様子について述べたものである。地方債に当てはまるのは、Ⅰのグラフ中のア～エのうちのどれか。2015 東京



Ⅱ

- 自主財源である地方税は、金額に大きな変動はないが、全体に占める割合は減少している。
- 歳入総額の増加分は、ほとんどが依存財源で賄われており、依存財源を割合の変化が大きい項目から並べると、地方債、国庫支出金、地方交付税交付金の順になっている。

公民全国答録 財政と金融

80点以上が合格！41～79点は再テスト！40点以下は宿題プレゼント！

第7回解答

問1 ア

Aは歳出総額，Bが減っているときはCが増えていることから，Bは租税収入，Cは公債発行額である。5年間で歳出総額が10兆円以上拡大し，租税収入が増加する一方で借金である公債の発行額が減っているのは，Aの時期である。

問2 エ

全体に占める割合が減少しているAとIのうち，1990年と2010年の金額に大きな変動がないAが地方税である。I～Eを割合の変化の大きい順に並べると，E→ウ→Iとなることから，Eは地方債，ウは国庫支出金，Iは地方交付税交付金である。

公民全国答練 財政と金融

80点以上が合格！41～79点は再テスト！40点以下は宿題プレゼント！

第8回

問1 40点 問2 20点 問3 各20点

全て2013 神奈川

点

問1 —— 線①に関して、日本銀行の役割にあてはまるものを、次の1～4の中から一つ選び、その番号を書きなさい。

- 1 国の予算案を作成し国会に提出すること
- 2 争いごとを調停したり和解させたりすること
- 3 政府の資金を出し入れすること
- 4 個人から預かった資金を企業に貸し出すこと

生徒：1990年代以降の

日本の経済はどのような状況だったのですか。

先生：1990年代の日本の経済は低迷し、2000年代の日本の経済は、②デフレーションとよばれる現象に苦しんでいます。

表Ⅱ 就業状態別人口

| 年 | 労働力人口 | 完全失業者数 | 雇用者数 | 雇用者のうちの非正規の職員数 |
|------|--------|--------|---------|----------------|
| 1990 | 6,384万 | 134万人 | 4,690万人 | 881万人 |
| 2000 | 6,766万 | 320万人 | 5,267万人 | 1,273万人 |
| 2010 | 6,590万 | 334万人 | 5,479万人 | 1,756万人 |

(『日本国勢図会 2012/13年版』『数字で見る日本の100年』により作成)

問2 —— 線②に関して、デフレーションとよばれる現象を、15字以内で説明しなさい。なお、物価という語句を必ず用い、文末は「こと」で終わること。これらも全体の字数に入れること。

生徒：昨年、消費税の税率を引き上げることが決まったと報道されていました。

先生：そうですね。消費税は身近な税ですが、どのような特徴をもっている税か、所得税と比較して説明してください。

生徒：はい。所得税は直接税であり、表Ⅲが示すように、一方、消費税は間接税であり、所得金額に関係なく税率が同じというしくみになっています。

先生：よく理解していますね。ところで、国の財政にはどのような課題があると学習しましたか。

生徒：歳入において公債金による収入の割合が高いことと、歳出において④社会保障関係の支出の割合が高いことです。

表Ⅲ 所得税の税率の区分

| 課税される所得金額 | 税率 |
|--------------------|-----|
| 195万円以下 | 5% |
| 195万円を超え 330万円以下 | 10% |
| 330万円を超え 695万円以下 | 20% |
| 695万円を超え 900万円以下 | 23% |
| 900万円を超え 1,800万円以下 | 33% |
| 1,800万円超 | 40% |

(国税庁のホームページにより作成)

問3 にあてはまる文を、30字以内で書き、生徒の発言を完成させなさい。なお、所得金額という語句を必ず用い、文末は「しくみになっています」で終わること。これらも全体の字数に入れること。

公民全国答練 財政と金融

80点以上が合格！41～79点は再テスト！40点以下は宿題プレゼント！

第8回解答

問1 3

中央銀行である日本銀行の役割の1つに、政府の銀行として政府の資金を出し入れすることがある。この他に、銀行に資金を貸し出す銀行の銀行、紙幣を発行する発券銀行の役割がある。

問2 物価が継続的に下落すること。

インフレーションは物価が継続的に上昇すること、デフレーションは物価が継続的に下落することである。

問3 所得金額が多くなると、税率が高くなるしくみになっています。

表Ⅲをみると、課税される所得金額が多くなるほど、税率が5%、10%、20%…と高くなっている。

公民全国答練 財政と金融

80点以上が合格！41～79点は再テスト！40点以下は宿題プレゼント！

第9回

問1 各20点(問3完答)

点

問1 カードⅡの——線②に関して、次の 中の文は、Lさんが日本銀行の金融政策などについてまとめたものである。 中の B , C にあてはまるものの組み合わせとして最も適するものを、あとの1～4の中から一つ選び、その番号を書きなさい。2014 神奈川

景気が悪い時、日本銀行は、民間金融機関が保有する国債（公債）を購入することで、民間に流通するお金の量を B させ、景気の回復を図ります。
このような金融政策をとると、外国為替市場においては、円に対するドルの需要が一定ならば、 C いきます。

- 1 B : 減少 C : 円の価値がドルに対して上がって
- 2 B : 減少 C : 円の価値がドルに対して下がって
- 3 B : 増加 C : 円の価値がドルに対して上がって
- 4 B : 増加 C : 円の価値がドルに対して下がって

問2 ——線④に関して、税の趣旨、仕組み、役割を説明したものとして誤っているものを、次の1～4の中から一つ選び、その番号を書きなさい。2015 神奈川

- 1 税は、公平、公正の原則にもとづいて国民に負担を求める必要がある。
- 2 間接税とは、税を納める者と実際に税を負担する者が一致する税のことをいう。
- 3 税は、景気を刺激したり抑制する方策として用いられている。
- 4 累進課税の制度は、それぞれの支払い能力に応じた負担という考え方にもとづいてつくられている。

問3 我が国のおもな租税のうち、直接税であり国税でもあるものを、次のア～オから二つ選び、その番号を書きなさい。2014 新潟

ア 所得税 イ 固定資産税 ウ 消費税 エ 相続税 オ 自動車税

問4 Dのテーマについて、次の①、②の問いに答えなさい。2015 新潟

- ① 我が国における財政の役割として、最も適当なものを、次のア～エから一つ選び、その番号を書きなさい。
ア 経済のグローバル化に対応するため、直接、海外に進出して事業を営む。
イ 民間企業だけでは十分に供給できないものやサービスを国民に提供する。
ウ 手形や国債の市場での売買により、通貨量を調整して景気を安定させる。
エ 農産物のすべての市場価格を決定し、国内の食料の安定供給を確保する。
- ② 直接金融と間接金融は、それぞれどのような金融のしくみか。「企業」、「株式」、「金融機関」の三つの語句を用いて、60字以内で書きなさい。

公民全国答練 財政と金融

80点以上が合格！41～79点は再テスト！40点以下は宿題プレゼント！

第9回解答

問1 4

景気が悪いとき、日本銀行は民間に流通するお金の量を増やして、経済活動を活発化させる。このような政策をとると市場の通貨量が増えるため、円の価値がドルに対して下がる円安が進む。

問2 2

税を納める者と実際に負担する者が一致する税は直接税である。累進課税は、所得が多いほど税率が高くなる制度。

問3 ア、エ

直接税は、**ア**の所得税、**イ**の固定資産税、**エ**の相続税で、このうち固定資産税は市町村に納め、所得税と相続税は国に納める。

問4 ①イ

財政の役割には、民間企業では供給されにくい公共的な財やサービスを提供すること、累進課税や社会保障を通じて所得格差を是正すること、景気を安定させることなどがある。

②(例) **企業が株式などの発行を通じて資金を調達するしくみが直接金融であり、金融機関を通じて資金を調達するしくみが間接金融である。**

金融の方法は、金融機関を仲立ちにするかどうかで直接金融と間接金融に分かれる。

公民全国答練 財政と金融

80点以上が合格！41～79点は再テスト！40点以下は宿題プレゼント！

第10回

各10点

点

問1 日本銀行が行う金融政策について、景気が悪いときには、国債や手形の売買を通じてどのようにして景気安定を図るか。「市場」と「資金量」の二つの語句を用いて書きなさい。2013 新潟

問2 (c)支払いについて、商品を購入した場合、消費税が課されるが、下の説明文中のX～Zの()のA, Iからそれぞれ適切なものを選び、記号を書きなさい。2013 富山

消費税は、納税者と税負担者がX (A 一致している I 一致していない) のでY (A 間接税 I 直接税) である。消費税は税率が一定なので、低所得者の負担の割合がZ (A 低くなる I 高くなる) 傾向がある。

問3 (d)紙幣を国内で発行しているのは日本銀行であるが、日本銀行は発券銀行としての役割のほかに、どのような役割を果たしているか、解答例に合わせて2つ書きなさい。2013 富山改題

() の銀行 () の銀行

問4 (c)地方財政の状況について、次の文は、地方財政の歳入と歳出の状況について述べたものである。資料を参考にして、**D**～**G**に入る適切な語を資料中の①～⑪からそれぞれ選び、番号を書きなさい。2015 富山

平成24年度における地方財政の決算をみると、歳入では、地方公共団体が徴収する**D**だけでは地方公共団体の歳出には足りないため、不足する分は、国から配分される地方交付税や地方公共団体の借金である**E**で補っている。

歳出では、福祉関連の費用である**F**が最も多く、今後ますます増加することが予想される。また、借りたお金を返すための**G**の割合も大きい。

資料 地方財政の状況

平成24年度決算の構成比 (%)

| | | |
|----|---------|-------|
| 歳入 | ① 地方税 | 34.5 |
| | ② 地方交付税 | 18.3 |
| | ③ 地方譲与税 | 2.3 |
| | ④ 国庫支出金 | 15.5 |
| | ⑤ 地方債 | 12.4 |
| | その他 | 17.0 |
| | 合計 | 100.0 |
| 歳出 | ⑥ 民生費 | 24.0 |
| | ⑦ 教育費 | 16.7 |
| | ⑧ 公債費 | 13.5 |
| | ⑨ 土木費 | 11.7 |
| | ⑩ 総務費 | 10.3 |
| | ⑪ 衛生費 | 6.2 |
| | その他 | 17.6 |
| 合計 | 100.0 | |

D: E: F: G:

公民全国答練 財政と金融

80点以上が合格！41～79点は再テスト！40点以下は宿題プレゼント！

第10回解答

問1 (正答例) 国債や手形を買い取り、市場に出回る資金量を増やす。

日本銀行は、景気が悪いときは国債や手形などを買うことによって市場に出回る資金量を増やし、景気を回復させようとする。

問2 X：イ Y：ア Z：イ

消費税は、税を納める者と税を負担する者が一致していない間接税。税率は所得にかかわらず一定であることから、所得の低い人ほど税負担の割合が高くなる。

問3 政府（の銀行）、銀行（の銀行）

日本銀行は、発券銀行の役割のほかに、政府の資金を扱う政府の銀行、一般の銀行に資金を貸し出したり預金を受け入れたりする銀行の銀行としての役割を持つ。

問4 D：① E：⑤ F：⑥ G：⑧

- D 地方公共団体が徴収する自主財源は地方税。
- E 地方公共団体の借金を地方債という。
- F 歳出で最も多い福祉関連の費用は民生費。
- G 地方債の元本の返済や利子の支払いをする費用は公債費。

公民全国答練 財政と金融

80点以上が合格！41～79点は再テスト！40点以下は宿題プレゼント！

第11回

問1 10点 問2 30点 問3 各15点

問4 15点 問5 15点

点

問1 次のア～エのうち、間接税の特徴を表している文を1つ選び、その符号を書きなさい。2014 石川

- ア 所得が多い人ほど、税率が高くなる。
- イ 所得の少ない人ほど、所得全体にしめる税負担の割合が小さくなる。
- ウ 同じ金額の同じ商品を買うと、誰もが同じ税額を負担する。
- エ 税を納める人と負担する人が同じである。

問2 市町村税として最も適当なものを、次のア～エから1つ選んで記号で書け。2013 福井

- ア 所得税 イ 法人税 ウ 固定資産税 エ 相続税

問3

a 観光客が増えれば、なぜ県の財政が豊かになるのか。解答欄の書きだしに続けて説明せよ。

観光客が増えれば、福井県内の商品の

ので、税収が増えるから。

b 税金には国税と地方税がある。国税である所得税には累進課税の方法がとられている。累進課税とはどのような方法か、説明せよ。

問4 国の歳入における租税収入のうち、所得税には、累進課税の方法がとられている。その累進課税の例を示したものを、ア～ウから一つ選び、符号で書きなさい。2014 岐阜

| ア | | イ | | ウ | |
|-------|-------|-------|-------|-------|--------|
| 課税所得金 | 所得税額 | 課税所得金 | 所得税額 | 課税所得金 | 所得税額 |
| 300万円 | 約20万円 | 300万円 | 約20万円 | 300万円 | 約20万円 |
| 600万円 | 約20万円 | 600万円 | 約40万円 | 600万円 | 約80万円 |
| 900万円 | 約20万円 | 900万円 | 約60万円 | 900万円 | 約140万円 |

注：課税所得金額とは、1年間の所得から必要経費等を引いたものである。

問5 ③日本銀行の役割として誤っているものを、次のアからエまでの中から一つ選んで、そのかな符号を書きなさい。2014 愛知

- ア 企業や個人に資金を直接貸し付けることなどを通して、国内に通貨を流通させる。
- イ 一般の銀行に資金を貸し出したり、一般の銀行からの預金を受け入れたりする。
- ウ 税金などの政府の収入を預かったり、政府に代わって支払いを行ったりする。
- エ 金融政策の一つとして、市場に出回っている国債などの売買を行ったりする。

公民全国答練 財政と金融

80点以上が合格！41～79点は再テスト！40点以下は宿題プレゼント！

第11回解答

問1 ウ

間接税は、税を納める人と負担する人が異なる。所得にかかわらず税率は一定なので、同じ金額の同じ商品を買うと、負担する税額は誰もが同じになり、所得の少ない人ほど所得全体に占める税負担の割合が高くなる。

問2 ウ

ア、イ、エは国税である。

問3 a (観光客が増えれば、福井県内の商品の) 販売額が増える (ので、税収が増えるから。)

b 所得が多くなればなるほど、税率が高くなる方法である。

- a 商品の販売額が増えれば、税収も増えることになる。
- b 所得が多くなるにしたがって、税率も高くなる課税方法を、累進課税という。

問4 ウ

累進課税は、課税所得金額が多いほど税率が高くなる制度。アは課税所得金額の多少にかかわらず税額が一定である。イはいずれの課税所得金額でも税率が一定である。

問5 ア

日本銀行は一般の企業や個人とは直接取り引きしない。一般の銀行に対して預金の受け入れや資金の貸し出しを行う、銀行の銀行としての役割や、政府の資金の取り扱いをする政府の銀行としての役割を持つ。また、国債を売買することなどによって景気を調節する金融政策を行う。

公民全国答練 財政と金融

80点以上が合格！41～79点は再テスト！40点以下は宿題プレゼント！

第12回

各20点（問1②③④完答）

| |
|---|
| 点 |
|---|

問1 目次 IIについて、春さんは資料3を用意し、日本の歳出と歳入について調べた。2015 長野

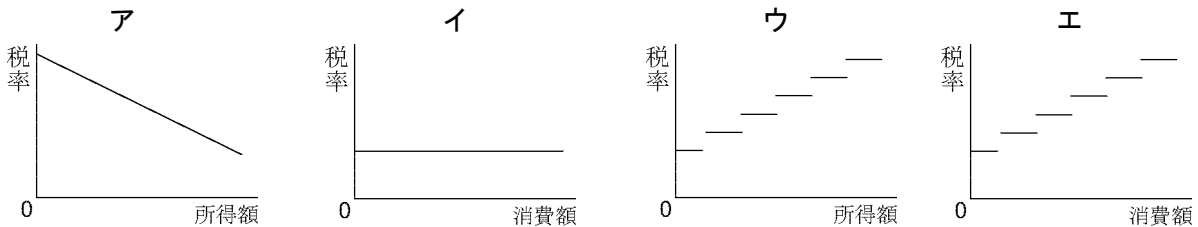
- ① 政府が税金などで収入を得て、国民生活と福祉の向上のために必要な支出を行う経済活動を何というか、漢字2字で書きなさい。
- ② 資料3のア～エのうち、直接税に当たるものをすべて書きなさい。

資料3 平成26年度一般会計予算

| 歳出 (兆円) | | 歳入 (兆円) | |
|----------|------|----------|------|
| 社会保障 | 30.5 | ア 所得税 | 14.8 |
| 地方交付税交付金 | 16.1 | イ 法人税 | 10.0 |
| 公共事業 | 6.0 | ウ 消費税 | 15.3 |
| 文教 | 5.4 | その他の租税収入 | 9.9 |
| 防衛 | 4.9 | エ 公債金 | 41.3 |
| 国債費 | 23.3 | その他収入 | 4.6 |
| その他 | 9.7 | | |
| 計 | 95.9 | 計 | 95.9 |

(財務省資料より作成)

- ③ 日本の歳入にかかわって、所得税と消費税の特徴を表す図として適切なものを、次のア～エからそれぞれ1つずつ選び、記号を書きなさい。



- ④ 春さんは、日本の歳出と歳入についてレポート1にまとめた。レポート1のあ、いに当てはまる適切な語句をそれぞれ書きなさい。ただし、あは、小数第1位を四捨五入して整数で表すこと。また、いは、公債金と国債費の2語を用いて15字以内で書くこと。

レポート1 日本の歳出は、社会保障と地方交付税交付金、国債費で、歳出全体の **あ** 割以上を占めている。一方、歳入面を見ると、国民が納める税金は必要な予算の5割程度で、4割程度を公債金でまかなっている。**い** ので、日本の借金は増加していく。

問2 一つひとつのものやサービスの価格ではなく、いろいろな商品の価格をひとまとめにして、平均化したものを何というか、書きなさい。2014 三重

公民全国答練 財政と金融

80点以上が合格！41～79点は再テスト！40点以下は宿題プレゼント！

第12回解答

問1

① 財政

歳入と歳出による政府の経済活動を財政といい、現代の経済ではその役割は大きい。

② ア、イ

直接税とは、税金を納める人と負担する人が一致する税金のことで、所得税や法人税が代表的である。両者が一致しない税金は間接税という。エの公債金は税ではなく、政府の借金のこと。

③ 所得税：ウ 消費税：イ

所得税は、所得額が増えるほど税率が高くなる累進課税の方法をとっている。消費税は、すべての商品・サービスの価格に一定の税率がかけられているので、消費額にかかわらず税率は一定である。

④ あ：7 い：(例) 公債金のほうが国債費より多い

あ $(30.5 + 16.1 + 23.3) \div 95.9 \times 10 = 7.2\dots$ より、7割以上である。

い 国債費とは借金の返済分のことで、これが23.3兆円。他方、借金である公債金は41.3兆円と、国債費より多くなっている。

問2 物価

公民全国答練 財政と金融

80点以上が合格！41～79点は再テスト！40点以下は宿題プレゼント！

第13回

問1各10点 問2 (1) 20点 (2) 10点 (3) 各15点

| |
|---|
| 点 |
|---|

問1 会話文1中の下線部aにかかわって、太郎さんは日本の税制についてノート1にまとめた。2013 長野

ノート1

- ① ノート1中のあ～うに当てはまる適切な語句を、それぞれ漢字で書きなさい。
- ② 自動車税はノート1中のア～エのどこに当てはまるか、適切なものを1つ選び、記号を書きなさい。

| | あ 税 | い 税 |
|-----|-------------------|-------------------|
| う 税 | ア 所得税 法人税 | イ 消費税 酒税 |
| 地方税 | ウ 事業税 固定資産税 | エ 地方消費税 入湯税 |

問2 C班は「価格と景気」について調べ、景気の動きを図2のようにまとめた。図2、資料4、5を見て、次の(1)～(3)の問いに答えなさい。2014 滋賀

- (1) 価格には、多くの商品やサービスのように、需要量と供給量の変化に応じて、市場で決まる価格がある。それ以外に、資料4に示すように、政府が認可したり、政府に届け出ることによって定められる価格がある。資料4に示されているような価格がある理由を書きなさい。

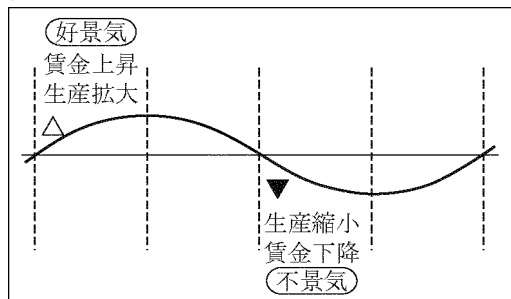
資料4

(2014年1月)

| | |
|-----------------|------|
| ■ 京都駅～大阪駅間の鉄道運賃 | 540円 |
| ■ 通常はがきの郵便料金 | 50円 |

- (2) 図2の△印のときは、消費も生産も活発で物価が上昇する。物価が上昇し続ける現象を何というか。書きなさい。
- (3) 図2の▼印のときは、消費も生産も減少する。このようなとき、政府が行う財政政策と日本銀行が行う金融政策を、資料5のようにまとめた。政府は、資料5のIの政策を行うことで、企業や家計の購買力を増やして景気の回復をうながしている。資料5のII、IIIの政策を行うことで、景気の回復について、どのような効果があると考えられるか。それぞれについて書きなさい。

図2



資料5

| | | |
|------|-----|-------------------------------|
| 政府 | I | 減税により国民の税負担を減らす |
| | II | 公共事業への支出を増やす |
| 日本銀行 | III | 一般の銀行から国債を買い、一般の銀行の貸し出し資金を増やす |

II :

III :

公民全国答練 財政と金融

80点以上が合格！41～79点は再テスト！40点以下は宿題プレゼント！

第13回解答

問1

① あ：直接（税） い：間接（税） う：国（税）

うは、地方公共団体に納める地方税に対して、国に納める税で国税である。あは税を納める人と負担する人が同じ直接税、いは税を納める人と負担する人が異なる間接税である。

② ウ

自動車税は、直接税で地方公共団体に納める地方税である。

問2

(1) 国民の生活に及ぼす影響が大きいものは、価格を安定させる必要があるから。

鉄道運賃や郵便料金、電気料金などは、価格が大きく変動すると国民の日常生活に与える影響が大きいため、政府や地方公共団体が決定・認可する。これを公共料金という。

(2) インフレーション

物価が上昇し続ける現象をインフレーション、物価が下がり続ける現象をデフレーションという。

(3)

Ⅱ 企業はものを買ひ、雇用を増やす。雇用が増えることで、家計もものを買ひ。

公共事業への支出を増やし、企業の活動を活発化させることで、雇用が増え、家計の収入も増える。

Ⅲ 企業や家計は銀行からお金が借りやすくなり、そのお金を使ってものを買ひ。

一般の銀行の貸し出し資金が増えることで、家計や企業は銀行からお金を借りやすくなる。

公民全国答練 財政と金融

80点以上が合格！41～79点は再テスト！40点以下は宿題プレゼント！

第14回

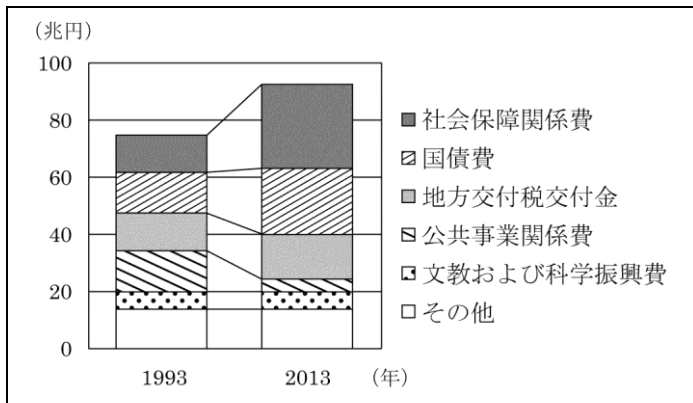
各50点

点

問1 F班のテーマについて、国の収入は、原則的に家計や企業が国に納める国税で支えられている。国に納める所得税、消費税などの国税について述べた文として最も適当なものはどれか、次のア～エから1つ選び、その記号を書きなさい。2013 三重

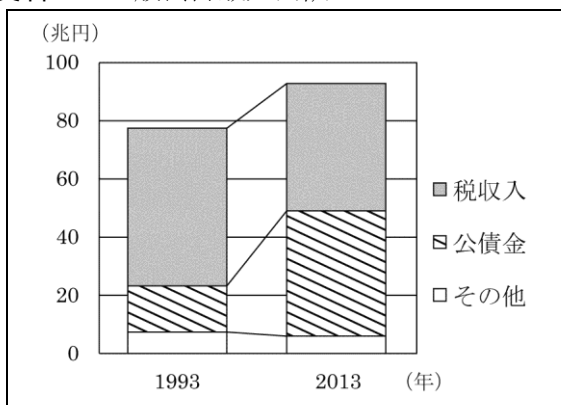
- ア 所得税は、所得に関わらず同じ税率で税金を納める。
- イ 所得税は、税を負担する人と税を納める人が同じである。
- ウ 消費税は、高所得者ほど所得に占める税負担の割合が高くなる傾向がある。
- エ 消費税などの間接税は、所得税などの直接税よりも国の収入に占める割合が高い。

資料1 一般会計歳出内訳



【「数字で見る日本の100年」より作成】

資料2 一般会計歳入内訳



【「数字で見る日本の100年」より作成】

問2 資料1, 2から、国の借金はどんどん累積していくことが予測できるのはなぜか。2015 滋賀

公民全国答練 財政と金融

80点以上が合格！41～79点は再テスト！40点以下は宿題プレゼント！

第14回解答

問1 イ

- ア 所得税は、課税所得が多いほど税率が高くなる累進課税のしくみをとっている。
- イ 所得税は納める人と負担する人が一致する直接税である。
- ウ 消費税は、低所得者ほど所得に占める税負担の割合が高くなる。
- エ 日本は、直接税の方が国の収入に占める割合が高い。

問2 国が返済する歳出の国債費よりも、借金である歳入の公債金の金額が大きいから。

2013年は、国債の返済や利子の支払いにあてる国債費が約20兆円、国債の発行による収入にあたる公債金は約40兆円になっている。国債は国の借金であり、元金の返済や利子の支払いをする必要がある。

公民全国答練 財政と金融

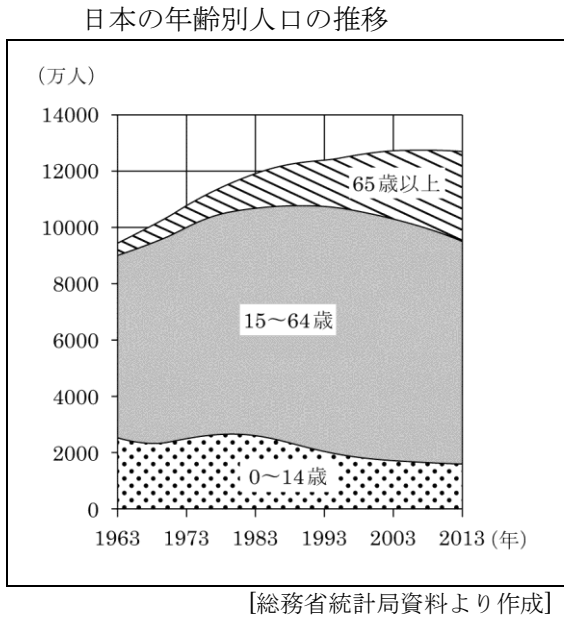
80点以上が合格！41～79点は再テスト！40点以下は宿題プレゼント！

第15回

問1 各30点 問2 40点

点

問1 太郎さんたちは、日本の年齢別人口の推移を調べて左下のグラフを作成しました。今後も、少子高齢化が進むと、日本の一般会計の歳出、歳入において、どのような課題があると考えられるか。資料すべてを見て、具体的に書きなさい。

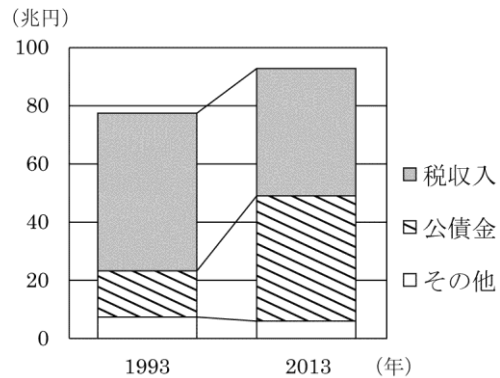
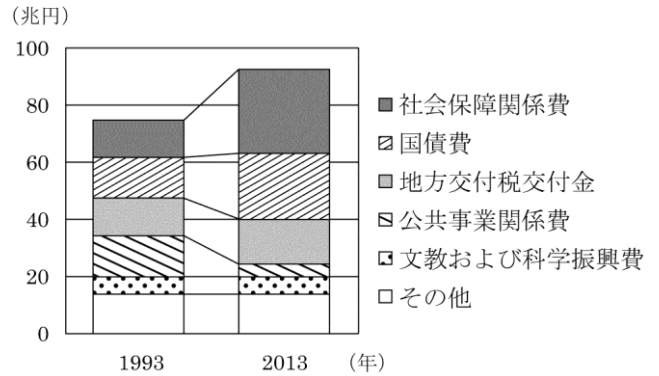


歳出：

歳入：

一般会計歳出内訳

2015 滋賀



一般会計歳入内訳

問2 資料IVは、「買い物で地元応援！」というポスターとその中の説明の一部である。県内消費の拡大によって期待される効果は何か。その効果の1つを、資料IVを参考にして、「歳入」の語を用いて簡潔に書け。

資料IV

消費税5%のうち1%は、地方消費税です。(後略)

公民全国答練 財政と金融

80点以上が合格！41～79点は再テスト！40点以下は宿題プレゼント！

第15回解答

問1

歳出：高齢者の人口の増加による、社会保障関係費の増加。

歳入：働き手の数の減少による、税収入の減少。

歳出については、資料のように65歳以上の高齢者が占める割合が高まっていくと、年金の支払いなどの社会保障関係費が増えていくことが考えられる。また、歳入については、少子化が進むと働き手が減少するので、税収が減少していくことが予想される。

問2 (例) 地方消費税が増えることで、地方公共団体の歳入が増加すること。

ポスターの中に、消費税5%のうち1%は地方消費税であることが示されている。地元で買い物をすることで、地方公共団体の税収が増えることになる。

公民全国答録 財政と金融

80点以上が合格！41～79点は再テスト！40点以下は宿題プレゼント！

第16回解答

問1 ア

法人税は直接税で国税，自動車税は直接税で地方税，酒税は間接税で国税である。

問2 低所得者ほど所得に占める間接税の負担の割合が高くなるから。

消費税などの間接税は，所得にかかわらず同じ税率が摘要されることから，低所得者ほど負担感が重くなる。

問3 イ しょうひしゃきほん（法）

家計は企業に労働力を提供し，賃金を受けることから，Bは労働力，Aは賃金。Cは家計，企業の両方から政府に向かっている矢印なので，税金があてはまる。

公民全国答練 財政と金融

80点以上が合格！41～79点は再テスト！40点以下は宿題プレゼント！

第17回

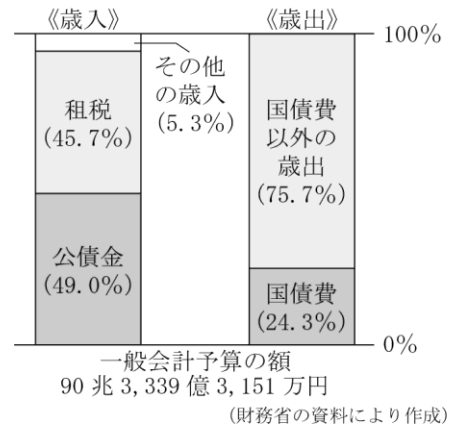
各25点（完答）

点

2013 大阪

問1 ㉔国債残高は、2004（平成16）年度に当時のGDPの1年分を超え、その後も増加し続けている。Kさんは、国債残高について考察するため、一般会計歳入と一般会計歳出のそれぞれの内訳について調べた。図Ⅲは、2012（平成24）年度における一般会計歳入と一般会計歳出のそれぞれの内訳を表したものである。次の文は、Kさんが調べた内容と、図Ⅲから読み取って考察した内容である。文中の〔 〕から適切なものを一つ選び、記号を書きなさい。また、文中の（㉕）には、国債残高を減少させるために歳入の内訳をどのようにするのかについて、2012年度予算をもとにしてKさんが考察した内容が入る。（㉕）に入れるのに適している内容を、「公債金」「租税」の二語を用いて簡潔に書きなさい。

図Ⅲ 一般会計歳入と一般会計歳出の内訳



- ・歳入は原則として税金によってまかなわれる。税金から得られる収入だけで必要な歳出をまかなうことができない場合、政府は国債を発行して資金の借入れを行う。歳入において、「租税」は税金から得られる収入の額を表し、「公債金」は国債を発行して借入れを行う額を表している。
- ・歳出における「国債費」は、国債の発行により借入れた資金の返済を行う額を表している。
- ・歳入における「公債金」から歳出における「国債費」をひいた額をx円とすると㉕〔ア x < 0
イ x > 0〕となると、国債残高は減少する。
- ・国債残高を減少させることについて、歳入における「公債金」と「租税」の二つの点から考察すると、歳出の総額を変更しない場合（㉕）ことによって国債残高は減少する。

b :

問2 ㉖景気の変動を小さくして経済の安定化をはかるため、政府は景気の調節を行う。次の文は、政府が行う経済活動について述べたものである。文中の下線部ア～ウのうち、誤っているものを一つ選び、記号を書きなさい。また、その語を正しい語に直して書きなさい。

政府は、税金や国債の発行などによって収入（歳入）を得て、それをもとにして支出（歳出）を行っている。政府によるこのような経済活動はア**財政**と呼ばれている。租税のうち、納める人と実際に負担する人が同じ税はイ**直接税**である。租税の負担において公平をはかるため、所得税については、所得が多くなるにつれて税率が高くなるウ**均衡価格**のしくみが設けられている。

記号： 正しい語：

公民全国答録 財政と金融

80点以上が合格！41～79点は再テスト！40点以下は宿題プレゼント！

第17回解答

問1 ①ア ②「公債金」を減らし、「租税」を増やす

「公債金」は借入れを行う額、「国債費」は返済を行う額なので、「公債金」が「国債費」より少なくなれば、国債残高は減少する。歳出の総額を変更しないで国債残高を減少させるには、歳入において「租税」による収入を増やすことで「公債金」を減らす。

問2 記号：ウ 正しい語：累進課税

所得税で導入されている、所得が多くなるにつれて税率が高くなるしくみを、累進課税という。均衡価格は、市場において需要量と供給量が一致したときの価格。

公民全国答練 財政と金融

80点以上が合格！41～79点は再テスト！40点以下は宿題プレゼント！

第18回

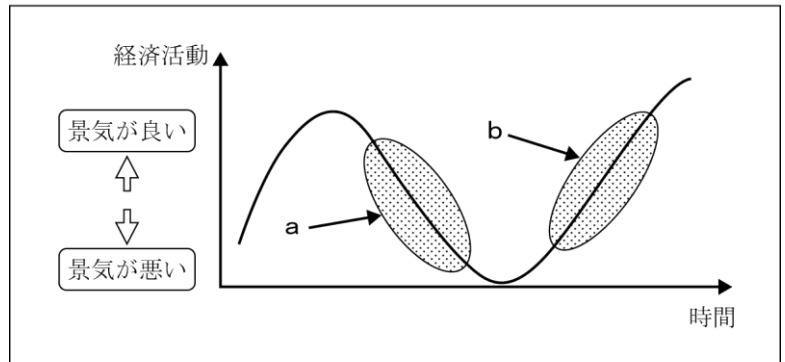
問1・問3 各20点 問2 20点

点

問1 2008年におきた世界金融危機は、世界各国の経済に大きな影響をおよぼし、グローバル化する経済がもつ一面を明らかにした。この危機後の日本の景気は、**グラフ3**のa, bどちらの局面と考えられるか、**アルファベット**で答えなさい。

また、景気がこのような局面にある時、ゆきすぎた経済のうごきをおさえるために、一般的に政府がとる**財政政策**をひとつ答えなさい。2013 鳥取

グラフ3



注…**グラフ3**は、景気循環を図示したものであり、縦軸が経済活動、横軸が時間の経過を示している。

問2 下線部 (d) に関連して、金融には、直接金融と間接金融がある。**直接金融**の例を、次の語句を使い、**20字程度**で説明しなさい。ただし、「**企業が**」という書き出しで説明すること。2013 島根

発行

問3 右に示した、住宅の建て替え資金に関する陽子さんの母の発言について、(ア)、(イ)に答えなさい。

(ア) 次のX, Yの文は、我が国の消費税について説明したものである。それぞれの文の内容について正誤を表したものととして適当なのは、(1)～(4)のうちのどれですか。一つ答えなさい。



家は高い買い物だから、消費税などの税金もかなりの金額になるの。建て替え資金を借りるために来週は銀行との打ち合わせがあるけれど、今は低金利だから借りやすいわ。

X 税負担者と納税者が異なっている。

Y 同じものを購入すると、一般に所得の低い人ほど負担感が大きい。

(1) X, Yのどちらも正しい。

(2) Xのみ正しい。

(3) Yのみ正しい。

(4) X, Yのどちらも誤っている。

(イ) 景気対策に関する次の文章中の に当てはまることばは、(1)～(4)のうちではどれですか。一つ答えなさい。

金利が低いのは、一般に不景気の時期と考えられる。不景気の対策として、日本銀行は を実施し、景気の調節を図る。

(1) 国債を売るなどの金融政策

(2) 国債を買うなどの金融政策

(3) 国債を売るなどの財政政策

(4) 国債を買うなどの財政政策

2013 岡山

公民全国答練 財政と金融

80点以上が合格！41～79点は再テスト！40点以下は宿題プレゼント！

第18回解答

問1 a (例) 減税する、(例) 公共事業を拡大する など

景気変動のうち、不景気の局面を表しているのは下り坂のa。また不景気の時、政府は、減税、公共事業の拡大、公債の発行などの政策をとる。

問2 企業が株式を発行して資金を調達すること。

直接金融は、銀行などの金融機関が仲立ちせずに、企業が株式の発行などによって直接資金を集めること。

問3 (ア) 1 (イ) 2

- (ア) 消費税は、税負担者と納税者が異なる間接税である。また、消費税は税率が一律なので、所得の低い人ほど負担が大きくなる。
- (イ) 日本銀行が景気を調節するために行う政策を金融政策という。不景気するとき、日本銀行は一般の銀行から国債を買うことで、一般の銀行の資金量を増やす。

公民全国答練 財政と金融

80点以上が合格！41～79点は再テスト！40点以下は宿題プレゼント！

第19回

問1 各20点 問2 30点 問3 各10点

点

問1 次の文は、政府が行う政策や日本銀行が行う政策について述べている。文中の下線部ア～エから適当でないものを、一つ選んで記号で答えなさい。2014 島根

景気が悪いときには、政府は、ア公共事業を減らし、イ減税を行って、生産や消費活動を活発にしようとする。一方、日本銀行は、ウ銀行から国債などを買い、銀行の資金量を増やし、それによって、エ銀行から企業への貸し出しを増加させようとする。

問2 政府は不況のときには減税や公共事業への支出の増加によって景気の回復をうながしたり、好況のときには増税や公共事業への支出の削減によって景気を引き締めたりすることで景気を調節している。政府のおこなっているこのような経済政策は何と呼ばれるか。その呼び名を書け。2014 香川

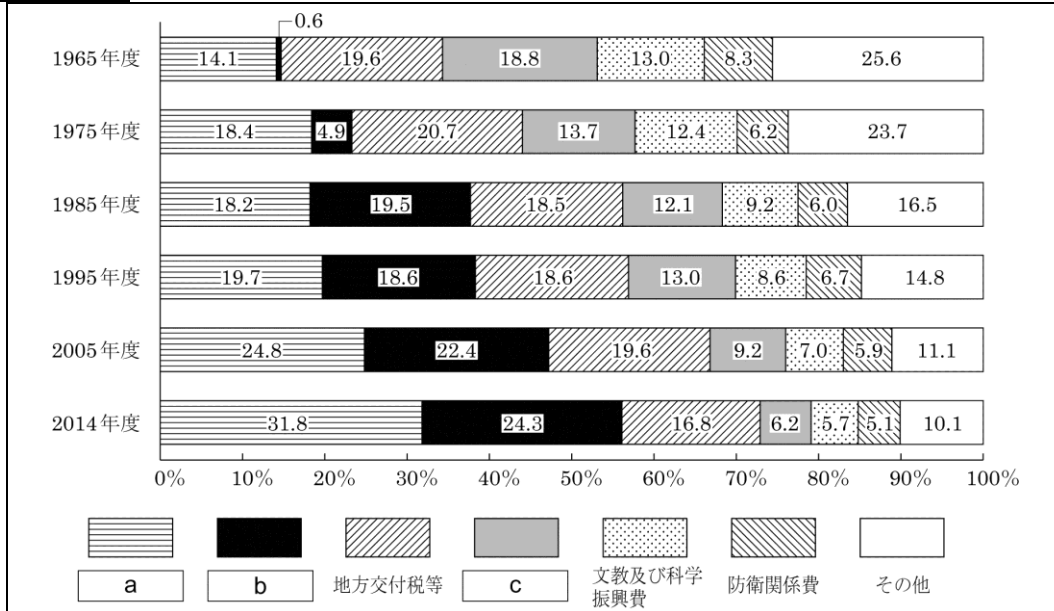
問3 次の文は、国が国債により歳入を補うことに賛成する人々の意見と反対する人々の意見を、先生が示したものである。文中の に適当な言葉を書き入れて文を完成させよ。ただし、 には、**国債** **税金** の二つの言葉を含めること。2014 愛媛

賛成意見： 国債により、公共サービスを提供するための財源を確保することができる。

反対意見： が必要なので、将来、国民に負担をかけてしまう。

問4 次の資料Iは、我が国の歳出の項目別割合の推移を表したものである。資料中の a ~

c に当てはまることばの組み合わせとして正しいものを、下のア～エから一つ選び、その記号を書け。



(財務省の資料による)

- | | | | |
|---|-----------|-----------|-----------|
| ア | a－国債費 | b－公共事業関係費 | c－社会保障関係費 |
| イ | a－国債費 | b－社会保障関係費 | c－公共事業関係費 |
| ウ | a－社会保障関係費 | b－国債費 | c－公共事業関係費 |
| エ | a－社会保障関係費 | b－公共事業関係費 | c－国債費 |

2015 高知

公民全国答録 財政と金融

80点以上が合格！41～79点は再テスト！40点以下は宿題プレゼント！

第19回解答

問1 ア

景気が悪いとき、政府は経済を活発化させるために、公共事業を増やしたり減税をしたりする。公共事業を減らすのは、景気のゆきすぎをおさえるとき。

問2 財政政策

問3 〈例〉国債を税金で返済することが必要なので

国債は国の借金なので、元金の返済や利子の支払いが必要となる。

問4 ウ

年々割合が増加し、2014年度は30%を超えているaは社会保障関係費、1965年や1975年は割合が小さいが、その後大きくなっているbは国債費、残るcは公共事業関係費。

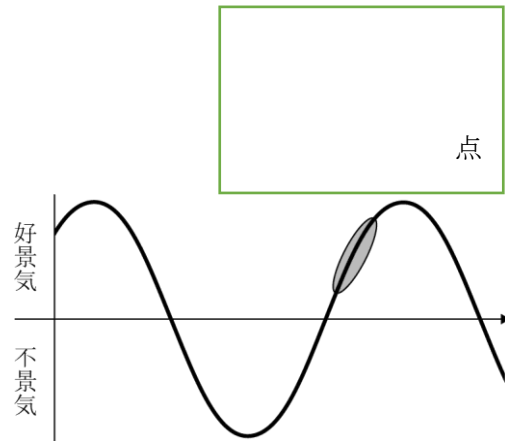
公民全国答練 財政と金融

80点以上が合格！41～79点は再テスト！40点以下は宿題プレゼント！

第20回

各20点

問1 右の図は、②を模式的に表したものである。図中の○印で示した時期における経済の様子は、一般にどのようなになっているか、消費、物価、生産の三つの言葉を用いて簡単に書け。2013 愛媛



問2 日本銀行は、我が国の景気が安定するように、経済全体に流通するお金の総額を管理する責任を負っている。この日本銀行が行う金融政策に関して述べた文として正しいものを、次のア～エから一つ選び、その記号を書け。2014 高知

- ア 景気がよすぎるときには、日本銀行は国債を売るなどして市場に出まわるお金の量を増やし、景気を抑えようとする。
- イ 景気がよすぎるときには、日本銀行は国債を買うなどして市場に出まわるお金の量を減らし、景気を抑えようとする。
- ウ 景気が悪いときには、日本銀行は国債を売るなどして市場に出まわるお金の量を減らし、景気をよくしようとする。
- エ 景気が悪いときには、日本銀行は国債を買うなどして市場に出まわるお金の量を増やし、景気をよくしようとする。

問3 次の文は、わが国の税金について述べようとしたものである。文中の□内にあてはまる最も適当な言葉を書け。2013 香川

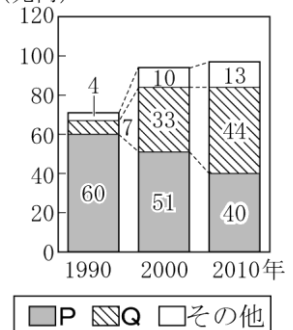
税金には直接税と間接税がある。そのうち間接税は、同じ商品を買った人は同じ額の税金を支払うので、所得が少ない人ほど所得に占める税負担の割合が□なるという傾向がある。

問4 資料は、わが国の歳入の内訳の変化を示し、下の□は、財政の問題の一つについて説明したものである。〔 〕にあてはまる内容を、資料のP、Qにあてはまるそれぞれの語句を使って書け。

2013 福岡

〔 〕のために、将来の世代に負担をかけることになる。

資料
(兆円)



(2012/13年版「日本国勢図会」等から作成)

問5 累進課税の制度は、公平・公正の考え方をもとにして取り入れられたものである。累進課税の制度のしくみを、「所得」の語句を使って書け。2013 福岡

公民全国答練 財政と金融

80点以上が合格！41～79点は再テスト！40点以下は宿題プレゼント！

第20回解答

問1 〈例〉消費が増え、物価が上昇し、生産が拡大している。

好景気の上り坂にあるので、消費、物価、生産のいずれも上昇傾向にある状態であることを書く。

問2 エ

日本銀行は、景気が悪いときは国債を買うなどして、市場に出まわるお金の量を増やす。反対に景気がよすぎるときには国債を売るなどして、市場に出まわるお金の量を減らす。

問3 重く、高く、大きく などから1つ

消費税などの間接税は、所得の多少にかかわらず税率が一定になるので、所得が少ない人ほど税負担が大きくなってしまう。

問4 (例) 税金が減り、国債発行額が増えることで、借金が増える

1990年には歳入の大部分を占めていたが、近年は割合が大きく減少しているPは税金を示している。逆に近年割合が大きく増えているQは、税金の不足を補うために発行された国債による収入を示している。

問5 (例) 所得の高い人ほど税率が高くなる。

所得税などで取り入れられている累進課税の制度は、所得が高いほど税率が高くなる税のしくみである。所得の高い人には高い税率を、所得の低い人には低い税率を適用することで、税負担の公平をはかっている。

公民全国答練 財政と金融

80点以上が合格！41～79点は再テスト！40点以下は宿題プレゼント！

第21回

問1～問3 各20点（問2は完答） 問4 各20点

点

問1 現在の消費税は、ほとんどのモノやサービスに対して一律5%の課税がなされている。こうした課税方式は、広く国民から納税をしてもらうことができ、また、税収が景気の動向に左右されにくいなどのよい点があるが、一方で問題点も指摘されている。一定の割合での課税方法を原因とする消費税の問題点について、簡潔に書きなさい。2013 佐賀

問2 企業が納める「地方税」の中で「直接税」にあたるものはどれか、次のア～エの中から二つ選び、記号を書きなさい。2014 佐賀

ア 事業税 イ 関税 ウ 消費税 エ 固定資産税

問3 資料3の下線部に対する答えとして最も適当なものを、下のア～エの中から一つ選び、記号を書きなさい。

資料3 中国の友人Dさんとの会話

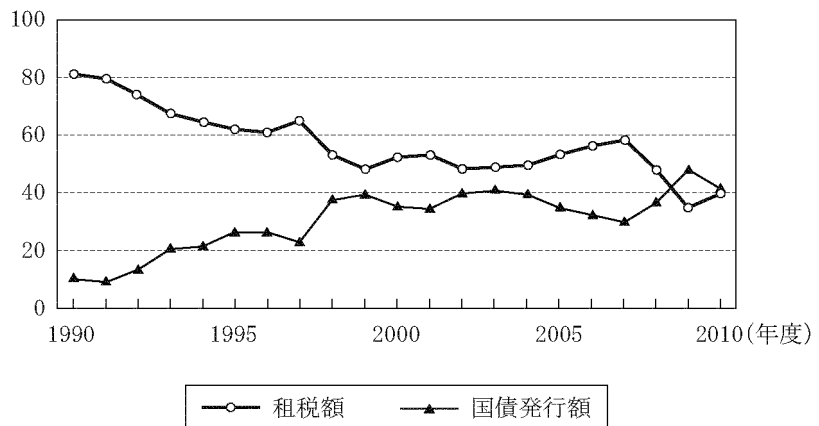
2014 佐賀

A：中国での景気の過熱ぶりは日本でもすごく話題になっているわよ。高級マンションや高級車が売れているって。
D：だけど、この過熱ぶりは気になるところね。景気の過熱を抑制したいとき、日本の政府はどんな財政政策をしているのかな。

ア 公共事業を増やし、増税をする。 イ 公共事業を増やし、減税をする。
ウ 公共事業を減らし、増税をする。 エ 公共事業を減らし、減税をする。

問4 グラフは、わが国の一般会計歳入総額に占める租税額の割合と国債発行額の割合を示したものである。財政における国債に関する問題点について述べた次の文の 、 にあてはまる内容を簡潔に書け。2013 長崎

グラフ 一般会計歳入総額に占める租税額の割合と国債発行額の割合 (%)



(財務省資料から作成)

グラフをみると、租税額の割合と国債発行額の割合のあいだには、 という関係がみられる。国の借金である国債は、いずれ返済しなければならないので、国債に大きく依存し続けると将来の世代に という問題点が考えられる。X：

Y：

公民全国答練 財政と金融

80点以上が合格！41～79点は再テスト！40点以下は宿題プレゼント！

第21回解答

問1 所得の少ない人ほど負担が重くなる。／所得の多い人ほど負担が軽くなる。

消費税のように一定の割合で課税されると、所得の多い人も少ない人も同じ割合の税を負担することになるので、所得の少ない人ほど税の負担が重くなってしまいます。

問2 ア、エ

事業税と固定資産税は税を納める人と負担する人が同じである直接税、関税と消費税は税を納める人と負担する人が異なる間接税である。

問3 ウ

景気の行き過ぎを抑制するために、政府は公共事業を減らして増税をする。

問4 X：租税額の割合が低くなると、国債発行額の割合は高くなる

Y：負担が残る

国債は歳入の不足分を補うために発行されるので、租税額の割合が高いときは国債発行額の割合は低く、租税額の割合が低いときは国債発行額の割合は高くなる。国債は国の借金であり、元金の返済や利子の支払いをしなければならないので、国債の発行額が多いと将来の世代の負担が大きくなる。

公民全国答録 財政と金融

80点以上が合格！41～79点は再テスト！40点以下は宿題プレゼント！

第22回

問1 20点(完答) 問2 各20点 問3 各10点 問4 20点

点

問1 中央銀行を除く一般の銀行に関する説明として正しいものを、次のア～エから二つ選び、記号で答えなさい。2013 熊本

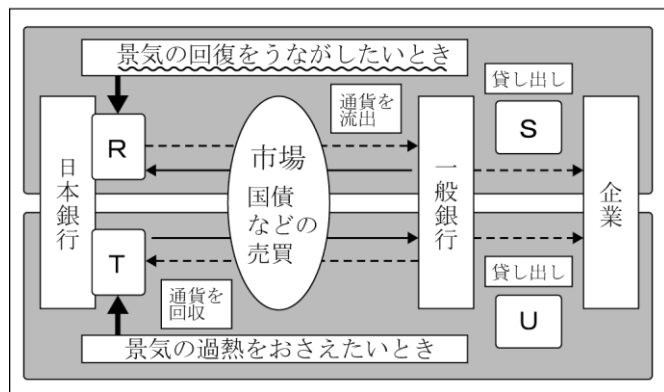
- ア すべての銀行は、発券銀行として紙幣を発行する役割をもっている。
- イ 銀行は、預かったお金を企業などに貸し出す間接金融の担い手となっている。
- ウ 一般的に銀行が貸し出し先から受け取る利子率は、預金者に支払う利子率より低く設定される。
- エ 銀行では、預金などを利用して、現金を使わずに代金の支払いをおこなうことができる。

問2 地方公共団体の収入として国から配分される財源のうち、特定の仕事をを行うためのものとして a (ア 国庫支出金 イ 地方交付税) がある。また、地方公共団体が収入の不足分を補うための借入金(借金)のことを b という。a の () の中から適当なものを一つ選び、記号で答えなさい。また、b に当てはまる語を書きなさい。2015 熊本

問3 Cに関連して、資料Ⅲは、日本銀行の主な金融政策である公開市場操作についてまとめたものである。①、②の問いに答えなさい。2013 大分

① 資料Ⅲ中の波線部に関連して、不景気のときにみられやすいデフレーションとは、どのようなことか、簡潔に書きなさい。

資料Ⅲ 日本銀行の金融政策(公開市場操作)のしくみ



② 資料Ⅲ中のR～Uに当てはまることからの組み合わせとして正しいものを、ア～エから1つ選び、符号を書きなさい。

- ア R：国債などを買う S：増える T：国債などを売る U：減る
- イ R：国債などを買う S：減る T：国債などを売る U：増える
- ウ R：国債などを売る S：減る T：国債などを買う U：増える
- エ R：国債などを売る S：増える T：国債などを買う U：減る

問4 次の文は、財政の役割について述べたものである。資料4を参考にして、文中の Y に当てはまる内容を、「所得」という語句を用いて、簡潔に書きなさい。2015 大分

政府の経済活動を財政といい、大きく3つの役割があります。第1は、民間企業だけでは、十分に供給できない社会資本や公共サービスを提供することです。第2は、社会保障などの支出や資料4の税のしくみによって、国民の Y することです。第3は、日本銀行と協調しながら景気を安定させることです。

資料4 所得税の課税率

| 課税所得金額(注) | 税率 |
|--------------|-----|
| 195万円以下 | 5% |
| 195～330万円以下 | 10% |
| 330～695万円以下 | 20% |
| 695～900万円以下 | 23% |
| 900～1800万円以下 | 33% |
| 1800万円超 | 40% |

(注) 1年間の所得から、各種の控除額を差し引いた金額のこと

公民全国答練 財政と金融

80点以上が合格！41～79点は再テスト！40点以下は宿題プレゼント！

第22回解答

問1 イ、エ

ア 日本の発券銀行は、日本銀行だけである。

ウ 銀行が貸し出し先から受け取る利子率は、預金者に払う利子率より高く設定される。この差が銀行の利益となる。

問2 a ア b 地方債

国から地方公共団体へ配分される財源のうち、特定の仕事をを行うためのものを国庫支出金、使い道の指定がないものを地方交付税（交付金）という。また税収の不足を補うため、国は国債を、地方公共団体は地方債を発行する。

問3

① 物価が下落すること

物価が下落し続けることをデフレーション、物価が上昇し続けることをインフレーションという。

② ア

景気の回復をうながしたいとき、日本銀行は国債などを買うことで通貨を市場に流出させ、一般の銀行から企業や家計への貸し出しを増やそうとする。

問4 所得の格差を小さく（所得を再分配）

財政の役割は、公共サービスの提供、所得の再分配、景気の安定。

公民全国答録 財政と金融

80点以上が合格！41～79点は再テスト！40点以下は宿題プレゼント！

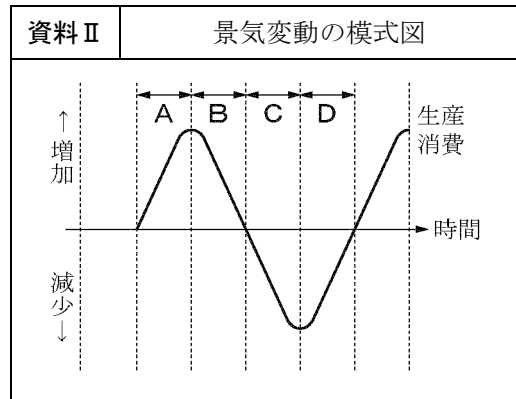
第23回

問1 20点 問2 各10点 問3 30点 問4 各10点

| |
|---|
| 点 |
|---|

問1 景気変動が雇用などのさまざまな面に与える影響について、資料Ⅱをもとに調べました。調べた内容の説明として**適当でないもの**を、次のア～エから1つ選び、記号で答えなさい。2013 宮崎

- ア Aの時期はものが売れずに、労働者の賃金が下がっていく。
- イ Bの時期は徐々に商品の価格が下がり、企業の利潤が減少していく。
- ウ Cの時期は企業の倒産が増え、失業者が増加していく。
- エ Dの時期は徐々に消費が増え、企業の生産活動が活発になっていく。

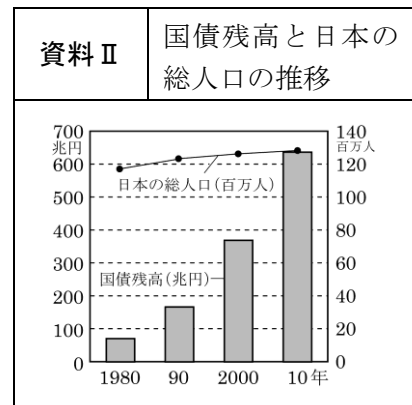
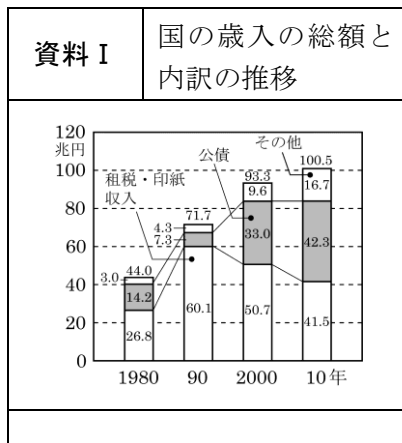


問2 由香さんは、傍線部**b**について、さまざまな観点から考えるために統計資料を準備し、資料Ⅱのように表にして整理しました。資料Ⅱの**①**～**③**のそれぞれに入る統計資料として最も適切なものを、次のア～ウから1つずつ選び、記号で答えなさい。2014 宮崎

| 資料 | 由香さんが整理した表 | |
|----|------------|------|
| | 観 点 | 統計資料 |
| | 税金の公平性 | ① |
| | 財政状況 | ② |
| | 景気への影響 | ③ |

- ア 消費税増税前後の経済成長率
- イ 租税収入と国債残高の推移
- ウ 所得別の消費税負担額とその割合

問3 日本の財政が健全な状態であるためには、なぜ公債の発行を慎重に行わなければならないのか、その理由として考えられることを、資料Ⅰ、Ⅱを関連づけて書きなさい。2015 宮崎



(資料Ⅰ、Ⅱ「日本の100年」より作成)

問4 インフレーションとは物価が **①** し続ける現象のことである。物価とはいろいろな商品の価格を平均したものであるため、インフレーションになるとお金の価値は **②** する。2013 鹿児島

① , **②** にあてはまることばの組み合わせとして、最も適当なものはどれか。

- ア (① 上昇 ② 上昇) イ (① 上昇 ② 下落)
- ウ (① 下落 ② 上昇) エ (① 下落 ② 下落)

公民全国答練 財政と金融

80点以上が合格！41～79点は再テスト！40点以下は宿題プレゼント！

第23回解答

問1 ア

Aの時期は景気がよくなり、生産や消費が増加しているので、ものが売れて労働者の賃金も上がっていく。

問2 A:ウ B:イ C:ア

- ア 消費税の増税前後での景気の変化を調べることができる。
- イ 租税収入や国債残高から財政状況を知ることができる。
- ウ 所得の違いによる消費税の負担の違いを調べることができる。

問3 (例) 歳入にしめる公債(国債)の発行額が増えると、国債残高が増え、国民一人あたりの負担が重くなるから。

資料Ⅰから歳入に占める公債の割合が増えていること、資料Ⅱから国債残高が増え続けていることがわかる。国債は国の借金なので、元金の返済や利子の支払いが必要であり、国民一人あたりの負担は大きくなっている。

問4 (1)イ (2)ア


- (1) 物価が上昇し続けることをインフレーション、物価が下落し続けることをデフレーションという。インフレーションでは、お金の価値が下がる。
- (2) 商品に売れ残りが出たということは、供給量が需要量を上回っていることになるので、アが当てはまる。イでは需要量と供給量が一致しているので、商品は余らない。ウでは需要量が供給量を上回っているため商品が不足する。

公民全国答録 財政と金融

80点以上が合格！41～79点は再テスト！40点以下は宿題プレゼント！

第24回

点 25点



問1 2014 鹿児島

- (1) 図2の にあてはまる最も適当なことばを書け。
- (2) 歳入における公債金のはたらきは何か。図2, 図3を参考にして, 税収ということばを使って書け。

図2 一般会計予算の歳出の内訳 (兆円)

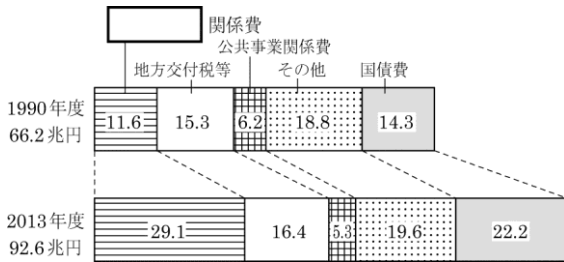
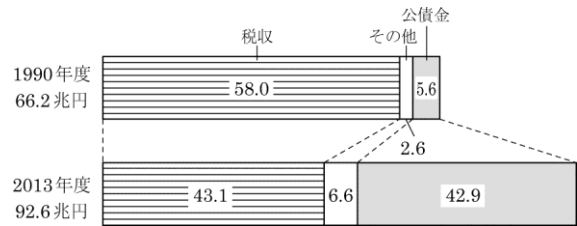


図3 一般会計予算の歳入の内訳 (兆円)



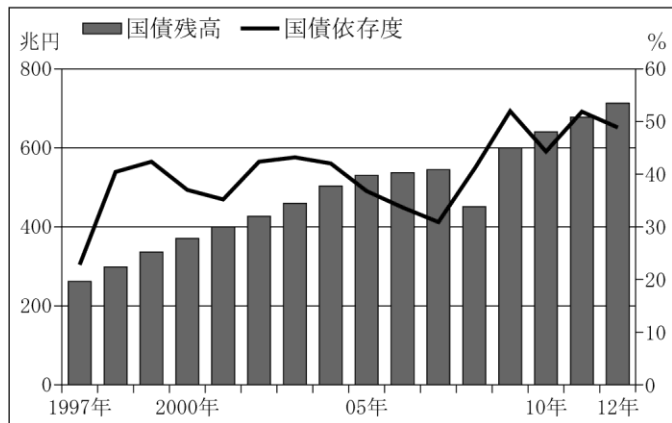
(図2, 図3は財務省資料から作成)

問2 政府が経済的な活動をおこなう目的は3つある。1つ目は日本銀行と協力し経済を安定させること, 2つ目は公共サービスを提供することである。これら以外の残りの1つは何か, もっとも適切なものを次のア～エより1つ選び, 記号で答えよ。2013 沖縄

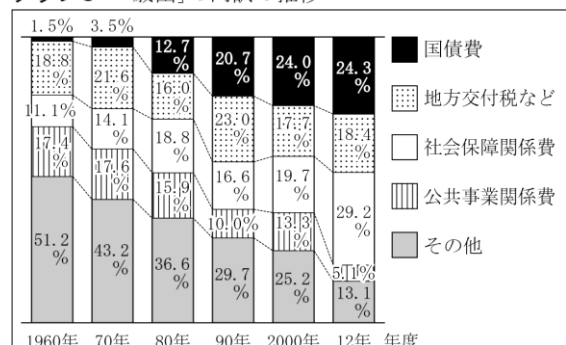
- ア 道路や学校, 図書館などの社会資本をつくること。
- イ 生産活動をになう企業を支えるために, 景気の安定をはかること。
- ウ 警察署や消防署を設置し, 安心してくらすことができる社会をつくること。
- エ 所得に応じて税率を変えるなど, 所得の差を少しでも縮めること。

問3 日本銀行の通貨量の調整に関連して, この調整はおもに国債を売買することでおこなわれている。次のグラフ2とグラフ3の日本の財政の推移を参考に, 政府が国債を発行する場合に気をつけなければならないことは何か, 「歳出に占める国債費の割合が」の書き出しに続けて, 「慎重」という言葉をつかって説明せよ。2013 沖縄

グラフ2 国債残高と「歳入」における依存度の推移



グラフ3 「歳出」の内訳の推移



割合の合計は四捨五入の関係で100%にならない場合がある(グラフ2・3は財務省ホームページより作成)

歳出に占める国債費の割合が,

公民全国答録 財政と金融

80点以上が合格！41～79点は再テスト！40点以下は宿題プレゼント！

第24回解答

問1

(1) 社会保障

2013年度では最も割合が高く、1990年度の2倍以上になっていることから、社会保障関係費である。

(2) 税収の不足を補うこと。

図2から、2013年度は1990年度より歳出額が増えていること、図3から、税収の割合が減り公債金の割合が大きく増えていることがわかる。

問2 エ

政府による経済的な活動の役割は、経済を安定化させること、公共サービスを提供すること、所得の格差を縮めること（所得の再分配）である。所得に応じて税率を変える累進課税の制度などにより、所得の格差を小さくする。

問3 (歳出に占める国債費の割合が) 増加しているため、国債の発行は慎重におこなわれなければならない。

グラフ2から、国債残高は増加し、国債依存度も高くなっていること、グラフ3から、歳出に占める国債費の割合が年々高くなり、2012年度は歳出の4分の1近くを占めていることがわかる。

公民全国答練 財政と金融

80点以上が合格！41～79点は再テスト！40点以下は宿題プレゼント！

第25回

各25点（問2と問4は完答）

| |
|--|
| |
|--|

問1 3班が調べた不況の時の景気変動の特徴とその政策について正しくまとめているものを、次のア～エより1つ選び、記号で答えよ。2014 沖縄

点

| | 特徴 | 財政政策 | 金融政策 |
|---|----------------------------|---------------------------|--------------------------|
| ア | 生産や雇用が最も多い状況であり、倒産や失業はわずかで | 公共事業やサービス等の公共投資を減らし、増税する。 | 通貨量を減らすために、一般の銀行へ国債を売る。 |
| イ | 生産や雇用が最も多い状況であり、倒産や失業はわずかで | 公共事業やサービス等の公共投資を増やし、減税する。 | 通貨量を増やすために、一般の銀行から国債を買う。 |
| ウ | 生産や雇用が最も少ない状況であり、倒産や失業は増加す | 公共事業やサービス等の公共投資を減らし、増税する。 | 通貨量を減らすために、一般の銀行へ国債を売る。 |
| エ | 生産や雇用が最も少ない状況であり、倒産や失業は増加す | 公共事業やサービス等の公共投資を増やし、減税する。 | 通貨量を増やすために、一般の銀行から国債を買う。 |

問2 次のそれぞれの文が、消費税のしくみの利点と問題点を説明する文になるように、 X Y に当てはまる最も適切なことばを、下のア～カからそれぞれ一つずつ選び、記号で答えなさい。2014 熊本

| |
|---|
| 消費税のしくみの利点は、すべての人が一律に税を負担するので、 <input type="checkbox"/> X ところです。 |
| 消費税のしくみの問題点は、すべての人が一律に税を負担するので、 <input type="checkbox"/> Y ところです。 |

- ア 累進課税のしくみが適用される
- イ 購買意欲が高まることで、景気回復につながる
- ウ 幅広く確実な税収が得られる
- エ 税収のうち直接税の占める割合が高くなる
- オ 国の債務が増え財政が悪化する
- カ 低所得者の所得に占める税負担の割合が高くなる

問3 わが国の通貨とアメリカ合衆国の通貨との為替レートは、2012年11月から2013年5月にかけて21表のように変化した。このような為替レートの変化が、一般にわが国の貿易に与える影響として正しいものを、次のア～エから一つ選び、記号で答えなさい。2014 熊本

- ア 輸出、輸入ともに有利になる。
- イ 輸出は有利になるが、輸入は不利になる。
- ウ 輸出は不利になるが、輸入は有利になる。
- エ 輸出、輸入ともに不利になる。

21表

| 2012年11月 | 2013年5月 |
|----------|----------|
| 1ドル=81円 | 1ドル=101円 |

為替レートは、それぞれ1か月の平均値を示す。

問4 企業の株価について、現在、多くの企業が株式会社の形態をとっている。株式会社において、株主は、会社が得た利潤の一部を a として受け取ることができる。また、一般的に事業内容や業績がよく、高い a が期待できる会社の株価は b (ア 上昇 イ 下落) する。 a に当てはまる語を書きなさい。また、bの () の中から適当なものを一つ選び、記号で答えなさい。ただし、 a には同じ語が当てはまる。2014 熊本

公民全国答練 財政と金融

80点以上が合格！41～79点は再テスト！40点以下は宿題プレゼント！

第25回解答

問1 エ

不況の時は、生産や雇用が少なく、倒産や失業が増加する。不況の対策として、政府は公共事業を増やして減税を行い、日本銀行は一般の銀行から国債を買って、市場に出回る通貨量を増やそうとする。

問2 X：ウ Y：カ

消費税による税収は、景気にかかわらず比較的安定する。しかし、所得に関係なく税率が一定なので、低所得者ほど所得に占める税負担の割合が高くなるという短所がある。

問3 イ

1ドル=81円から1ドル=101円になるのは、ドルに対する円の価値が下がる円安。円安のときは外国へ輸出した商品の現地での価格が下がるので輸出に有利、逆に輸入には不利となる。

問4 a 配当〔配当金〕 b ア

事業内容や業績がよいときは、株価は上昇する。逆に業績が悪化したり事業内容が悪くなったりしたときは、株価は下落する。