

公民全国答録 経済・社会保障

80点以上が合格！41～79点は再テスト！40点以下は宿題プレゼント！

第1回

問1 各10点 問2 各20点 問3 30点

点

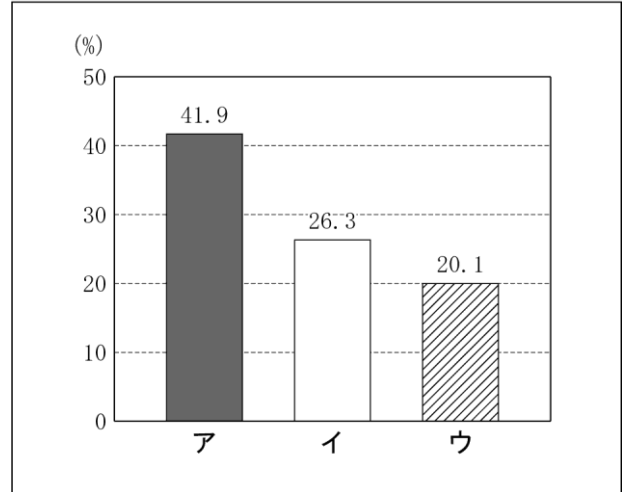
問1 グラフのア～ウは、それぞれ日本、アメリカ、スウェーデンのいずれかの国の2005年における社会保障費の国民所得に対する比率を示したものです。日本、アメリカ、スウェーデンそれぞれに当てはまるものを、ア～ウから選びなさい。2013 北海道

日本：

アメリカ：

スウェーデン：

グラフ



(国立社会保障・人口問題研究所「社会保障給付費(平成19年度)」より作成)

問2 下の文は、日本国憲法第25条の条文である。これを読んで、次のア、イに答えなさい。2013 青森

1項 すべて国民は、健康で文化的な最低限度の生活を営む権利を有する。

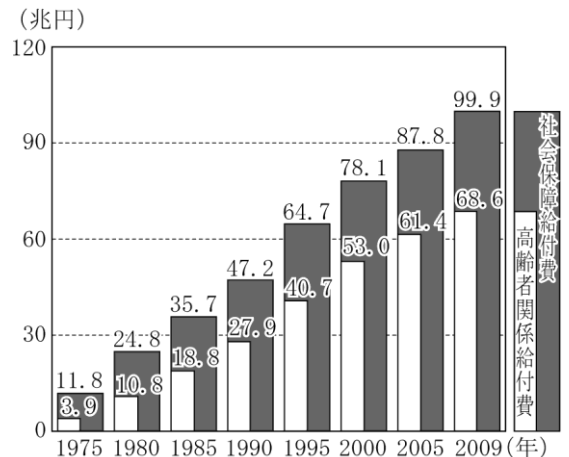
2項 国は、すべての生活部面について、社会福祉、社会保障及び公衆衛生の向上及び増進に努めなければならない。

ア 日本国憲法第25条1項は、社会権のうち、何という権利について述べたものか、書きなさい。

イ _____は、日本の社会保障制度の基本的な柱を表している。このうち、社会保障は、二つのことを表している。社会保険ともう一つは何か、書きなさい。

資料C 社会保障給付費とそのうちに占める高齢者関係給付費の推移

問3 知世さんは、社会保障関係費の割合が増えていることに気がつき、資料Cを作成しました。これを参考にして、社会保障関係費の増加につながる日本社会の特徴を書きなさい。2013 宮城



(国立社会保障・人口問題研究所資料より作成)

公民全国答録 経済・社会保障

80点以上が合格！41～79点は再テスト！40点以下は宿題プレゼント！

第1回解答

問1 スウェーデン：ア アメリカ：ウ 日本：イ

国民所得に対する比率が最も高いアが、社会保障制度が充実しているスウェーデン。最も低いウが低福祉のアメリカ，残るイが日本である。

問2 ア：生存権 イ：公的扶助

ア 健康で文化的な最低限度の生活を営む権利を，生存権という。

イ 日本の社会保障制度の基本的な柱は，公的扶助，社会保険，社会福祉，公衆衛生の4つである。

問3 (例) 高齢化が進んでいること

資料Cより，高齢者関係給付費が年々増加していることが読み取れる。高齢化が進んだことで高齢者関係給付費が増加していると，考えられる。

公民全国答録 経済・社会保障

80点以上が合格！41～79点は再テスト！40点以下は宿題プレゼント！

第2回

各20点

点

問1 下線部①について、右の資料は、厚生労働省が作成したポスターです。このポスターは、わが国の社会保障制度の四つの柱のうちのどれに基づいて作成されたものですか。次のア～エのうちから一つ選び、その記号を書きなさい。2014 岩手

- ア 社会保険 イ 公衆衛生
ウ 社会福祉 エ 公的扶助



問2 社会保障に関連した問である。2014 秋田

① 表2の日本の社会保障の内容にあてはまるものを、二つ選んで記号を書きなさい。

- ア 公的扶助 イ 公衆衛生
ウ 科学技術振興 エ 平和維持活動

表2 社会保障の比較 (%)

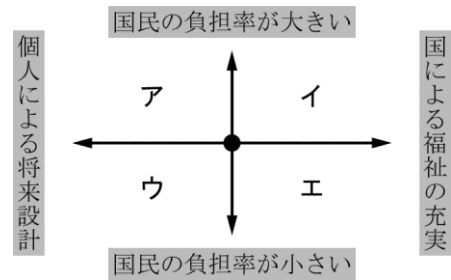
	国民負担率	社会保障支出の*比率
日本	38.3	31.8
a国	30.3	24.1
b国	53.2	38.1
c国	62.5	43.0

*国の歳出に占める割合。(厚生労働省資料から作成)

② 図2のア～エの区分は、社会保障の特色を表し、「●」は表2のb国を示している。日本の区分を、一つ選んで記号を書きなさい。

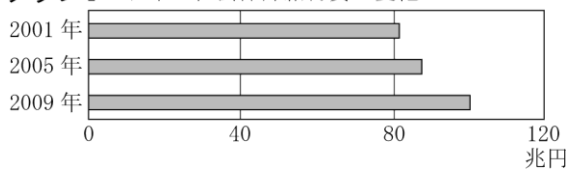
③ b国の社会保障の特色が、イに区分されるための新たな政策のうち、歳入面からの政策を具体的に書きなさい。

図2 b国を基準とした社会保障の比較

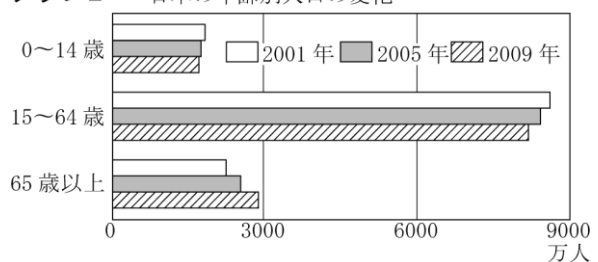


問3 次のグラフIは、日本の社会保障給付費の変化をあらわしている。また、グラフIIは、日本の年齢別人口の変化をあらわしている。この二つのグラフを読み取り、今日の日本における社会保障の問題を、「おもに費用を負担する」ということばを用いて、「社会保障給付費が」の書き出しに続けて書きなさい。2013 福島

グラフI 日本の社会保障給付費の変化



グラフII 日本の年齢別人口の変化



(日本国勢図会 2012/13年版などにより作成)

社会保障給付費が、

公民全国答録 経済・社会保障

80点以上が合格！41～79点は再テスト！40点以下は宿題プレゼント！

第2回解答

問1 イ

インフルエンザの予防を呼びかけていることから、公衆衛生である。社会保険は年金保険や健康保険など、社会福祉は障がい者福祉や老人福祉など、公的扶助は生活保護がある。

問2 ①ア イ

社会保障は、公的扶助、社会福祉、社会保険、公衆衛生の四つに分類される。

②ウ

日本はb国より国民負担率が低いことから、ウかエとなる。また、日本はb国より歳出に占める社会保障支出の比率が低いので、国による福祉の充実より個人による将来設計の方が大きいことになり、ウがあてはまる。

③（例）税金や社会保険料を高くする。

イに区分されるためには、歳出面では国による福祉の充実、歳入面では国民の負担率を大きくする。歳入面からの政策ということなので、社会保険料を高くするなど、国民の負担率を上昇させる政策を考える。

問3 社会保障給付費が増えている一方で、おもに費用を負担する15～64歳の人の数が減っている。

グラフⅠからは、社会保障給付費の金額が増えていることがわかる。グラフⅡからは、「おもに費用を負担」し、労働力の中心となる15～64歳の人口が減っていることがわかる。

公民全国答録 経済・社会保障

80点以上が合格！41～79点は再テスト！40点以下は宿題プレゼント！

第3回

問1・2 各30点 問3 40点

全て2015秋田より

点

問1 下線部cについて、右の表は、日本の社会保障制度の四つの柱をまとめたものである。表の X にあてはまる語句を書きなさい。2013 福島

表 日本の社会保障制度の四つの柱

種類	内容
社会保険	医療保険, 年金保険など
<input type="checkbox"/> X <input type="checkbox"/>	感染症予防, 上下水道整備など
社会福祉	児童福祉, 高齢者福祉など
公的扶助	生活扶助, 住宅扶助など

問2 Bの下線部に関して、 図のぬりつぶされた国々は、スウェーデンが1995年に加盟した、ある組織の加盟国である。1993年に発足した、この組織を何と書きなさい。また、次の a の文中の b に当てはまる語の組み合わせを、下のア～エの中から一つ選んで、その記号を書きなさい。2014 茨城

図 加盟国 (2012年現在)



スウェーデンでは、社会保障の給付が a , 保険料や税金の負担は b 。

ア [a 少なく b 軽い (小さい)]

イ [a 少なく b 重い (大きい)]

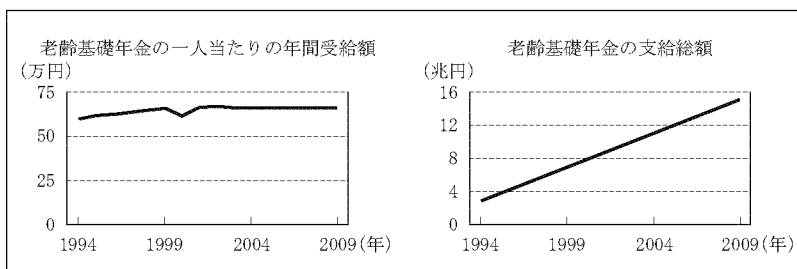
ウ [a 多く b 軽い (小さい)]

エ [a 多く b 重い (大きい)]

組織：

問3 年金に関して、 図を見ると、高齢基礎年金の一人当たりの年間受給額は大きく変化していないにもかかわらず、支給総額は増加している。それはなぜか。近年の人口構成の変化を含め、「受給者」の語を用いて簡潔に書きなさい。2013 栃木

図



(「国立社会保障・人口問題研究所ホームページ」により作成)

公民全国答録 経済・社会保障

80点以上が合格！41～79点は再テスト！40点以下は宿題プレゼント！

第3回解答

問1 公衆衛生

国民すべてに対し健康で文化的な生活を保障する社会保障制度は、4つの柱から成り立っている。このうち、感染症の予防や上下水道整備といった、地域社会の人々の健康の保持・増進などに関わる活動を公衆衛生という。

問2 組織：EU 記号：エ

1993年に発足したヨーロッパの国々が加盟する組織は、EU（ヨーロッパ連合）。スウェーデンは社会保障制度が充実しているが、その分税金や保険料の負担が重いため、高福祉高負担といわれる。

問3 (例) 高齢化が進行し、受給者である高齢者が増えているから。

日本は急速に高齢化が進み、高齢者人口が年々増え続けている。一人当たりの受給額はほとんど変化していないが、受給者の総数が増えているため、総額が増加している。

公民全国答録 経済・社会保障

80点以上が合格！41～79点は再テスト！40点以下は宿題プレゼント！

第4回

各25点

点

問1 高齢者や障害者に関して、次の文は社会保険制度の一つを説明したものである。この制度は何。2015 栃木

2000年に始まった社会保険制度で、40歳以上の全国民が加入する。必要が生じた場合には、身体の状態の程度に応じて、保健医療サービスや福祉サービスを低負担で受けられる。

問2 社会保障に関連して、次の文章と表は、日本の社会保障制度と、社会保障制度の四つの基本的な柱についてまとめたものです。文章と表の と にあてはまる語をそれぞれ書きなさい。2015 埼玉

日本の社会保障制度は、憲法の条文の規定にもとづいて整備されてきた。日本国憲法第25条1項では、「すべて国民は、健康で文化的な最低限度の生活を営む権利を有する」と、生存権を定め、2項では「国は、すべての生活部面について、、社会保障及び の向上及び増進に努めなければならない」とうたっている。

表

種類	仕事の内容
社会保険	医療保険 介護保険 年金保険 雇用保険など
公的扶助	生活保護（生活扶助、住宅扶助、教育扶助、医療扶助など）
<input type="text" value="I"/>	老人福祉 障がい者福祉 児童福祉など
<input type="text" value="II"/>	感染症対策 上下水道整備 廃棄物処理 公害対策など

問3 社会保障に関して、日本の社会保障制度を説明したものとして誤っているものを、次の1～4の中から一つ選び、その番号を書きなさい。2015 神奈川

- 1 社会保障制度は、社会全体で相互に助け合うという考え方を基本につくられている。
- 2 社会保障制度は、社会保険、公的扶助、社会福祉、公衆衛生の四つの部門から成り立っている。
- 3 高齢化が進むなか、国の歳出における社会保障制度関係の費用は増加傾向にある。
- 4 社会保障制度は、憲法に規定されていない新しい人権を保障するために国が整備してきた。

問4 社会保険に関して、その説明としてもっとも適切なものを、次の①～④のうちから1つ選びなさい。2013 東京学芸大附属

- ① 介護保険とは、消費税の中から保険料が支払われ、介護を必要とする人たちが介護サービスを受けることができる制度である。
- ② 雇用保険とは、働いている人が全額保険料を支払い、会社を解雇された時に給与の一部に相当する金額を受けとることができる制度である。
- ③ 健康保険とは、民間の保険会社に保険料を支払い、日本全国の病院で受診した際に一部の自己負担で診療を受けることができる制度である。
- ④ ④労災保険とは、雇用者が保険料を支払い、勤務に関係して発症した病気や勤務中のけがの際に支払われる制度である。

公民全国答録 経済・社会保障

80点以上が合格！41～79点は再テスト！40点以下は宿題プレゼント！

第4回解答

問1 介護保険 制度

2000年に導入された、介護を社会全体で支えていくための制度を、介護保険制度という。

問2 I 社会福祉 II 公衆衛生

日本の社会保障制度は、社会保険、公的扶助、社会福祉、公衆衛生の4つからなっている。

問3 4

社会保障制度は、憲法第25条で「健康で文化的な最低限度の生活を営む権利」と生存権が保障されていることにもとづいて、整備された。

問4 ④

- ① 介護保険の保険料は加入者が負担している。国、地方公共団体の税金も財源となっている。
- ② 雇用保険の保険料は、事業主と労働者が負担する。
- ③ 民間の保険会社に保険料を支払うのは、民間の生命保険や医療保険などに加入した場合である。

公民全国答録 経済・社会保障

80点以上が合格！41～79点は再テスト！40点以下は宿題プレゼント！

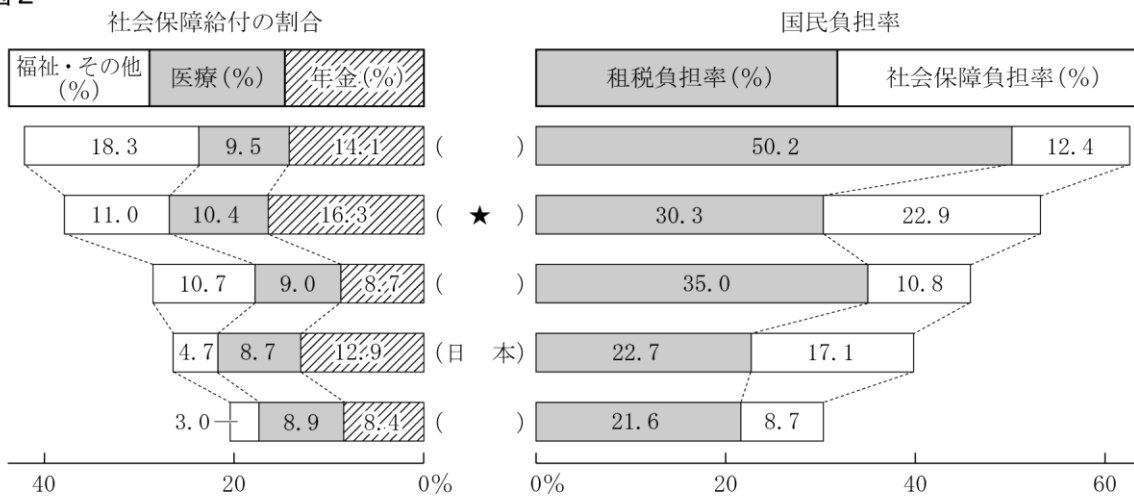
第5回

問1 20点 問2 各40点

点

問1 次の図2はアメリカ、イギリス、スウェーデン、ドイツ、日本の社会保障給付の割合と国民負担率を示したものである。図2に関する下の説明を参考にして、図2中の★に当てはまる国を後のアからエまでの中から一つ選び、その記号を書け。2013 国立高専

図2



※社会保障給付の割合は、社会保障給付額が、国民所得に占める割合を部門別に示したもの。
 ※国民負担率は、国民の租税や社会保障費(年金などの保険料)の負担が、国民所得に占める割合を示したもの。
 (厚生労働省の資料および『日本国勢協会 2012/13』より作成)

- ヨーロッパの3か国は、社会保障給付の割合および国民負担率ともにアメリカや日本よりも高いので、高福祉・高負担の国と考えられる。
- 社会保障給付の割合の部門別内訳を国ごとに見ると、スウェーデンは「福祉・その他」が「医療」の2倍近くを占めている。
- 国民負担率の内訳を国別に比較すると、ドイツや日本に比べ、アメリカ・イギリス・スウェーデンは国民負担率に占める「社会保障負担率」が比較的低い。

ア アメリカ イ イギリス ウ スウェーデン エ ドイツ

問2 (5)(6)に入る言葉を書きなさい。2015 東京学芸大学附属 改題

社会権の1つである「生存権」に関しては、第25条で「すべて国民は健康で文化的な最低限度の生活を営む権利を有する」としている。湯浅誠氏はその著『反貧困～「すべり台社会」からの脱出～』(岩波新書)で、日本における三層のセーフティーネットのほころびを指摘している。それは、非正規雇用者の増加による雇用(労働)のセーフティーネットのほころび、断続的な非正規雇用による厚生年金・雇用保険・健康保険などの各種の(5)の未加入・未納によるセーフティーネットのほころび、生活保護受給申請者がなかなか受給できない(6)のセーフティーネットのほころびの3つである。

公民全国答録 経済・社会保障

80点以上が合格！41～79点は再テスト！40点以下は宿題プレゼント！

第5回解答

問1 エ

社会保障給付の割合・国民負担率がともに高いグラフの上から3つのグラフに、ヨーロッパの3か国であるスウェーデン、ドイツ、イギリスのいずれかが当てはまる。国民負担率に占める「社会保障負担率」が比較的高いのは、日本と★のグラフなので、★はドイツと判断する。なお、上から、スウェーデン、ドイツ、イギリス、日本、アメリカとなる。

問2 (5) 社会保険 (6) 公的扶助

(5) 厚生年金・雇用保険・健康保険は、社会保障制度の中の社会保険にふくまれる。

(6) 生活保護は社会保障制度の中の公的扶助にふくまれる。

公民全国答録 経済・社会保障

80点以上が合格！41～79点は再テスト！40点以下は宿題プレゼント！

第6回

問1 20点(完答) 問2 30点

問3 各15点 問4 20点

点

問1 社会保障について、次の文は、わが国の社会保障給付費について述べたものである。資料2を参考に、には適切な語を、には最も適切な整数を、それぞれ書きなさい。2014 富山

社会保障給付費は、急激に増加している。2010年度でみると、給付費の部門別1位はであり、その額は、1980年度から2010年度までの30年間で約倍に増加していることがわかる。

資料2 社会保障給付費の部門別推移

(会計年度)(単位 億円)

部門 \ 年度	1980	1990	2000	2010
医療	107,329	183,795	259,975	323,312
年金	104,525	240,420	412,012	524,184
福祉・その他	35,882	47,989	109,404	187,384

問2 社会保険について、社会保険制度の説明として適切でないものを、次のア～エから1つ選び、記号を書きなさい。2015 富山

- ア 社会保険には、医療保険や年金保険、介護保険などがある。
- イ 社会保険は、希望する人だけが加入して、保険料を支払う。
- ウ 少子高齢化により、社会保険の保険料を支払う人が減少する一方、給付を受ける人が増加している。
- エ 国や地方公共団体が、社会保険の給付のための費用の一部を負担している。

問3 社会保障制度の充実について、次のア～エのうち、日本の社会保障制度の4つの柱の1つである「社会福祉」の説明として正しいものを1つ選び、その符号を書きなさい。2013 石川

- ア 国民の健康を守る医療と生活環境の整備・保全を行う。
- イ 加入者に疾病、障害などが生じたとき、給付金などを支給する。
- ウ 生活に困っている家庭に、経済的な援助を行う。
- エ 児童・障害者・高齢者などに対して、施設・サービスを提供する。

問4 出生率が低下し、平均寿命がのびていることについて、次の(1)、(2)に答えなさい。2014 石川

(1) このことによって、子どもの数が減り、高齢者の数が増えていくことを何というか、書きなさい。

(2) このことが社会に与える影響の1つを、「国の歳出のうち、医療や年金への支出が増加しているが、徴収される保険料や税収が減少し、それをまかなうことができなくなっていくこと」とまとめて発表するとき、次のア～エのうち、提示する資料として適切なものを2つ選び、その符号を書きなさい。

- ア 社会保障関係費の推移
- イ 年間労働時間の国際比較
- ウ 労働人口(労働力人口)の推移
- エ 子ども1人あたりの教育費の推移

公民全国答録 経済・社会保障

80点以上が合格！41～79点は再テスト！40点以下は宿題プレゼント！

第6回解答

問1 X：年金 Y：5

2010年度の給付費が最も多いのは年金で、 $524184 \div 104525 = 5.0\dots$ より、2010年度の額は1980年度の額のおよそ5倍である。

問2 イ

社会保険は、希望する人だけが加入するのではなく、一定の条件を満たした個人や企業は加入しなければならない。たとえば、国民年金は20歳以上60歳未満で日本に住む人は加入する義務がある。

問3 エ

日本の社会保障制度の4つの柱は、社会保険、社会福祉、公的扶助、公衆衛生である。社会福祉は、高齢者や障がい者など自立が困難な人々の生活を保障するため、制度を整え施設・サービスを提供することである。アは公衆衛生、イは社会保険、ウは公的扶助。

問4

(1) 少子高齢化

子どもの数が減っていくことを少子化、高齢者の数が増えていくことを高齢化という。

(2) ア ウ

医療や年金への支出が増加していくことは、社会保障関係費が増えていることを示す資料、保険料や税収が減少することは、これらを負担する世代である労働人口（労働力人口）が減っていくことを示す資料を利用する。

公民全国答録 経済・社会保障

80点以上が合格！41～79点は再テスト！40点以下は宿題プレゼント！

第7回

問1 40点 問2 20点 問3 40点

点

- 問1 Cさんの調べた社会保障制度について正しいものを次のア～エより1つ選び、記号で答えよ。2015 沖縄
- ア わが国の社会保障制度は、社会保険、公的扶助、社会福祉、公的年金の4つを基本的な柱としている。
 - イ 社会福祉には、感染症対策、上下水道整備、公害対策などが含まれる。
 - ウ 社会保障は、日本国憲法第25条の生存権の目的を、国の責任として実現しようとする制度である。
 - エ 政府は、平成28年度から、高齢社会の対応策として介護を必要とする人々が、介護サービスを受けられる「介護保険制度」を導入する。

問2

- ① グラフ3のように社会保障関係費は年々増加している。少子高齢化が続く中、現在の年金給付費や福祉サービスの水準を維持しようとするれば、どのような問題がおこるか、図10を参考に説明せよ。2014 沖縄

グラフ3 社会保障関係費の推移

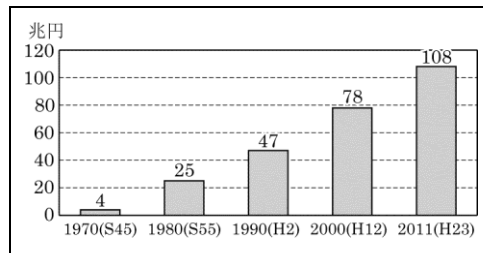
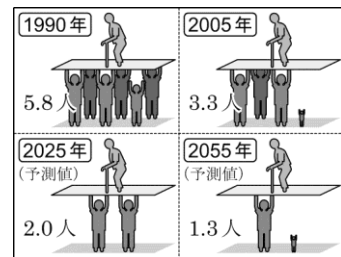


図10 高齢者1人に対する生産年齢人口



- 問3 社会保障について説明した次の文の X Y にあてはまることばの組み合わせはどれか。

社会保障制度には、医療や年金などに関する給付を行う X Y ，廃棄物の処理や伝染病の感染を防ぐ Y X などがある。2015 鹿児島

- ア (X 社会保険 Y 公的扶助) イ (X 社会保険 Y 公衆衛生)
- ウ (X 社会福祉 Y 公的扶助) エ (X 社会福祉 Y 公衆衛生)

公民全国答録 経済・社会保障

80点以上が合格！41～79点は再テスト！40点以下は宿題プレゼント！

第7回解答

問1 ウ

- ア 公的年金ではなく公衆衛生。公的年金は社会保険にふくまれる。
- イ 感染症対策などは公衆衛生にふくまれる。
- エ 介護保険制度は平成12年4月から施行された。

問2 生産年齢人口が減るので、税や保険料の負担が重くなる

高齢者が増え社会保障関係費は増加するが、保険料や税をおもに負担する生産年齢人口は減るため、若い世代の負担はどんどん重くなっていく。

問3 イ

医療保険や年金保険、介護保険などを社会保険という。廃棄物の処理、伝染病感染の予防などは公衆衛生である。公的扶助は生活保護、社会福祉は高齢者や障がい者などの支援。

公民全国答録 経済・社会保障

80点以上が合格！41～79点は再テスト！40点以下は宿題プレゼント！

第8回

問1 各30点 問2 40点

点

問1 少子高齢化に関連して、表4は日本の人口推移と将来推計を示したものである。次の文を読み、問いに答えよ。2013 沖縄

日本は少子高齢化のまっただ中にあり、国民が加入する年金や介護などの（A）をはじめ、社会保障のあり方が大きな課題となっている。たとえば、表4の総人口に占める65歳以上の割合と15～64歳の割合を比べると、1980年には65歳以上の高齢者1人を、主な働き手である15～64歳の約7.4人で支えていたが、2025年には約（B）人で支えることが予測される。そのため、社会保障が効率的に運営される制度を考えていく必要がある。

表4 日本の人口推移と将来推計

年	総人口 (千人)	総人口に占める割合(%)		
		0～14歳	15～64歳	65歳以上
1980	117,060	23.5	67.4	9.1
1985	121,049	21.5	68.2	10.3
1990	123,611	18.2	69.7	12.1
1995	125,570	16.0	69.5	14.6
2000	126,926	14.6	68.1	17.4
2005	127,768	13.8	66.1	20.2
2010	128,057	13.2	63.8	23.0
2015	126,597	12.5	60.7	26.8
2020	124,100	11.7	59.2	29.1
2025	120,659	11.0	58.7	30.3

割合の合計は四捨五入の関係で100%にならない場合がある。

(国立社会保障・人口問題研究所ホームページなどより作成)

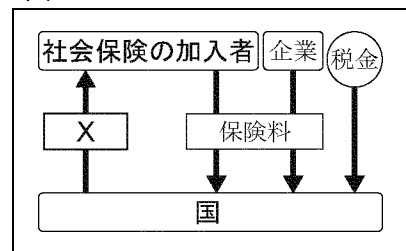
- ① (A)にあてはまる語句を、次のア～エより1つ選び、記号で答えよ。
 ア 社会保険 イ 公的扶助 ウ 社会福祉 エ 公衆衛生
- ② (B)にあてはまる数字を、次のア～エより1つ選び、記号で答えよ。
 ア 0.8 イ 1.9 ウ 3.9 エ 5.8

問2 社会権に関連して、図1は日本の社会保障のある制度について表したものである。Xに当てはまる内容を、ア～エから1つ選び、記号を書きなさい。2014 大分

- ア 障がいのある人や高齢者などに生活の保障や支援サービスをする。
 イ 健康で最低限度の生活を送れない人々に生活費などを給付する。

- ウ 病気の予防や地域社会の衛生状況を改善し、生活の基礎を整える。
 エ 病気やけが、失業、高齢などになったときにお金を給付する。

図1



公民全国答録 経済・社会保障

80点以上が合格！41～79点は再テスト！40点以下は宿題プレゼント！

第8回解答

問1 ①ア

年金保険や介護保険など、保険料を積み立てておき、必要になったときに給付を受ける制度は、社会保険である。

②イ

2025年の65歳以上の高齢者1人に対する15～64歳の割合は、 $58.7 \div 30.3 = 1.9\dots$ より、約1.9人。

問2 エ

図1は、社会保険の加入者と企業が保険料を払い、病気や失業など必要なときに給付を受ける社会保険のしくみを表している。アは社会福祉、イは公的扶助、ウは公衆衛生。

公民全国答録 経済・社会保障

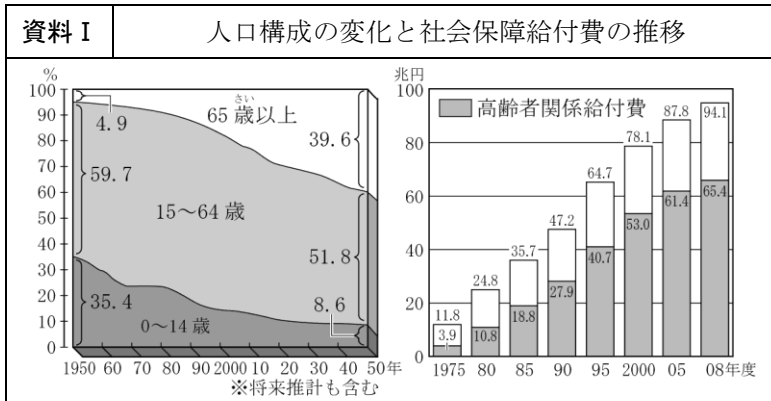
80点以上が合格！41～79点は再テスト！40点以下は宿題プレゼント！

第9回

各20点

点

問1 修君のグループは、「未来の私たちと日本」というテーマについて、関連する資料を作成し、調べたことをまとめました。問いに答えなさい。2013 宮崎



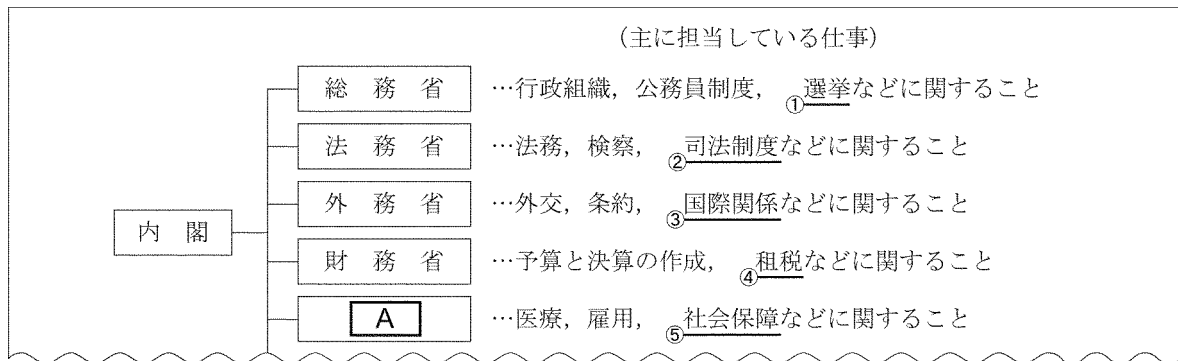
〔国立社会保障・人口問題研究所資料〕より作成

修君のまとめ①
15～64歳の労働力人口の割合が ア ，高齢者関係の社会保障給付費は イ ので、一人当たりの経済的な負担が重くなる。私たちの将来についてしっかり調べ、考えていきたい。

修君のまとめ①の **ア**，**イ** に入る適切な内容を書きなさい。

ア : **イ** :

問2 社会保障について、社会保障などを担当する17表の **A** にあてはまる省の名称を書きなさい。



A :

また、わが国の社会保障制度については、日本国憲法の第25条に「国は、すべての生活部面について、**a**，社会保障及び **b** の向上及び増進に努めなければならない。」と規定されている。

a は、高齢者や児童など自立が困難な人たちの生活の保障や支援サービスを行うこと、**b** は、感染症の予防などを行うことである。

a，**b** に当てはまる語を、それぞれ書きなさい。2014 熊本

a : **b** :

公民全国答録 経済・社会保障

80点以上が合格！41～79点は再テスト！40点以下は宿題プレゼント！

第9回解答

問1

ア：減少し イ：増加する

15～64歳の労働力人口の割合は減少し、高齢者の割合は増加している。そのため社会保障給付費に占める高齢者関係給付費の割合は、年々高くなっている。

問2 A：厚生労働省 a：社会福祉 b：公衆衛生

公民全国答録 経済・社会保障

80点以上が合格！41～79点は再テスト！40点以下は宿題プレゼント！

第10回

各20点

点

問1

表は、2007年の日本、アメリカ合衆国、スウェーデンにおける国民所得に占める国民負担と社会保障支出の割合(%)をそれぞれ示したものである。スウェーデンに当たるものを、20表のA、Bから一つ選び、記号で答えなさい。また、そう判断した理由を書きなさい。2013 熊本

20表

項目 国	国民負担 の割合(%)	社会保障支出 の割合(%)
日本	39.5	26.1
A	64.8	36.9
B	34.9	20.1

(「厚生労働省資料」による)

(注) 国民負担とは租税負担と社会保障負担を合わせたものである。

問2 わが国では、憲法の規定にもとづいて、国民に健康で文化的な最低限度の生活を保障する社会保障制度が整備され、その制度には四種類の基本的な柱がある。このうち感染症の予防や上下水道の整備、廃棄物の処理などをおこなうものは次のどれか。2015 長崎

ア 公衆衛生

イ 公的扶助

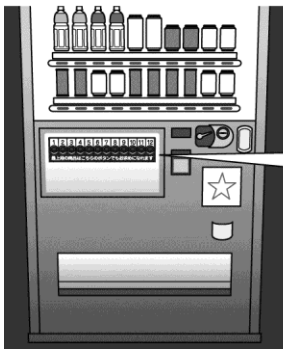
ウ 社会福祉

エ 社会保険

問3 わが国では、急速に進む高齢化に対応するために、2000年から新たな社会保険制度がはじまった。40歳以上の人が加入するこの社会保険制度を何というか。2014 長崎

問4 自動販売機にも以前は見られなかった価格以外の工夫がされていることについて、資料1は自動販売機の写真である。☆に入る最も適当なマークを拡大図を参考に下のア～エの中から一つ選び、記号を書きなさい。

資料1



拡大図

2015 佐賀



ア



イ



ウ



エ



公民全国答録 経済・社会保障

80点以上が合格！41～79点は再テスト！40点以下は宿題プレゼント！

第10回解答

問1 A 理由：スウェーデンは、社会保障支出の割合も国民負担の割合も大きい国であるから。

スウェーデンは、国民所得に占める国民負担の割合が大きく、社会保障支出の割合が高い高負担・高福祉の国である。

問2 ア

感染症の予防、上下水道の整備などは、公衆衛生である。

問3 介護保険 制度

高齢化にともなって必要性が増していく介護を、社会全体で支えていくために、介護保険制度が導入された。

問4 ア

アは障がい者が利用できる施設であることを示すマーク、
イは身体障がい者補助犬の同伴を啓発するためのマーク、
ウは環境への負荷が少ないと認められた商品につけられるエコマーク、
エは原料に規定の割合以上の古紙を利用している製品につけられるグリーンマーク。

公民全国答録 経済・社会保障

80点以上が合格！41～79点は再テスト！40点以下は宿題プレゼント！


第11回

問1 30点 問2 40点 問3 30点

点

問1 B班は、日本の社会保障制度について調べた。資料1は、佐賀県が行っているパーキングパーミット制度の取り組みのようすについて示したものである。このような取り組みは、日本の社会保障制度の4つの柱のうちどれにあたるか、下のア～エの中から一つ選び、記号を書きなさい。2013 佐賀

資料1



- ア 病気、高齢、失業などの事情に応じて、加入者に現金などの給付を行う制度。
- イ 収入が少なく生活に困っている人に対して、健康で文化的な最低限度の生活を保障する制度。
- ウ 働くことが困難で社会的に弱い人々を保護し、自立の手助けをする制度。
- エ 国民の健康増進を図り、感染症などの予防に努める制度。

問2 我が国の社会保障制度には、社会保険、社会福祉、公衆衛生、公的扶助の四つの分野があり、このうちの社会保険の一つとして介護保険がある。この介護保険とはどのような制度か、「介護」と「保険料」の二つの語句を使って、簡潔に書け。2014 高知

問3 右の図は、2020年に開催されることが決まった東京オリンピック・パラリンピックの招致活動で用いられたマークである。パラリンピックは、肢体不自由や視覚障害のある身体障害者などを対象とした競技大会である。

わが国の社会保障制度のうち、障害者をはじめ、高齢者や児童などを支援し、自立を助ける制度として最も適当なものは、次のア～エのうちのどれか。一つ選んで、その記号を書け。2015 香川



- ア 社会保険
- イ 公的扶助
- ウ 社会福祉
- エ 公衆衛生

公民全国答録 経済・社会保障

80点以上が合格！41～79点は再テスト！40点以下は宿題プレゼント！

第11回解答

問1 ウ

資料1では、身障者用の駐車場が整備されていることがわかる。アは社会保険、イは公的扶助、ウは社会福祉、エは公衆衛生。

問2 (例) 40歳以上の人が保険料を支払い、

介護が必要となったときに介護サービスを受けることができる制度。

介護を社会全体で支えるために制定された介護保険は、40歳以上の人が加入し、介護が必要になったときに必要な介護サービスが受けられる制度である。

問3 ウ

アは、加入者が保険料を積み立て、病気や高齢になったときなどに給付を受ける制度、
イは生活に困っている人に生活費などを支給する制度、
エは感染症の予防や環境衛生の改善などである。

公民全国答録 経済・社会保障

80点以上が合格！41～79点は再テスト！40点以下は宿題プレゼント！

第12回

各20点

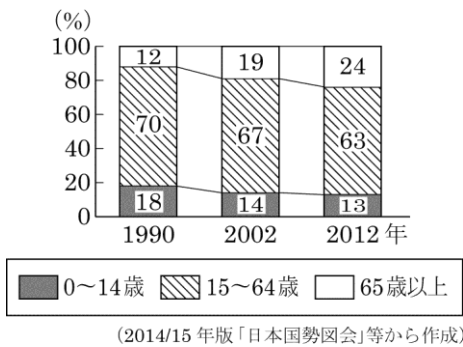
点

直也さんは、「わが国の社会保障と経済」というテーマでレポートを書くために、調べたことから資料や図を作成し、ノートにまとめた。ノートをみて、各問に答えよ。2015 福岡

ノート

〈作成した資料と図〉

資料Ⅰ 年齢階級別人口の割合



資料Ⅱ 働く世代の老後の生活への不安と貯蓄率

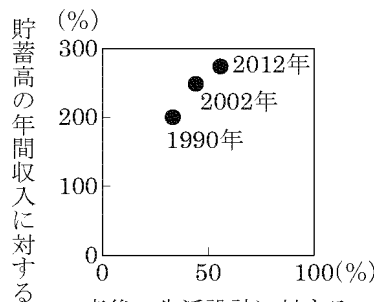
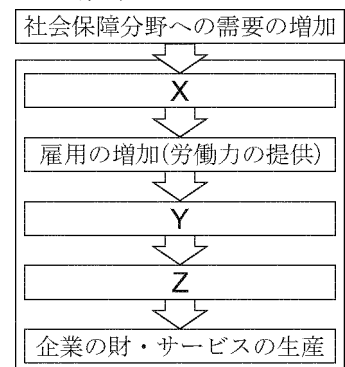


図 社会保障がもつ経済効果



(資料Ⅱ、図は、平成24年版「厚生労働白書」等から作成)

〈考えたこと〉

- 資料Ⅰ、Ⅱから、日本国憲法に社会保障の増進などについて定められた(A)を保障していくことが大切だと思う。
- 資料Ⅰ、Ⅱから、現在の働く世代は、将来の社会状況を予想し、老後の生活に不安を感じて、貯蓄率を増やしているのだと思う。不安を感じる要因の一つは、①老後の保険金(年金)の支給額だと思う。
- 「厚生労働白書」には、図のような②社会保障がもつ経済効果について書かれている。社会保障の拡充を通じて、経済成長が実現できることは望ましいことだと思う。

問1 ノートの(A)にあてはまるものを、次の1～4から一つ選び、番号で答えよ。

- 1 平等権 2 自由権 3 請求権 4 生存権

問2 直也さんが、下線部①のように考えた理由を、資料Ⅰから読み取れることと、「納入額」の語句を使って書け。

問3 下線部②について、X～Zにあてはまる最も適切なものを、次の1～3から一つずつ選び、番号で答えよ。ただし、同じ番号は二度使わないこと。

- 1 企業からの賃金の受け取り 2 企業の財・サービスの生産 3 労働者の消費の増加

X:

Y:

Z:

公民全国答録 経済・社会保障

80点以上が合格！41～79点は再テスト！40点以下は宿題プレゼント！

第12回解答

問1 4

企業の社会貢献活動として、環境保全の取り組みや、教育・文化活動の支援などが行われている。

問2 (例) 少子高齢化が進展することで、将来の税や保険料の納入額に影響がでるから。

グラフ2から、日本企業の海外進出数は増加傾向にある。

X: 2 Y: 1 Z: 3

社会保障分野への需要が増加すれば、企業の財・サービスの生産が進む。企業の生産がさかんになり雇用が増加すれば、労働者が企業から賃金を受けとることができる。労働者は受け取った賃金で財やサービスを購入するなど活発に消費を行うことができる。

公民全国答録 経済・社会保障

80点以上が合格！41～79点は再テスト！40点以下は宿題プレゼント！

第13回

問1 20点 問2 各30点 問3 20点

点

問1 我が国においては、高齢社会に対応して、**B**を必要とする人々が支援を受けられるよう、1997年に**B**保険法が公布され、2000年から**B**保険制度が始まった。この保険には、**C**歳以上の人々が加入することとなっている。**B**、**C**にそれぞれ当てはまる言葉の組み合わせとして適当なものを、**A**～**E**から一つ選び、その記号を書け。2014 愛媛

- A** {**B** 医療 **C** 20} **I** {**B** 医療 **C** 40}
ウ {**B** 介護 **C** 20} **E** {**B** 介護 **C** 40}

問2 資料Ⅲは、日本の社会保障制度の一部をまとめたものである。(a)・(b)に答えなさい。2014 徳島

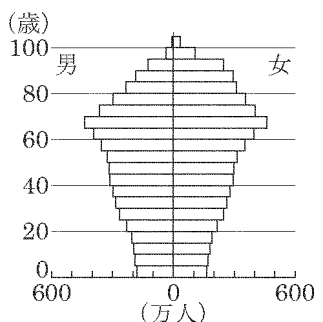
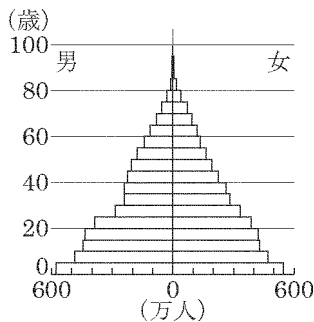
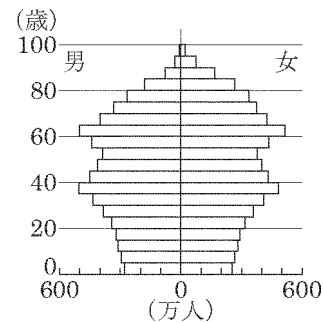
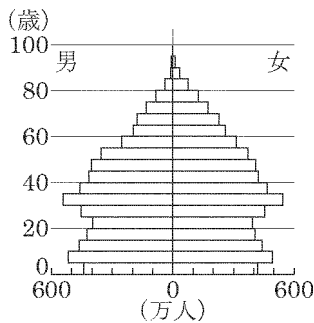
(a) 資料Ⅲ中の()にあてはまる、社会保障の種類を書きなさい。

(b) 年金保険について、少子高齢化が進むにつれてどのような問題がでてくるか、「保険料」、「働く世代」、「高齢者」という語句を用いて書きなさい。

資料Ⅲ

種類	具体例
社会保険	健康保険 雇用保険 年金保険 介護保険
()	生活保護(生活・住宅・ 教育・医療などの援助)
社会福祉	児童福祉 高齢者福祉 母子福祉
公衆衛生	予防接種 感染症予防 公害対策 下水道整備

問3 次の**A**～**E**は、それぞれ1950年(昭和25年)、1980年、2010年と、将来推計である2040年の日本の人口ピラミッドのいずれかを示しています。**A**～**E**のうち、2010年にあたるものはどれですか。正しいグラフを丸で囲みなさい。2015 広島



公民全国答録 経済・社会保障

80点以上が合格！41～79点は再テスト！40点以下は宿題プレゼント！

第13回解答

問1 エ

社会保険の1つとして、介護を社会全体で支えていくために、2000年に介護保険制度が導入された。介護保険は、40歳以上の人々が加入して保険料を積み立て、介護が必要となったとき、費用やサービスを受けるしくみ。

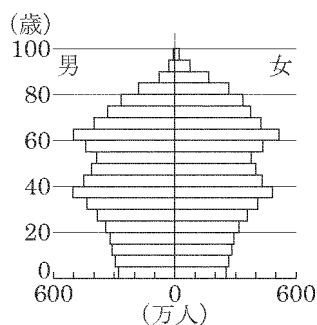
問2 (a) 公的扶助

(b) 少子高齢化が進み、保険料を納める働く世代が減少する一方、年金を受ける高齢者が増えており、社会保険の収支バランスが悪くなっていく。

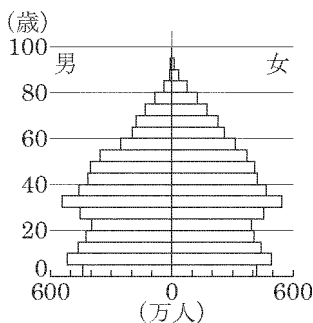
(a) 日本の社会保障制度は、社会保険、公的扶助、社会福祉、公衆衛生の4つを柱としている。

(b) 少子高齢化が進むと、年金の保険料を支払う働く世代の人口が減り、年金を受け取る高齢者の人口が増えていく。

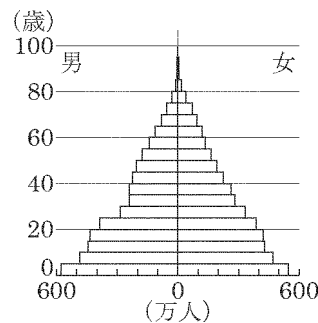
問3



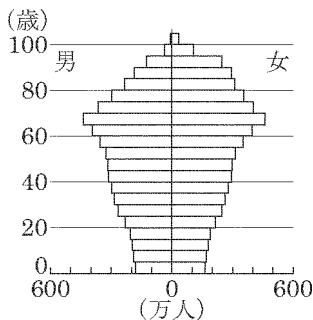
↑つぼ型が2010年である。



↑つりがね型は1980年



↑富士山型のウは1950年



↑つぼ型からさらに少子高齢化が進行している2040年の推計。

公民全国答録 経済・社会保障

80点以上が合格！41～79点は再テスト！40点以下は宿題プレゼント！

第14回

問1 各30点

問2 40点

点

問1 社会保障制度について、次の(ア)、(イ)に答えなさい。2015 山口

(ア) 次の文は、日本国憲法第25条の一部である。文中の下線部についての説明として正しいものを、下の1～4から一つ選び、記号で答えなさい。

第25条② 国は、すべての生活部面について、社会福祉、社会保障及び公衆衛生の向上及び増進に努めなければならない。

- 1 国民の健康保持・増進を図り、感染症の予防などをめざすこと。
- 2 自立が困難な人々に対して、生活の保障や支援のサービスをすること。
- 3 人々が積み立てた保険料を、病気や高齢になったときに給付すること。
- 4 生活に困り最低限度の生活を営めない人に生活費などを給付すること。

(イ) 次の表Iをみて、国民負担率と社会保障支出の比率の関係について、どのようなことがわかるか。簡潔に述べなさい。

表I 国民負担率と社会保障支出の比率についての国際比較 (2009年)

国名	国民負担率 (%)	社会保障支出の比率 (%)
アメリカ合衆国	30.3	24.1
日本	38.1	31.1
ドイツ	53.2	38.0
スウェーデン	62.5	42.7

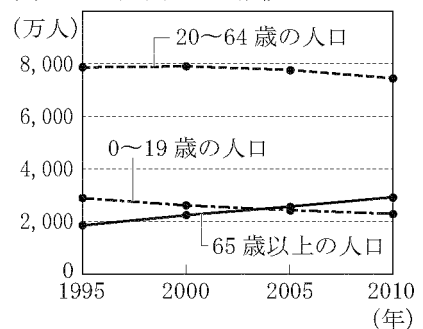
(注) 国民負担率は、各国の国民の租税の負担や社会保障費の負担が国民所得に占める割合
社会保障支出の比率は、各国の国民が受ける社会保障の総額が国民所得に占める割合

(国立社会保障・人口問題研究所 平成23年度社会保障費用統計により作成)

問2 下線部②では、最近、公的年金保険制度の収入と支出のバランスが悪くなっていることが話題になった。図Iを参考にして、収入と支出のバランスが悪くなってきた背景を「保険料」と「給付金」という二つの語を用いて、簡潔に説明しなさい。

2013 山口

図I 世代別人口の推移



(日本の統計2012により作成)

公民全国答録 経済・社会保障

80点以上が合格！41～79点は再テスト！40点以下は宿題プレゼント！

第14回解答

問1 (ア) 1 (イ) 国民負担率が高いほど、社会保障支出の比率が高い。

(ア) 日本の社会保障制度は、社会保険・公的扶助・社会福祉・公衆衛生の4つの柱からなる。2は社会福祉、3は社会保険、4は公的扶助の説明である。

(イ) アメリカ合衆国のように国民負担率が低い国は社会保障支出の比率も低く（低福祉低負担）、スウェーデンのように国民負担率が高い国は社会保障支出の比率も高い（高福祉高負担）。

問2 給付金をもらう世代の人口が増加している一方で、保険料を納める世代の人口が減少してきたこと。

公的年金の収入は保険料、支出は年金の給付金である。図Iから、年金の給付を受ける高齢者の人口は増えているが、保険料を負担する20～64歳の人口は減少していることがわかる。

公民全国答録 経済・社会保障

80点以上が合格！41～79点は再テスト！40点以下は宿題プレゼント！

第15回

問1 各20点 問2 40点

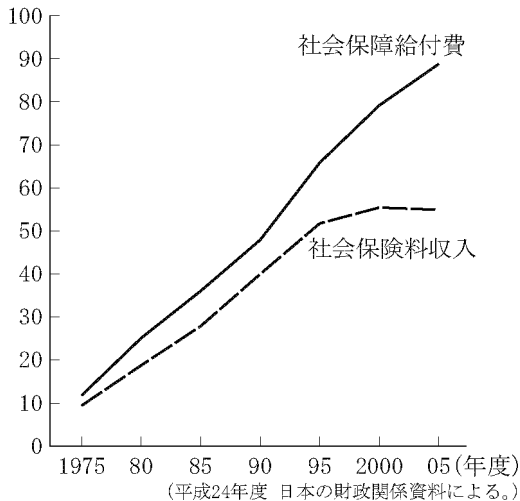
点

問1 次のア～エのうち、感染症の予防や上下水道の整備などを行う社会保障制度はどれですか。その記号を書きなさい。2014 広島

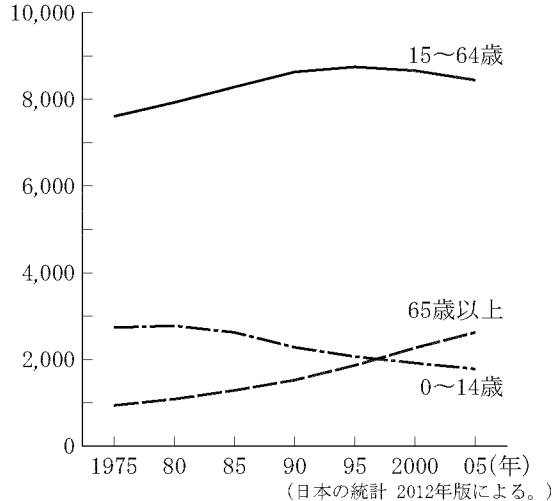
- ア 公的扶助 イ 社会福祉 ウ 社会保険 エ 公衆衛生

問2 次のグラフⅠは日本の社会保障給付費と社会保険料収入の推移を示し、グラフⅡは日本の年齢別人口の推移を示しています。グラフⅠが示すように、1995年度（平成7年度）から2005年度にかけて、社会保障給付費と社会保険料収入との差が増大しているのはなぜだと考えられますか。その理由を、グラフⅡをもとに、簡潔に書きなさい。2013 広島

グラフⅠ
(兆円)



グラフⅡ
(万人)



問3 下線部(f)の社会保障について、日本の社会保障制度について述べた文として最も適当なものを、次のア～エから一つ選んで記号で答えなさい。2014 島根

- ア 高齢化の進展により、後期高齢者医療制度が導入された。
イ 感染症の予防は社会保障制度に含まれない。
ウ 社会保障制度のための費用はすべて国が負担している。
エ 国民所得にしめる社会保障支出の割合が世界で最も高い。

公民全国答録 経済・社会保障

80点以上が合格！41～79点は再テスト！40点以下は宿題プレゼント！

第15回解答

問1 エ

感染症の予防や上下水道の整備などは公衆衛生。公的扶助は生活保護，社会福祉は老人福祉や障がい者福祉など，社会保険は年金保険や健康保険など。

問2 (例) 65歳以上の人口の増加によって社会保障給付費は増加し続ける一方，15～64歳の人口の減少によって社会保険料収入は伸び悩んでいるため。

グラフⅡで，年金などの給付を受ける65歳以上の人口は増加しており，グラフⅠの社会保障給付費も増加している。また，グラフⅡで15～64歳の人口が1990年ごろからやや減少傾向にあり，グラフⅠの社会保険料収入が伸び悩んでいる。

問3 ア

後期高齢者医療制度は2008年に導入された。

- イ 感染症予防は，社会保障制度の中の公衆衛生に含まれる。
- ウ 年金保険，健康保険など，加入者が保険料を負担するものもある。
- エ 日本の国民所得に占める社会保障支出の割合は，スウェーデン，フランスなどよりも低い。

公民全国答録 経済・社会保障

80点以上が合格！41～79点は再テスト！40点以下は宿題プレゼント！

第16回

各25点

点

問1 社会保障に関して述べた文①～③と、それぞれ関係の深い語句A～Dの組み合わせとして適切なものを、次のア～カから1つ選んで、その符号を書きなさい。2014 兵庫

- ① 収入が少なく生活に困っている人に対して、生活費や教育費などを給付する。
- ② 国民の健康を増進し、感染症の予防などを行う。
- ③ 障害のある人や高齢者などに対して、生活の保障や支援サービスを提供する。

A 社会福祉 B 社会保険 C 公衆衛生 D 公的扶助

ア ①-A ②-B ③-D イ ①-A ②-D ③-B

ウ ①-B ②-A ③-C エ ①-B ②-D ③-A

オ ①-D ②-C ③-B カ ①-D ②-C ③-A

問2 福祉の充実を図るため、2000年に新たな社会保障制度が導入された。40歳以上の全員が加入し、国や地方公共団体などからサービスが受けられる制度を何というか、書きなさい。2014 兵庫

問3 下の文章の下線部①に当てはまるものを、次のアからエまでの中から1つ選びなさい。2015 滋賀

ア 社会保険 イ 社会福祉 ウ 公的扶助 エ 公衆衛生

太郎さん：日本の一般会計の歳出、歳入はともに増えているね。歳出では社会保障関係費が増えているね。

由美さん：病院で治療を受けたときに支払う金額は、実際にかかった医療費よりも少ないと聞いたよ。これは、① 普段からお金を積み立て、必要なときに給付を受けているからだそうよ。また、医療費の一部は国が負担していると聞いたよ。

問4 次の文は③社会保障について述べたものである。文中の（ ）にあてはまる最も適切なことばを、漢字3字で書きなさい。2014 愛知

日本の社会保障制度は、社会権のうち、日本国憲法第25条に定められている「健康で文化的な最低限度の生活を営む権利」である（ ）の規定にもとづいて充実がはかられてきた。

公民全国答録 経済・社会保障

80点以上が合格！41～79点は再テスト！40点以下は宿題プレゼント！

第16回解答

問1 カ

- ①は生活保護で公的扶助，②は公衆衛生，
③は障害者福祉，老人福祉などをふくむ社会福祉について述べている。

問2 介護保険制度

高齢化が進むなかで，介護を社会全体で支えていくため，2000年に介護保険制度が導入された。

問3 ア

社会保障制度のうち，普段からお金を積み立てておき，必要になったら給付を受ける制度は，社会保険である。社会保険には，年金保険や健康保険などがある。

問4 生存権

公民全国答録 経済・社会保障

80点以上が合格！41～79点は再テスト！40点以下は宿題プレゼント！

第17回

問1 40点 問2・3 各30点

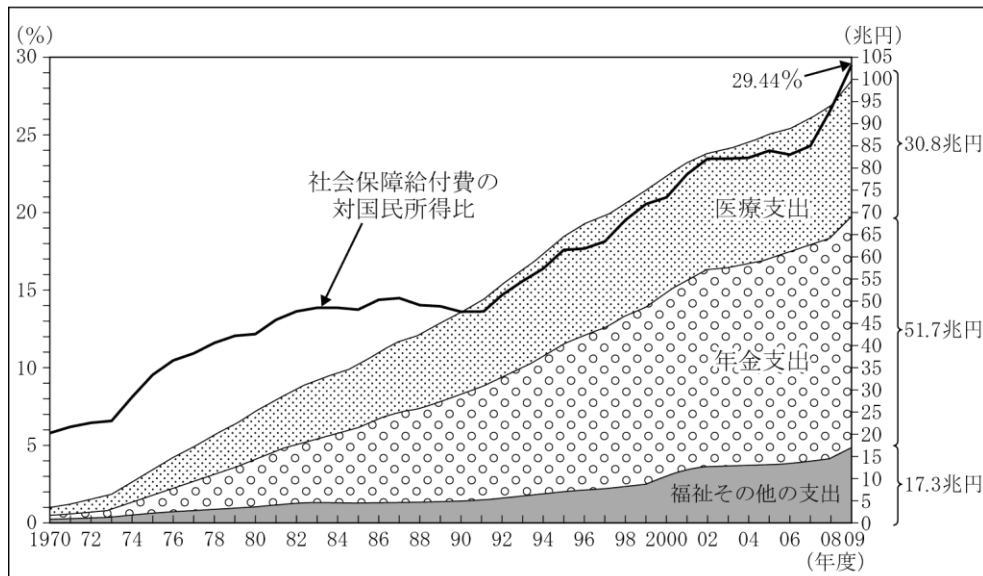
点

問1 わが国の社会保障制度には四つの柱があり，そのうちの三つは社会福祉，公的扶助，公衆衛生である。もう一つの柱は何か。書きなさい。2013 大阪

問2 グラフ2は，社会保障給付費等の推移を表したものである。これを見て，あとの各問いに答えなさい。

なお，社会保障給付費とは，医療支出，年金支出，福祉その他の支出の三つの合計である。2013 鳥取

グラフ2 社会保障給付費等の推移



(「国立社会保障・人口問題研究所作成」より作成)

グラフ2を見て，1970年以降の社会保障給付費等の変化を述べた文として誤っているものを，次のア～エからひとつ選び，記号で答えなさい。

- ア 1981年度以降，社会保障給付費にしめる年金支出の割合は，医療支出の割合を上回っている。
- イ 社会保障給付費の対国民所得比が低下したのは，バブル経済のころである。
- ウ 2009年度の年金支出額は，1991年度の年金支出額の約2倍となった。
- エ 石油危機による不景気の結果，社会保障給付費は，70兆円をこえた。

問3 わが国では，2000年から介護保険制度が導入されました。この制度において，原則，保険に加入し，保険料を払い始める年齢は何歳からですか，次のア～エの中から適切なものを1つ選び，その記号を書きなさい。

2015 和歌山

- ア 20歳
- イ 30歳
- ウ 40歳
- エ 50歳

公民全国答録 経済・社会保障

80点以上が合格！41～79点は再テスト！40点以下は宿題プレゼント！

第17回解答

問1 社会保険

問2 エ

エ 石油危機がおきたのは1973年。社会保障給付費が70兆円をこえているのは、1990年代後半。

問3 ウ

公民全国答録 経済・社会保障

80点以上が合格！41～79点は再テスト！40点以下は宿題プレゼント！

第18回

各20点

点

問1 日本の社会保障制度を構成する4つの基本的な制度の中で、公害対策、下水道の整備、感染症の予防を含むものは何か、漢字4字で書け。2015 京都

問2 わが国の社会保障制度の柱の一つである「公的扶助」と最も関係のあるものを、次のア～エの中から1つ選び、その記号を書きなさい。2013 和歌山

- ア 病気になったり、介護が必要になったりしたときに保険金を給付する。
- イ 自立するのが困難な人たちの生活を保障し、その福祉を向上させる。
- ウ 感染症の予防や、上下水道の整備、廃棄物の処理などを行う。
- エ 生活に困っている人々に対して、生活費や教育費を支給する。

問3 2000年から始まった、40歳以上の収入のある人々が保険料を支払う社会保険制度として最も適切なものはどれか、次のア～エから1つ選び、その記号を書きなさい。2015 三重

- ア 介護保険
- イ 労働災害保険（労災保険）
- ウ 年金保険
- エ 雇用保険

問4 日本の③社会保障制度について述べた次の文章中の（ ）にあてはまる最も適切なことばを、漢字4字で書きなさい。なお、文章中の2か所の（ ）には、同じことばがあてはまる。2013 愛知

日本の社会保障制度は、自立することが困難な人たちの生活を保障する（ ），生活費や教育費などを支給する公的扶助、国が運営し、国民に加入が義務づけられる社会保険、感染症の予防などを行う公衆衛生を基本的な柱としている。日本国憲法では、「国は、すべての生活部面について、（ ），社会保障及び公衆衛生の向上及び増進に努めなければならない。」（第25条）と規定している。

問5 産業革命によって生じた貧富の差の拡大などを受けて、第二次世界大戦後、全国民を対象とし、「ゆりかごから墓場まで」をめざす社会保障制度を始めた国を、ア～エから一つ選び、符号で書きなさい。2013 岐阜

- ア イギリス
- イ ドイツ
- ウ アメリカ
- エ 日本

公民全国答録 経済・社会保障

80点以上が合格！41～79点は再テスト！40点以下は宿題プレゼント！

第18回解答

問1 公衆衛生

問2 エ

公的扶助は、生活に困っている人々に生活費などを支給する制度である。アは社会保険，イは社会福祉，ウは公衆衛生。

問3 ア

問4 社会福祉

日本の社会保障制度は、社会保険，公的扶助，社会福祉，公衆衛生を4つの柱としている。なお，憲法第25条は，生存権についての国の責務を規定している。

問5 ア

産業革命が最初に始まったイギリスでは，貧富の差が拡大したことから，「ゆりかごから墓場まで」，つまり人が生まれてから死ぬまで国が経済的な保障をすることをめざした，社会保障制度が始まった。

公民全国答録 経済・社会保障

80点以上が合格！41～79点は再テスト！40点以下は宿題プレゼント！

第19回

各20点

点

問1 次の文の にあてはまることばを書きなさい。2015 岐阜

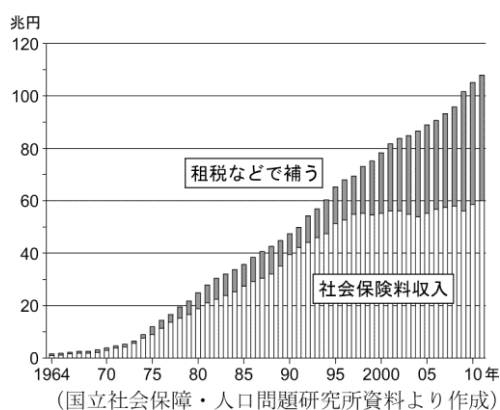
日本の社会保障制度は、憲法25条の規定にもとづいて整備され、社会保険、、社会福祉、公衆衛生の四つを基本的な柱としている。

問2 現在の日本の②年金や介護について述べた文として誤っているものを、次のアからエまでの中から一つ選んで、そのかな符号を書きなさい。2014 愛知

- ア 公的年金には、国民年金のほかに、企業などの事業所に勤める人たちを対象とする厚生年金などがある。
- イ 日本の公的年金の財源は、すべて税金でまかなわれているので、税金の少ない近年は、財源の確保が難しくなっている。
- ウ 40歳以上の人が保険料を負担して、介護が必要になったときに介護サービスを受けられる介護保険制度が行われている。
- エ 介護サービスには、施設サービスのほかに、ホームヘルパーなどを利用した在宅（居宅）サービスなどがある。

問3 資料6から日本の社会保障の負担について調べた。資料6から読み取れることとして適切なものを次のア～エから2つ選び、記号を書きなさい。2015 長野

資料6 社会保障給付費の財源の推移



- ア 1964年から2010年まで「社会保険料収入」は毎年増加してきている。
- イ 2010年の「租税などで補う」は2000年の「租税などで補う」の約2倍となっている。
- ウ 社会保障の負担は、2010年では、「租税などで補う」が「社会保険料収入」よりも多くなっている。
- エ 社会保障の負担全体に占める「租税などで補う」の割合が高まってきている。

問4 仕事を失った人の生活を支え、働き手として復帰できるための制度に当てはまるものを、次のア～エから1つ選び、記号を書きなさい。2013 長野

- ア 医療保険
- イ 介護保険
- ウ 雇用保険
- エ 年金保険

公民全国答録 経済・社会保障

80点以上が合格！41～79点は再テスト！40点以下は宿題プレゼント！

第19回解答

問1 公的扶助

問2 イ

イ 日本の公的年金の財源はすべて税金ではなく、加入者が支払う保険料と税金でまかなわれている。

問3 イ、エ

ア 社会保険料収入は、1990年代後半以降は増減をくり返している。

ウ 2010年まで、「租税などで補う」が「社会保険料収入」よりも多くなっている年はない。

問4 ウ

雇用保険は、仕事を失った人や離職した人などに対して、給付金を支払う制度。

医療保険では病気やけがをした人、介護保険では介護が必要になった人、年金保険では高齢者に、給付金が支払われる。

公民全国答録 経済・社会保障

80点以上が合格！41～79点は再テスト！40点以下は宿題プレゼント！

第20回

問1 40点 問2 各30点

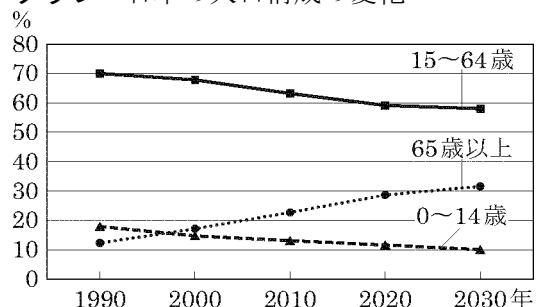
点

問1 ある中学校の生徒たちが、「よりよい未来をめざして」というテーマを設けて学習し、プレゼンテーションのための資料を作成した。問いに答えなさい。2014 岐阜

[ゆかさんの資料] だれもが安心してくらせる社会に向けて

《課題》 社会の変化とともに、①行政は、雇用の確保や②景気の安定などの経済政策、③公害規制や環境保全など、さまざまな役割をこなうようになっている。そのため④財政規模が拡大し、社会保障のあり方との関連で議論されることが増えている。例えば、右のグラフで、2000年には65歳以上の高齢者1人を、おもな働き手である15～64歳の約4人で支えていたと考えると、2020年には65歳以上の高齢者1人である15～64歳の約 人で支えることが予測される。そのため社会保障をいかに充実させるかが、大きな課題である。

グラフ 日本の人口構成の変化



(国立社会保障・人口問題研究所ホームページより作成)

注：2020年、2030年は推計。

《提案》 少子高齢社会の真ただ中で、だれもが安心してくらせるように、⑤行政による環境整備の一層の充実が必要である。そして、わたしたちは、自分たちのよりよくしただけでなく、そのくらしが将来世代にわたって持続するように考えていく必要がある。

にあてはまる整数を書きなさい。

問2 目次 IIについて、社会保障の負担と給付にみる世代間の公平について考えた。2015 長野

資料4 日本国憲法

第25条 すべて国民は、健康で文化的な の生活を営む権利を有する。

2 国は、すべての生活部面について、社会福祉、a 社会保障及び公衆衛生の向上及び増進に努めなければならない。

① 春さんが用意した資料4のうに当てはまる適切な語句を書きなさい。

② 資料4の下線部aに含まれている、日本の社会保障制度を2つ書きなさい。

公民全国答録 経済・社会保障

80点以上が合格！41～79点は再テスト！40点以下は宿題プレゼント！

第20回解答

問1 2

2020年には、65歳以上が約30%、15～64歳が約60%となることから、高齢者1人に対して15～64歳は2人となる。

問2

①最低限度

②社会保険、公的扶助（順不同）

日本の社会保障制度は、社会保険・公的扶助・社会福祉・公衆衛生の4つから成り立っている。そのうち社会福祉と公的扶助は条文中にあるので、ここでの社会保障は残りの2つを指す。