

第1回 1問 20点×5



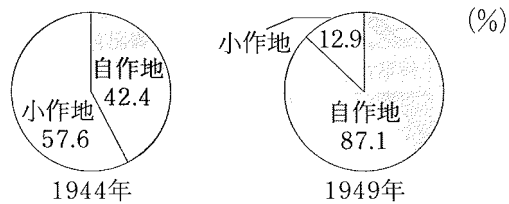
問1 第二次世界大戦後から続いた，ソ連を中心とした東側陣営と，アメリカを中心とした西側陣営とのきびしい対立を何というか，書きなさい。 2012 青森

問2 第二次大戦後のわが国の対外関係としてあてはまらないものを，一つ選んで記号を書きなさい。
2010 秋田

- ア 日ソ共同宣言を結んだ。
- イ ベルサイユ条約を結んだ。
- ウ 日米安全保障条約を結んだ。
- エ サンフランシスコ平和条約を結んだ。

問3 図3は，6班が戦後の民主化政策について調べた秋田県に関する資料である。図3にみられるような変化をもたらした改革を何というか，書きなさい。 2010 秋田

図3 秋田県における自作地と小作地の割合の推移



(「秋田県統計年鑑」から作成)

問4 戦後，経済を民主化する政策の一環として，三菱の広島造船所などが，三菱から分離され，別の企業となりました。この政策は，何の解体を目的としたものか，書きなさい。 2010 宮城

問5 1973年に起こった中東での戦争をきっかけにして，世界経済に大きな混乱が生じました。その混乱は何とよばれるか，書きなさい。 2010 山形

第1回解答

問1 冷戦（冷たい戦争、東西冷戦でも可）

問2 イ

イのベルサイユ条約は、第一次世界大戦後に結ばれた条約なので、「第二次世界大戦後」の時期に合わない。

問3 農地改革

問4 財閥

三井、三菱、住友などの財閥は、第二次世界大戦前に多くの会社や工場を経営して産業・経済界を支配し、政府や軍部と結びついて発展した。戦後の民主化政策で財閥は解体された。

問5 石油危機（オイルショック）

第2回

問1 30点 問2 30点 問3 20点×2

点


問1 1951年サンフランシスコ平和条約のほかに、この年には、日本国内にアメリカ軍の基地をおくことを取り決めた条約も結ばれました。この条約を何とよぶか、書きなさい。

2011 山形

問2 1989年元号が平成となったのと同じ年に、ドイツではベルリンの壁が開放されました。資料は、そのときの様子です。ベルリンの壁は、第二次世界大戦後の国際社会において、二つの大きな勢力が対立していたことの象徴でした。この対立は何とよばれるか、書きなさい。

2011 山形

資料



2012 群馬

問3 資料Vの法律が公布され、学校教育のしくみが増えた。この法律を何とよぶか、書きなさい。また、この法律が公布されたころのできごととして適切なものを、次のア～エから選りな

資料V 教育の原則を示した法律

第4条 国民は、その保護する子女に9年の普通教育を受けさせる義務を負う。

法律名：

記号選択

- ア 国際連盟が創設された。
- イ 農地改革が実施された。
- ウ 大日本帝国憲法が公布された。
- エ 日中平和友好条約が締結された。

第2回解答

問1 日米安全保障条約

問2 冷戦

第二次世界大戦後、アメリカを中心とする西側諸国とソ連を中心とする東側諸国との間で、実際に戦火を交えない緊張状態が続いた。これを冷戦（冷たい戦争）と呼ぶ。

問3 法律：教育基本法 記号：イ

資料Ⅴは、1947年に定められた教育基本法である。同じ時期には、やはり戦後の民主化政策である農地改革が行われた。アは1920年、ウは1889年、エは1978年のできごと。

第3回 問1 30点×2 問2 40点

問1 1945 第二次世界大戦が終わったことに関して、文中の **a** に当てはまる月日を書きなさい。また、**b** , **c** に当てはまる語の組み合わせを、下のア～エの中から一つ選んで、その記号を書きなさい。 2011 茨城

点

1946年 **a** , 日本国憲法が公布され、その翌年から施行されました。これにより日本は、国民主権・基本的人権の尊重・平和主義を三原理として、平和と民主化への道を歩むことになりました。

1951年、日本はサンフランシスコで結ばれた平和条約に調印し、独立を回復しました。図はこの条約の調印のようすで、日本が送った全権団の首席として署名している左端の人物は首相の **b** です。この5年後の1956年には **c** に調印し、同年のうちに国際連合への加盟が実現して、日本は国際社会に復帰しました。

a (月 日)

- | | | | | |
|---|-----|-------|---|--------|
| ア | [b] | 吉田茂 | c | 日ソ共同宣言 |
| イ | [b] | 吉田茂 | c | 日中共同声明 |
| ウ | [b] | 新渡戸稲造 | c | 日ソ共同宣言 |
| エ | [b] | 新渡戸稲造 | c | 日中共同声明 |

図



問2 1945年に第二次世界大戦が終わったことに関して、次の **a** の文は、この後の日本のようすについて述べたものである。文中の **a** , **b** に当てはまる語の組み合わせを、下のア～エの中から一つ選んで、その記号を書きなさい。 2012 茨城

戦後、経済面では財閥が解体され、農村では2度にわたって **a** がおこなわれた。1950年代の中ごろまでには、ほぼ戦前の経済水準に復興した。その後20年近くにわたって高い経済成長をとげたが、1973年の **b** で大きな打撃を受けた。

- | | | | | |
|---|-----|------|---|----------------|
| ア | [a] | 地租改正 | b | 石油危機 (石油ショック)] |
| イ | [a] | 農地改革 | b | 石油危機 (石油ショック)] |
| ウ | [a] | 地租改正 | b | ソ連の解体] |
| エ | [a] | 農地改革 | b | ソ連の解体] |

第3回解答

問1 a 11月3日 記号：ア

新渡戸稲造は、国際連盟本部の事務局次長となった人物である。また、国際連合の加盟は、日ソ共同宣言によってソ連の支持を得たことによる。日中共同声明の発表は1972年のできごと。

問2 イ

第4回 問1～2 各20点 問3 30点×2

点

2011 栃木

年代	できごと
1894	日清戦争がおこる
1895	下関条約が結ばれる……………A
1904	日露戦争がおこる
1905	ポーツマス条約が結ばれる
1911	辛亥革命がおこる……………B
1937	日中戦争がおこる……………C
1941	太平洋戦争がおこる……………D
1945	ポツダム宣言を受け入れる……………D
1952	日本が独立を回復する……………E

図



問1 図は、Dの翌年に開かれた国会の様子である。図からわかる当時の日本の民主化の内容を、「参政権」と「国会議員」の二つの語を用いて簡潔に書きなさい。

問2 次の文中の [] に当てはまる語はどれか。

Eは、日本と48か国との間で [] 平和（講和）条約が1951年に結ばれたことにより実現した。

- ア 南京 イ ベルサイユ
- ウ ロンドン エ サンフランシスコ

問3 年表中Dの後に、GHQ（連合国軍最高司令官総司令部）のもと、民主化政策が進められました。次の文章は、そのうちの一つである [X] について述べたものです。文章中の [X] と [Y] にあてはまる語をそれぞれ書き、文章を完成させなさい。

2012 埼玉

右の資料3は、1930年と1950年における、全国の小作地面積を示したものである。

民主化政策のうち、経済の面において、農村では、[X] が行われ、[Y] が所有していた小作地が小作人にあたえられた。これにより、多くの自作農が生まれるとともに、それまでの [Y] ・小作関係が改められた。この結果、資料3にみられるように、1930年と比べ1950年には小作地が減少した。

資料3

年	小作地面積
1930	2801
1950	521

(近代日本経済史要覧から作成)

X :

Y :

第4回解答

問1

(例) 女性の参政権が認められ、はじめて女性の国会議員が誕生した。


エ

問2

X：農地改革

Y：地主

第5回 各20点



問1 Eの時期に新しい憲法が制定され、日本の国のあり方が大きく変わった。主権についてはどのように変わったか、以前と比べて書きなさい。2010 石川

年代	日本と外国との関係	
1639	・ポルトガル船の来航を禁止する	A
1854	・日米和親条約を結ぶ	
1858	①日米修好通商条約を結ぶ	B
1871	②岩倉使節団を欧米に派遣する	
1895	・下関条約を結ぶ	C
1914	・第一次世界大戦に参戦する	
1930	③世界恐慌の影響で不況が深刻化する	D
1945	・ポツダム宣言を受諾する	E
1951	・サンフランシスコ平和条約を結ぶ	F
1975	・第一回サミットに参加する	

問2 第二次世界大戦後、民主化を進めるために農地改革が行われた。これによって、農村社会のしくみはどのように変わったか、改革の内容を含めて書きなさい。

2011 石川

問3 戦後の日本は、ウ 条約を結んで独立を回復し、その後、国際連合への加盟が実現し、国際社会に復帰した。 2010 福井

問4 第二次大戦後、日本の国際連合への加盟が実現するにあたって、1956年に調印された、ソ連との国交を回復したものは何か書け。 2010 福井

問5 教育の機会均等と男女共学をめざし、小・中学校を義務教育とした法律の名を書け。

2012 福井

第5回解答

問1 天皇が主権をもっていたが、国民が主権をもつようになった。

問2 地主の土地が小作人に与えられ、多くの自作農が生まれた。

問3 サンフランシスコ平和

問4 日ソ共同宣言

問5 教育基本法

第6回 問1 40点 問2 20点×2 問3 20点

点

問1 下線の部分(10)について、次の文の に適する語句を漢字3字で書け。

それまでの地主制の解体をめざした農地改革によって、小作人に農地があたえられ、多くの が生まれた。 2010 福井

問2

春香さんは、資料Ⅰ、Ⅱをつくり、下の文のようなまとめをした。文中の X には当てはまる国の名前を、 Y には当てはまる内容を10字以内で、それぞれ書きなさい。 2010 山梨

資料Ⅰ
日本の都道府県数の変遷

年 月	数
1946年 12月以	46
1972年 5月	47

(「日本の100年」第5版より作成)



日本の都道府県の数が資料Ⅰのように増えた理由は、1972年に X から Y からである。

問3 サンフランシスコ平和条約の直後、日本は国際連合への加盟を申請したが、認められなかった。このことの理由を、「安全保障理事会」と「拒否権」という語句を使って簡潔に書きなさい。2011 山梨

第6回解答

問1 自作農

問2 X：アメリカ合衆国（アメリカ）


Y：沖縄が返還された

資料Ⅱは沖縄県の略地図。日本は1951年にサンフランシスコ平和条約を結び、独立を回復したが、沖縄と小笠原諸島は引き続きアメリカに占領されていた。

問3 安全保障理事会の常任理事国であるソ連が拒否権を行使したため。

安全保障理事会の5常任理事国には、5か国中1か国でも反対したら決定できないという拒否権が認められている。このときは常任理事国の1国であるソ連が反対したため、日本の国際連合加盟が実現しなかった。

第7回 問1～2 30点×2 問3～4 20点×2

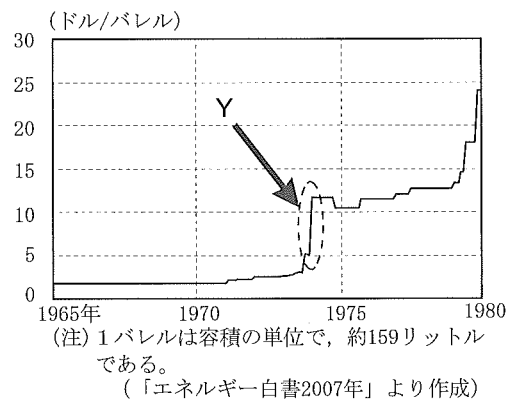


問1 第二次世界大戦後、日本が独立国としての主権を回復することになった、アメリカなど48か国と結んだ条約を何というか、書きなさい。 2011 三重

問2 資料Ⅳは、国際原油価格の推移を示したものである。資料中のYが示す範囲の変化のきっかけとなったできごととは何か。次のア～エから1つ選び、その記号を書け。

- ア 中東での戦争
- イ アフガニスタンでの内戦
- ウ 東西ドイツの統一
- エ ソ連の解体

資料Ⅳ

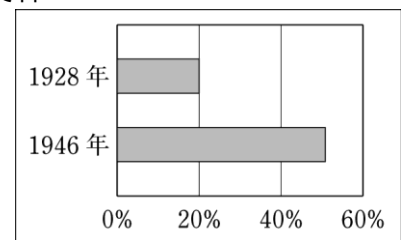


2011 奈良

問3 2012 奈良

「平塚らいてう」らがすすめていた女性解放運動の目標の1つが、第二次世界大戦後に実現した。その目標の1つとは何か。1928年と1946年のわが国の全人口に占める有権者数の割合を示した資料Ⅶを参考にして、簡潔に書け。

資料Ⅶ



(「完結昭和国勢総覧」より作成)

問4 高度経済成長期の日本の社会におこったできごととして適切に述べているものを、次のア～エの中から1つ選び、その記号を書きなさい。 2011 和歌山

- ア 社会保障制度の1つとして介護保険制度が実施された。
- イ 東海道新幹線が開通し、東京オリンピックが開催された。
- ウ 女性労働者が増加し、紡績業などを中心に軽工業が発達した。
- エ 1日100万部を売り上げる新聞社があらわれ、ラジオ放送が始まった。

第7回解答

問1 サンフランシスコ平和条約

問2 ア

Yでは、国際原油価格が急に上昇している。石油危機は第四次中東戦争の影響でおこった。

問3 女性が選挙権を獲得する。

資料Ⅷでは1946年の有権者数の割合が大きく増加している。第二次世界大戦後に選挙権が20歳以上の男女に与えられることになり、女性に対して初めて選挙権が認められた。

問4 イ

東海道新幹線が開通し、東京オリンピックが開催されたのは、高度経済成長が続いていた1964年。アの介護保険制度が実施されたのは2000年。ウ 軽工業を中心とする産業革命がおこり、紡績業がさかんになったのは19世紀後半。エ ラジオ放送の開始は大正時代。

第8回 問1 10点 他各30点

点

問1 次のア～エのうち、日本が国際連合に加盟した年と同じ年に起こったできごととして正しいものはどれか。一つ選び、記号を書きなさい。 2011 大阪（後期）

- ア 日本とソビエト連邦との国交が回復された。
- イ ポツダム宣言が受諾された。
- ウ サンフランシスコ平和条約が締結された。
- エ 日本国憲法が施行された。

問2 日本国憲法は、1946年11月3日に公布されたものである。この翌年、日本国憲法の本質にのっとり、小・中学校を義務教育とし、男女共学などについて規定した法律の名称を書きなさい。 2011 兵庫

問3 日本は、1972年に中華人民共和国と共同声明を公表し、国交を正常化した。また、1978年には 条約が結ばれ、経済や文化の面で両国の交流が深まった。図3は、この条約の調印式の様子である。



問4 写真はある条約を結んでいるときの様子を写したものであり、中央で署名しているのは当時の内閣総理大臣、吉田茂である。この条約により、日本は独立を回復した。この条約の名称を、答えなさい。2010 鳥取



第8回解答

問1 ア

日本が国際連合に加盟したのは1956年。これは、同じ年に出された日ソ共同宣言によりソ連との国交を回復したことで、ソ連の支持を得たため可能になった。

問2 教育基本法

1947年に制定された、小・中学校の9年間を義務教育とし、男女共学を基本とすることなどを規定した法律は、教育基本法である。

問3 日中平和友好（条約）

問4 サンフランシスコ平和条約（サンフランシスコ講和条約）

第9回 問1 20点 問2 50点 問3 30点

点

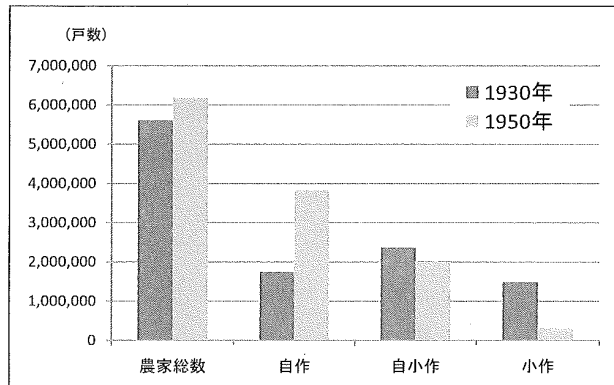
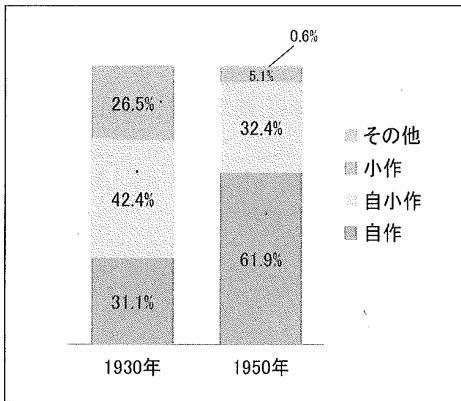
問1 1950年に朝鮮戦争が始まったが、次のa～dの文の中に、その戦争の影響について説明したものが二つある。その組み合わせとして、適切なものを、すべて選べ。 2011 鳥取

- a 特需により、日本経済の復興が進んだ。
- b 三井、三菱などの財閥が解体された。
- c 世界平和を維持するために国際連合がつけられた。
- d 日本国内に自衛隊の前身である警察予備隊がつけられた。

問2 グラフは、1930年と1950年における農家の状況の変化を表したものである。

グラフ1 農家の割合の変化

グラフ2 農家戸数の変化



(『完結昭和国勢総覧』より作成)

1930年と比べて1950年には、自作農家の割合や戸数が大幅に増加している。その理由を、簡潔に説明しなさい。 2011 鳥取

問3 写真は、年表中のIVの時期に、沖縄で撮影されたものである。当時沖縄では、円以外の通貨が使用された。その理由を説明した文の()にあてはまる国名を書き、文を完成させなさい。

写真



当時、沖縄は、()の施政権下にあったから。

第9回解答

問1 a,d

朝鮮戦争の特需景気によって、日本の戦後の経済復興が早まった。また、日本に駐留していたアメリカ軍が朝鮮戦争に出兵したため、警察予備隊がつくられ、これがのちに自衛隊になった。

問2 農地改革で、政府が小作人に安く土地を売り渡したから。

第二次世界大戦後、政府が地主から土地を買い上げ、土地を持たない小作農に安く売り渡す農地改革が行われ、多くの小作農は土地を持つ自作農となった。

問3 アメリカ

第10回 問1～2 各30点 問3～4 各20点



問1 日本国憲法が公布されたころ、民主的で平和的な国家をめざして新しい制度づくりが進められました。次のア～エのうち、この新しい制度の一つとして定められた法律はどれですか。その記号を書きなさい。2011 広島

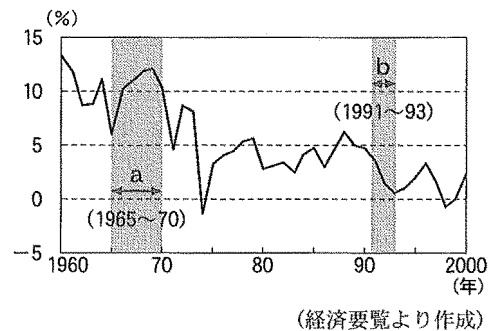
- ア 国家総動員法 イ 教育基本法
- ウ 公害対策基本法 エ 男女雇用機会均等法

問2 日本の国際社会への復帰について1951年にわが国が48か国と結んだ条約は何か。答えなさい。

問3 企業の活動は、経済の状況と関係がある。資料1中のa, bの各期間のできごとについての記述として最も適切なものを、次のア～エからそれぞれ1つずつ選び、記号を書きなさい。2011 長野

- ア 中東で起きた戦争をきっかけに石油危機が始まり、経済成長率が低下した。
- イ バブル経済が崩壊し、経済成長率が低下し、不景気となった。
- ウ 朝鮮戦争が始まり、特需で経済成長率が高まり、好景気を迎えた。
- エ 国民総生産が世界第2位になるなど、高い経済成長率を示した。

資料1 日本の経済成長率



問4 第二次世界大戦後のわが国の外交に関する次の㉠～㉣のできごとが、年代の古い順に左から右に並ぶように、記号㉠～㉣を用いて書け。

- ㉠ サンフランシスコ講和会議で、48か国と平和条約を結んだ
- ㉡ 平和友好関係を発展させるため、日中平和友好条約を結んだ
- ㉢ 日ソ共同宣言に調印したのち、国際連合に加盟した

→ →

第10回解答

問1 イ

日本国憲法は1946年に公布され、1947年に平和な国家・社会の形成者を育てる教育をすすめるため教育基本法が制定された。アは1938年に資源と国民を戦争のために動員できるようにするために定められた。ウは1967年、高度経済成長により各地で公害問題が発生したため制定された。エは1985年に公布され女性の社会進出を促進した。

問2 サンフランシスコ平和条約

問3 aエ bイ

aは高度経済成長の後半にあたるのでエ、bはバブル経済が崩壊したころにあたるのでイ。アの石油危機は1973年、ウの朝鮮戦争の開始は1950年。

問4 ㊦ → ㊧ → ㊨

㊦ サンフランシスコ平和条約の締結は1951年。㊨ 日中平和友好条約を結んだのは1978年。㊧ 日ソ共同宣言の調印、日本の国際連合加盟は1956年。

第11回 問1 30点 問2 20点 問3 50点

点

D
アメリカが施 政権をにぎって いた沖縄の、日本 への復帰が実現 した。

問1 カードDのできごとと同じ年に、日本と Y は、共同声明を発表して国交を正常化した。さらに1978年に、日本と Y は、両国間の平和友好関係を発展させることをうたった平和友好条約を結んだ。Yに当てはまる国の名を書け。2010 愛媛

問2 略年表中の**第二次世界大戦**のできごとののちに起こったできごとを、**ア～エ**から二つ選び、年代の古い順に、その記号を書け。 2011 愛媛

- | | |
|---|----------------------|
| ア 東京オリンピックが開かれた。 | イ 日ソ中立条約が結ばれた。 |
| ウ 日本が国際連盟を脱退した。 | エ サンフランシスコ平和条約が結ばれた。 |
| () → () | |

問3 経済の民主化政策が進められ、財閥解体が行われたころ、農村においても民主化が進められ、農地改革が行われました。下の表は、1941年（昭和16年）と1950年の自作・小作別 農家数を示しています。この改革の内容を、表をもとに、簡潔に書きなさい。

2010 広島

(戸)

年	自作農	自作農兼 小作農	小作農
1941	1,711,404	2,239,003	1,524,290
1950	3,821,531	2,001,433	312,364

(日本長期統計総覧による。)

第11回解答

問1 中華人民共和国

問2 エ → ア

第二次世界大戦後に起こったできごとは、**ア**の1964年の東京オリンピックの開催、**エ**の1951年のサンフランシスコ平和条約の締結である。

問3 農地を小作農にあたえ、小作農の多くを自作農にする。

表から、1950年の小作農の戸数は、1941年の小作農の戸数のおよそ5分の1まで減っていることが読み取れる。

第12回 各25点

点

問1 第二次世界大戦後、わが国では連合国軍総司令部（GHQ）の指令のもとに、多くの改革がすすめられた。この改革としてあてはまらないものは、次のア～エのうちのどれか。一つ選んで、その記号を書け。 2012 香川

- ア わが国の経済や産業を独占してきた財閥が解体された
- イ 教育勅語がだされ、国民の道徳のよりどころとされた
- ウ 20歳以上のすべての男女に選挙権があたえられた
- エ 小作人に農地を安く売りわたし、多くの自作農が生まれた

問2 第二次大戦後、日本と、アメリカ合衆国やイギリスなど48か国との間で、平和条約の調印が行われた都市の名は何か。 2012 愛媛

問3 資料Ⅱは、戦後数年間をかけて実施したある民主化政策の意義を国民に伝えるため、政府が作成したポスターである。その政策とは何か、書きなさい。

2012 徳島

資料Ⅱ



(国立公文書館蔵)

問4 1972年の日中共同声明について述べたものを、次のア～エから一つ選び、その記号を書け。

2010 高知

- ア 日本は、二十一か条の要求を中国に認めさせた。
- イ 日本は、中国から台湾などを譲りうけた。
- ウ 日本は、中国との国交を正常化した。
- エ 日本は、中国に遼東半島を返還した。

第12回解答

問1 イ

教育勅語がだされたのは、大日本帝国憲法が発布された翌年の1890年である。戦後は教育基本法が制定された。

問2 サンフランシスコ

問3 農地改革

資料Ⅱには「小作地の解放」「解放された農民」などと書かれている。これは、土地をもたない小作農を土地をもつ自作農とする農地改革に関するポスターである。

問4 ウ

アの二十一か条の要求は第一次世界大戦後の1915年のできごと。

イは日清戦争の講和条約の内容。

エは日清戦争後にフランス・ロシア・ドイツからの三国干渉を受けて行われた。

第13回 問1 40点 問2 40点 問3 20点

点

問1 年表中のCの時期に起こったできごととして正しいものを、次のア～エから一つ選び、その記号を書け。2012 高知

西 暦	で き ご と
1603年	①江戸幕府が開かれる
1635年	日本人の海外渡航を禁止する
1787年	②寛政の改革が始まる
1868年	戊辰戦争が始まる
1956年	国際連合に加盟する
1965年	日韓基本条約を結ぶ
1993年	環境基本法を制定する

- ア 農地改革が行われ、国から小作人に農地が安く売り渡され、多くの自作農が生まれた。
- イ 連合軍総司令部の指示により、現在の自衛隊のもとになる警察予備隊がつくられた。
- ウ 納税額に関係なく、25歳以上のすべての男子に選挙権を認めた男子普通選挙が行われた。
- エ 中東で起きた戦争の影響で石油危機が起こり、日本経済が大きな打撃を受けた。

問2 次のわが国のできごとに最も関係のあるカードを、A～Dから一つ選び、記号で答えよ。2010 福岡

A	アジアではじめてのオリンピックが東京で開催された。
----------	---------------------------

B	イギリスと同盟を結んでいたことを理由に連合国側に参戦した。
----------	-------------------------------

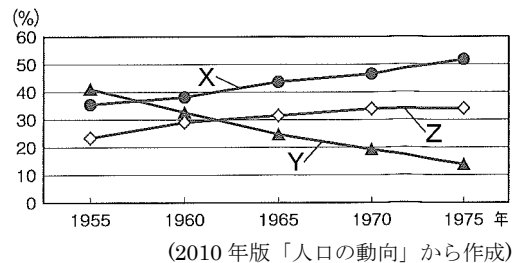
東海道新幹線が開通した。

C	北京郊外での日本軍と中国軍との衝突をきっかけに戦争が始まった。
----------	---------------------------------

D	欧米諸国との不平等条約を改正し、対等の関係をもつようになった。
----------	---------------------------------

問3 資料は、下線部bの時期の産業別就業人口の割合の変化を示している。X～Zのうち、第一次産業と第三次産業を示しているのはどれか、一つずつ選び、記号で答えよ。2012 福岡

資料



第一次産業

第三次産業

第13回解答

問1 エ

第四次中東戦争の影響で石油危機が起こったのは1973年である。アの農地改革は1946年から行われた。イの警察予備隊がつくられたのは朝鮮戦争が始まった1950年、ウの男子普通選挙が初めて行われたのは1928年。

問2 A

東海道新幹線の開通は1964年で、東京オリンピックが開催された年である。

問3 第一次産業 Y 第三次産業 X

第一次産業は農業や漁業など、第三次産業はサービス業などをいう。

第14回 問1 40点 問2 各10点 問3 40点

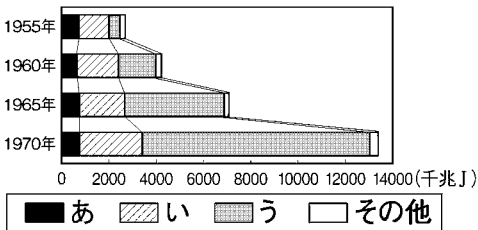
点

問1 下の文は、表中の下線部Qの〔 〕にあてはまる語句について説明したものである。〔 〕にあてはまる語句を書け。2011 福岡

平成	E ベルリンの壁が崩壊する。 世界各地で地域統合が進む中Q〔 〕が成立する。
----	---

政治や経済協力のしくみの一つで、域内に統一の通貨であるユーロを流通させた。

問2 資料は、表中の下線部Pの時期のエネルギー総供給量とエネルギー源の変化を示し、あ～うは石油、石炭、水力のいずれかである。石油と石炭を示すのはどれか、あ～うから一つずつ選び、記号で答えよ。 2011 福岡



(改訂第5版「数字で見る日本の100年」から作成)

石油 ⇐

石炭 ⇐

問3 右の表Ⅱは、ゆたかさんが、香川県の農地に占める小作地の割合について調べ、作成したものである。表Ⅱから、1949年の小作地の割合は、1941年と比べて大幅に減少していることが分かる。小作地の割合が減少したのはなぜか。農地改革 自作農 の二つの言葉を用いて、簡単に書け。2011 香川

表Ⅱ

	小作地の割合
1941(昭和16)年	59%
1949(昭和24)年	12%

(「農地改革顛末概要」により作成)

第14回解答

問1 ヨーロッパ連合（EU、欧州連合）

問2 石油う 石炭い

エネルギー革命とは、エネルギー源としての石炭の役割が石油によって取って替わられた現象を指す。この現象があまりにも急激だったため、このような呼称が生まれた。このような現象が生じたのは大体 1950 年代の前半、すなわち世界的に経済復興期にあたり、全世界的な傾向であった。この背景に、その時期の前後に中東で巨大油田の発見が相次いだという事実があったのはいうまでもない。

問3 農地改革により、自作農が大幅に増加したから。

第15回

問1・2 25点 問3 50点

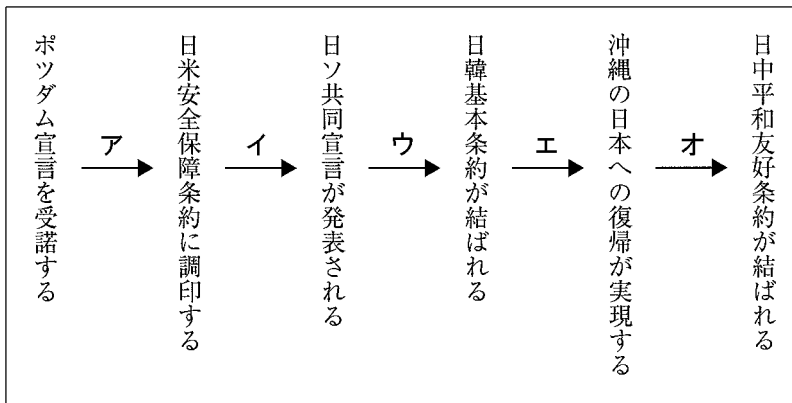
点

C 吉田茂
第二次世界大戦後に 内閣総理大臣となり、 <u>④1951年にアメリカ</u> で行われた会議に参 加し、 <u>日本の独立の回</u> <u>復などを目的として</u> <u>48か国と条約を結ん</u> <u>だ。</u>

問1 カードCの下線部④について、この条約の名称を書け。2011 高知

問2 日本の国際連合への加盟が認められたのはいつか。その時期を下の略年表中のア～オの中から一つ選び、記号を書きなさい。

略年表



問3 第二次世界大戦後のわが国のできごとについて述べた次のア～ウを年代の古い順に並べ、その記号を左から書け。 2011 長崎

- ア GHQが経済の民主化をめざして、財閥の解体を指令した。
- イ 第四次 ちゅうとう 中東戦争をきっかけとして、石油危機(石油ショック)がおこった。
- ウ 東海道新幹線が開通した年に、東京オリンピックが開かれた。

→ →

第15回解答

問1 サンフランシスコ平和条約

48 か国と結んだ条約は、サンフランシスコ平和条約である。日本はこのとき同時にアメリカと日米安全保障条約を結んだ。


問2 ウ

日本が国際連合に加盟したのは1956年。日本の国際連合加盟は、日ソ共同宣言が発表された後にソ連の支持を得て実現した。

問3 ア → ウ → イ

- ア 財閥の解体は戦後の民主化政策の1つで、1945年から行われた。
- イ 石油危機がおこったのは1973年。
- ウ 東海道新幹線の開通、東京オリンピックの開催は1964年。

第16回 問1 30点 問2 40点 問3 30点

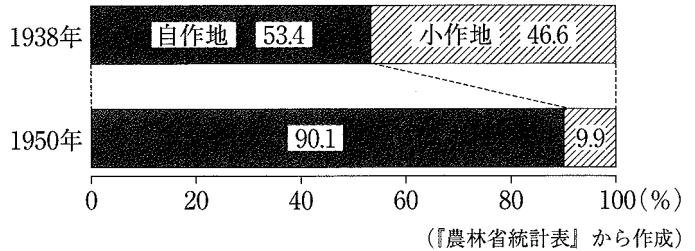


点

問1

グラフは、1938年と1950年の自作地と小作地の割合をそれぞれ示している。このグラフから読みとれる変化について書き、さらにその変化が生じた理由を、原因となった政策の名称と内容にふれながら書け。その際、次の語をすべて用いること。

グラフ



2010 長崎

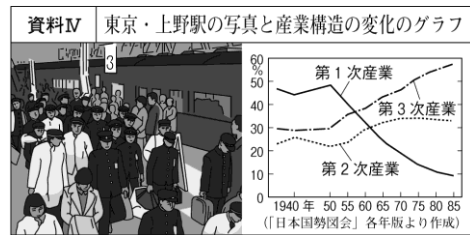
語 地主 小作人

問2 世界平和の維持を目的に国際連合がつくられたが、日本の国際連合加盟に最も影響を与えたできごとを、ア～エから1つ選び、符号を書きなさい。2011 大分

- ア サンフランシスコ平和条約の締結
- イ ソビエト連邦との国交回復
- ウ 沖縄の本土復帰
- エ 中華人民共和国との国交正常化

問3 幸子さんは、高度経済成長期のころの社会のようすを説明するために、資料Ⅳのような、当時に関連する資料を作成しました。当時の社会のようすを、次のア～エから1つ選び、記号で答えなさい。2011 宮崎

- ア 不足する労働力を補うために、学徒動員により高校生や中学生も工場で働いた。
- イ 経済成長の過程で、農村部から都市部へ大規模な労働力の移動が生じた。
- ウ 企業の資金が土地などに投資され、土地の価格が上昇する「バブル経済」が続いた。
- エ 農地改革により、それまでの地主・小作関係が改められて、多くの自作農が生まれた。



第16回

問1 自作地の割合が大幅に増えている。これは農地改革によって、政府が地主の土地を買い上げ、小作人に安く売り渡したためである。

グラフから、1938年に比べて1950年は自作地の割合が大きく増えていることが読みとれる。1945年から行われた、小作人に農地を安く売り渡し自作農にする農地改革による変化である。

問2 イ

日本は、1956年にソ連との間で日ソ共同宣言に調印し国交が回復した。それにともない、国連の常任理事国であるソ連の支持を受けて国連に加盟することができた（それまでは国連の安全保障理事会の常任理事国であるソ連の拒否権があったため国連に加盟することができなかった）。

問3 イ

アは太平洋戦争中のようす。

ウのバブル経済は1980年代後半から90年代の初めにかけて。

エの農地改革は戦後の民主化政策である。

第17回 問1 各20点 問2 40点

点

問1

浩太君は、資料Dの条約が結ばれた背景と日本の国際連合への加盟を説明するために資料IIIを準備し、さらに資料IVの年表を作成しました。

資料III, IVをもとに、次の説明文の
 [ウ]に入る適切な語, [エ]に入る国名,
 [オ]に入る適切な内容をそれぞれ書きなさい。

2012 宮崎

資料	サンフランシスコの講和会議
	○日本と平和条約を調印した国 アメリカ, イギリス, フランスなど 48 か国
	○調印を拒否した国 ソ連, ポーランド, チェコスロバキア
	○会議に参加しなかった国 インド, ビルマ, ユーゴスラビア
	○会議に招かれなかった国 中華人民共和国など

浩太君の説明文 (一部)
<p>○ 冷戦の下, 朝鮮戦争が始まったことを背景に, アメリカは日本を [ウ] 側陣営の一員とするために講和を急ぎました。</p> <p>平和条約を締結したのは, アメリカを中心とする国々との間だけで, 全面的な講和ではありませんでした。</p> <p>○ 日本は, 平和条約を結ばなかった [エ] と 1956 年に [オ] ことにより, 国際連合へ加盟し, 国際社会に復帰しました。</p>

資料IV	浩太君が作成した年表																
	<table border="1" style="width: 100%;"> <thead> <tr> <th style="width: 15%;">年</th> <th>おもなできごと</th> </tr> </thead> <tbody> <tr> <td>1945</td> <td>国際連合の発足 [冷戦の始まり]</td> </tr> <tr> <td>1949</td> <td>中華人民共和国の成立</td> </tr> <tr> <td>〃</td> <td>ドイツの東西分断</td> </tr> <tr> <td>1950</td> <td>朝鮮戦争(～1953年)</td> </tr> <tr> <td>1951</td> <td>サンフランシスコ平和条約</td> </tr> <tr> <td>〃</td> <td>日米安全保障条約</td> </tr> <tr> <td>1956</td> <td>日本の国際連合への加盟</td> </tr> </tbody> </table>	年	おもなできごと	1945	国際連合の発足 [冷戦の始まり]	1949	中華人民共和国の成立	〃	ドイツの東西分断	1950	朝鮮戦争(～1953年)	1951	サンフランシスコ平和条約	〃	日米安全保障条約	1956	日本の国際連合への加盟
年	おもなできごと																
1945	国際連合の発足 [冷戦の始まり]																
1949	中華人民共和国の成立																
〃	ドイツの東西分断																
1950	朝鮮戦争(～1953年)																
1951	サンフランシスコ平和条約																
〃	日米安全保障条約																
1956	日本の国際連合への加盟																

問2 政府は所得倍増をスローガンにかかげ, 産業界では投資がすすみ, 日本経済は発展した。東海道新幹線が開通し, 同年にアジアで最初の [②] オリンピックが開かれた。

2010 鹿児島

第17回解答

問1

ウ 西

エ ソ連

オ 日ソ共同宣言を出した

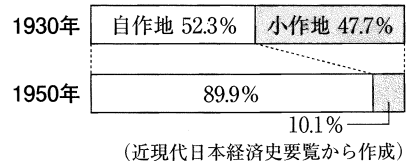
問2 東京

第18回



問1 図2はある改革による変化を示したものである。この改革を何というか。また、その改革の目的について、図2から読み取れることをもとにして書け。 2011 鹿児島



図2 自作地と小作地の割合



改革名：

目的：

問2 日本が国際社会に復帰する動きを、次のようにまとめた。X，Y に適することばを補い、これを完成させよ。ただし、Y には1956年に結ばれた宣言名を明記し、国際連合ということばも使うこと。

➔

1951年、アメリカなど48か国と X
平和条約を結び、独立を回復した。

1956年、ソ連と Y。

問3 GHQが行った民主化政策を次のア～エより1つ選び、記号で答えよ。

2011 沖縄

ア 治安維持法の制定

イ 財閥の解体

ウ 日米安全保障条約の締結

エ 国会期成同盟の結成

第18回解答

問1 改革名：農地改革

目的：自作地を増やし、地主と小作人の関係をあらためること。

図2より、1930年では全体の半分近くを占めていた小作地が1950年では大きく減少し、大部分が自作地となっている。これは、政府が地主から買い上げた土地を、土地を持たない小作農に安く売り渡した、農地改革によるものである。


問2 X：サンフランシスコ

Y：日ソ共同宣言を結び、国際連合に加盟した

Y 1956年の日ソ共同宣言でソ連との国交を回復し、ソ連の支持を得て、日本は国際連合への加盟を果たした。

問3 イ

第19回 問1 各30点 問2 40点



点

問1 2011 沖縄

- ① 第二次世界大戦後，連合軍による占領からの日本の独立や，沖縄・奄美・小笠原などの諸島が引き続きアメリカの統治下に置かれることなどを定めた平和条約は何か答えよ。
- ② 日本の独立後も日米安全保障条約でアメリカの軍事基地（施設および区域）を置くことが認められた。現在，日本国内にあるアメリカ軍専用施設のうち，何%が沖縄県にあるか。もっとも適切なものを次のア～エより1つ選び，記号で答えよ。

ア 約35% イ 約55% ウ 約75% エ 約95%

問2 東西陣営の変化に関連して，次の説明文を読み，空らんXに入る適語を漢字2文字で答えよ。2012 沖縄

(説明文)

1989年(X)の象徴であった写真1のベルリンの壁が取りはらわれ，1990年ドイツの統一が実現した。また，1989年マルタ島で開かれた米ソ首脳会談で(X)の終結が宣言され，経済的・政治的な地域統合の新しい動きが始まり，国境をこえた協力関係が広がった。

写真1



第19回解答

問1 ① サンフランシスコ平和条約

② ウ

問2 冷戦

第20回 問1 30点 問2 30点 問3 40点

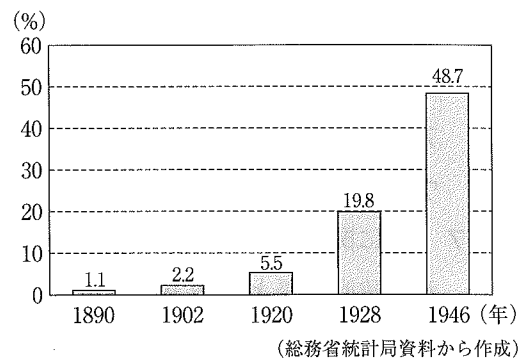
点

問1 日本と国際社会とのかかわりについて、平成時代の出来事として誤っているものを次のア～エより1つ選び、記号で答えよ。

- ア 日韓共催サッカー・ワールドカップが開催され、スポーツによる国際交流がおこなわれた。
- イ 「琉球王国のグスク及び関連遺産群」がユネスコの世界文化遺産に登録された。
- ウ 主要国首脳会議（サミット）が、九州・沖縄で開催された。
- エ 日中共同声明が調印され、中華人民共和国との国交が開かれた。

問2 図は、衆議院議員総選挙における総人口に占める有権者の割合をそれぞれ示している。Dの時期に有権者の割合が大きく増加した理由を、1928年の総選挙時の有権者の資格にふれながら書け。 2010 鹿児島

図



問3 次のア～エを年代の古い順に並べよ。 2010 鹿児島

- ア 石油危機がおこる。
- イ EUが発足する。
- ウ 日韓基本条約が結ばれる。
- エ ベルリンの壁が崩壊する。

→ → →

第20回解答

問1 エ

エの日中共同声明が調印され、日本と中国との国交が正常化したのは、1972年。冷戦が終結する以前で、昭和時代のことである。

問2 有権者の範囲が、25歳以上の男子から、20歳以上の男女になったから。

問3 ウ → ア → エ → イ

アの石油危機がおこったのは1973年、
イのEUの発足は1993年、
ウの日韓基本条約の締結は1965年、
エのベルリンの壁の崩壊は1989年のできごとである。

全国歴史演習 戦後 基礎

第 21 回 問 1 40 点 問 2 各 10 点 問 3 40 点

点

第 21 回 解答