


第1回



問1 20点×2 問2 30点 問3 30点

問1 高度経済成長期について、次のア、イに答えなさい。2012 青森

ア 当時の日本国内の様子について述べた文として適切なものを、次の1～4の中から一つ選び、その番号を書きなさい。

- 1 内閣が一つの政党ではなく、複数の政党から組織されることが多くなった。
- 2 水俣病などの公害が深刻化し、各地で公害追放の住民運動がおこった。
- 3 インターネットの利用が増加し、オンライン・ショッピングが普及した。
- 4 行政改革がさげばれ、効率化をはかるための様々な取り組みが進められた。

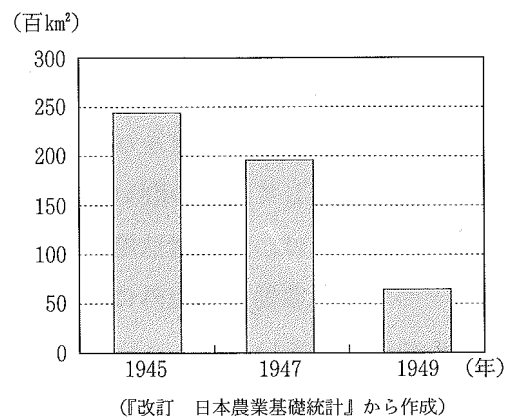
イ 日本の高度経済成長期は、ある資源の価格上昇がきっかけで終わりをむかえた。ある資源とは何か、書きなさい。

問2 広島県の経済は、1950年頃から復興が早まります。この頃の世界の様子を述べた文として、正しいものを、次のア～エから1つ選び、記号で答えなさい。2010 宮城

- ア 中東での戦争をきっかけに、石油危機がおこった。
- イ 朝鮮半島で朝鮮戦争が始まり、国連軍が出動した。
- ウ 南北ベトナムが統一され、ベトナム戦争が終わった。
- エ ベルリンの壁が崩壊し、東西ドイツが統一された。

問3

年	できごと
1871	岩倉使節団が欧米に向け出発する…①
1911	関税自主権が完全に回復される
1921	ワシントン会議が始まる…②
1929	世界恐慌がおこる
1937	日中戦争がおこる…③
1941	太平洋戦争がおこる
1945	ポツダム宣言を受諾する
1951	サンフランシスコ平和条約が結ばれる
1973	中東で戦争がおこる…④



資料Ⅱ 日本における小作地の面積の推移

資料Ⅱは、略年表中のCの時期のわが国における小作地の面積の推移を表したものです。小作地の面積が減少したおもな理由を書きなさい。 2010 山形

第1回解答

問1 ア 2

イ 石油（原油）

ア 高度経済成長期には、四大公害を初めとする公害が深刻な問題となった。

イ 1973年の第四次中東戦争の影響で石油の価格が上昇し、世界経済が混乱したできごとを、石油危機という。これをきっかけに、日本の高度経済成長は終わりをつげた。

問2 イ 1950年に朝鮮戦争が始まると、日本は特需景気となり、戦後の復興が早まった。

問3 （例）農地改革によって、多くの小作人に土地があたえられたから。

戦後の民主化政策の1つとして実施された農地改革では、地主の持つ農地を政府が強制的に買い上げ、小作人に安く売り渡し、多くの自作農がうまれた。

第2回

問1～2 30点 問3 40点

点

2011 福島

問1 「1956 国際連合に加盟する～1972 日中共同宣言に調印する」の間の時期における日本のできごとについて述べた文として適当なものを、次のア～エの中から一つ選びなさい。

- ア ^{こよみ} 暦が太陰暦から太陽暦へと変更され、1日が24時間と定められた。
- イ 東海道新幹線が開通し、東京と大阪の間の鉄道による移動時間が短縮された。
- ウ ラジオ放送が開始され、新聞とならぶ情報源となった。
- エ 日本の経済に大きな打撃をあたえた第一次石油ショックが起きた。

2012 栃木

Aさんの話	私が中学生のときは、乗用車に乗っている人は一部の裕福な人たちで、市内を走る車はほとんどが輸入車でした。日本がサンフランシスコ平和（講和）条約を結んだのは、私が中学3年のときで、高校入学後まもなく独立を回復したのを覚えています。
Bさんの話	私が中学生のときに、東京と大阪の間に <input type="text"/> 新幹線が開業し、その後、東京オリンピックが開催されました。今は北は④青森県、南は鹿児島県まで新幹線で行けるようになりました。今のように修学旅行で新幹線を使う時代が来るとは思ってもいませんでした。
Cさんの話	中学生のときに、青森の親戚が箱につめて送ってくれたリンゴを駅に取りに行った思い出があります。今は⑥宅配便があり、とても便利です。

問2 Aさんが中学生のときのできごととはどれか。

- ア ベルリンの壁がとりこわされた。
- イ 日本国憲法が公布された。
- ウ 石油危機（石油ショック）がおこった。
- エ 朝鮮戦争がおこった。

問3 Bさんから聞き取った内容にある に当てはまる語を書きなさい。

第2回解答

問1 イ

高度経済成長の時期である。イの東海道新幹線は1964年に開通した。アは明治時代初め、ウは大正時代、エは1973年のできごとである。


問2 エ

サンフランシスコ平和条約が結ばれたのは1951年で、この前年の1950年に朝鮮戦争が始まった。アは1989年、イは1946年、ウは1973年のできごと。

問3 東海道

第3回 各25点

2011 群馬



問1 下線部(d)に関して、次の①、②の問いに答えなさい。

① この憲法の公布後に実施されたものを、次のア～エから選びなさい。

- ア 学制が發布され、全国各地に小学校がつくられた。
- イ 立憲政治の開始に備えて、内閣制度が創設された。
- ウ 地方自治法が公布され、知事の直接選挙が規定された。
- エ 民法が定められ、男性を一家の中心とする家制度が規定された。

② この憲法により、日本の国のあり方は大きく変わった。基本理念のひとつである「主権」は、どのように変わったか、この憲法の公布前と比較して、簡潔に書きなさい。

2011 新潟

問2 次のア～エは、年表中のBの時期のできごとである。年代の古いものから順に並べ、その符号を書きなさい。

- ア 東京オリンピックが開かれた。
- イ 沖縄が日本に復帰した。
- ウ サンフランシスコ平和条約が結ばれた。
- エ 日本が国際連合に加盟した

→ → →

2011 山梨

問3 サンフランシスコ平和条約の直後、日本は国際連合への加盟を申請したが、認められなかった。このことの理由を、「安全保障理事会」と「拒否権」という語句を使って簡潔に書きなさい。

2011 山梨

問4 次のア～エの文を、年代の古い順に並べ、記号で書きなさい。

- ア 年平均10%をこえる高い経済成長が続いた。
- イ 財閥解体などによって、経済の民主化が進められた。
- ウ 狂乱物価といわれる激しいインフレがおこった。
- エ 朝鮮戦争に関係する軍事物資の輸出が増加し、経済が急速に回復した。

→ → →

戦後 第3回解答

問1

① ウ

② (例) 天皇主権から国民主権へと変わった。

① 日本国憲法の公布は、第二次世界大戦後の1946年。ア、イ、エはいずれも明治時代。

問2 ウ → エ → ア → イ

アの東京オリンピック開催は1964年、イの沖縄の日本復帰は1972年、ウのサンフランシスコ平和条約の締結は1951年、エの日本の国際連合加盟は1956年。


問3 安全保障理事会の常任理事国であるソ連が拒否権を行使したため。

安全保障理事会の5常任理事国には、5か国中1か国でも反対したら決定できないという拒否権が認められている。このときは常任理事国の1国であるソ連が反対したため、日本の国際連合加盟が実現しなかった。

問4 イ → エ → ア → ウ

ア 高い経済成長が続いたのは、1950年代後半から1970年代前半まで。イ 財閥解体は戦後の民主化政策の1つである。ウ 狂乱物価といわれる激しいインフレがおこったのは1973年の石油危機のときである。エ 朝鮮戦争が始まったのは1950年。

第4回 全て 2011 富山 各 25 点 (問 1、4 完答)



年	日本のできごと	年	世界のできごと
1889	(a)大日本帝国憲法が発布される		
1890	・初の衆議院議員選挙が実施される……[X]		
1918	・原敬が総理大臣となり、初の本格的な [] 内閣が成立する	1914	(c)第一次世界大戦がおこる
1928	・1925 年の選挙法改正後、初の衆議院議員選挙が実施される……[Y]	1920	・国際連盟が発足する
1946	・第二次世界大戦後、初の衆議院議員選挙が実施される……[Z]	1939	・第二次世界大戦がおこる
1947	(b)日本国憲法が施行される	1945	(d)国際連合が発足する
		1946	・国際連合の安全保障理事会で(e)拒否権が行使される
		1949	・ドイツが東西に分裂する
		1950	・朝鮮戦争がおこる
1956	・国際連合への加盟が実現する	1955	・アジア・アフリカ会議がバンドンで開かれる
1975	・第 1 回主要先進国首脳会議に参加する	1965	・ベトナム戦争が激化する
		1979	・ソ連がアフガニスタンに侵攻する
		1990	・東西ドイツが統一される
		1991	・ソ連が解体する

問 1 (d) 国際連合について説明した文として、適切なものを次のア～エから 2 つ選び、記号を書きなさい。

- ア アメリカのウィルソン大統領の提案により、設立が決定した。
- イ 総会では、すべての加盟国が一票を投じる権利をもっている。
- ウ 紛争地域で、停戦監視などの平和維持活動を行う。
- エ アメリカやソ連は、当初加盟していなかった。

問 2 (e) 拒否権の行使について、資料 1 をみると略年表中の I の期間が最も多いことがわかる。その理由を、I の期間の「世界のできごと」を参考に、当時のアメリカとソ連の関係を踏まえて、説明しなさい。

資料 1 安全保障理事会
拒否権行使回数

西暦年	合計
1946～55	78
1956～65	31
1966～75	31

(「世界史リブレット 54 国際体制の展開」より作成)

問 3 略年表中の I、II の期間のできごとについて、次のア～エを年代の古い順に並べなさい。

- ア バブル経済が崩壊し、景気が後退した。
- イ 中東での戦争をきっかけに石油危機がおこった。
- ウ 経済の民主化が進められ、財閥が解体された。
- エ 白黒テレビや電気洗濯機などが売り出され「三種の神器」として人気を呼んだ。(→ → →)

資料 2
国会のようす



問 4 資料 2 は、年表中の [X] ～ [Z] のうち、どれと最も関係が深いのか、[X] ～ [Z] から選び、記号を書きなさい。また、そのように判断した理由を説明しなさい。

記号 () 理由 :

第4回解答

問1 イ ウ

問2 拒否権をもつアメリカとソ連がそれぞれ資本主義諸国と社会主義諸国に分かれて、対立するようになったから。

Iの期間は、第二次世界大戦後から1950年代半ばである。当時、アメリカを中心とする資本主義国と、ソ連を中心とする社会主義国との、冷戦と呼ばれる厳しい対立状態が続いていた。

問3 ウ → エ → イ → ア

アのバブル経済の崩壊は1990年代初め、イの中東戦争の影響で石油危機がおこったのは1973年、ウの財閥解体は1945年から、エの「三種の神器」が人気を呼んだのは1950年代から。

問4 記号：Z

理由：このときはじめて女性に選挙権が認められ女性の国会議員が誕生したから。

資料2は、1946年に初めて行われた20歳以上の男女による衆議院議員選挙の結果誕生した、女性の国会議員である。

第5回 問1 ①25点 ②25点×2 問2 25点



問1 日本の首席全権として出席した l 内閣総理大臣の吉田茂は、m サンフランシスコ平和条約に調印した。 2012 長野

① 下線部 l にかかわって、吉田茂が内閣総理大臣在任中のできごととして適切なものを、資料6を参考にして、次のア～エから1つ選び、記号を書きなさい。

資料6 吉田茂の内閣総理大臣在任期間

- ・1946年 5月～1947年 5月
- ・1948年 10月～1954年 12月

- ア 日本国憲法が公布された。
- イ 東京でオリンピックが開かれた。
- ウ 日本が国際連合に加盟した。
- エ 国家総動員法が成立した。

② 下線部 m にかかわって、次の各問いに答えなさい。

(あ) サンフランシスコ平和条約とあわせて結ばれた、アメリカ軍の駐留などを認めた条約の名称を、漢字8字で書きなさい。

(い) 日本と中華人民共和国の関係について述べた次の文中の か に当てはまる適切な語句を、漢字6字で書きなさい。

日本は、サンフランシスコ平和条約を結んだが、中華人民共和国とは正式な関係がないままの状態が続いた。1972年に か が調印され、国交が開かれた。

問2 次のア～ウは、サンフランシスコ平和条約調印の前後のできごとである。これらのできごとを年代の古い順に並べ、符号で書きなさい。 2010 岐阜

- ア 朝鮮戦争が始まる。
- イ 日本国憲法が施行される。
- ウ 日本が国際連合に加盟する。

→ →

第5回解答

問1

① ア

アの日本国憲法が公布されたのは1946年11月3日、イの東京オリンピックが開かれたのは1964年、ウの日本の国際連合加盟は1956年で、第二次世界大戦後のできごと。エの国家総動員法の成立は1938年。


② (あ) 日米安全保障条約

(い) 日中共同声明

問2 イ → ア → ウ

アの朝鮮戦争が始まったのは1950年、イの日本国憲法が施行されたのは1947年、ウの日本が国際連合に加盟したのは1956年のこと。

第6回 各25点



問1 2012 三重

右の資料2は、1972年5月の沖縄のようすを示したものである。資料2に示したように沖縄の人々が銀行に並んだのは、どのようなことをする必要があったからか、日本とアメリカとの交渉で、1972年5月に実現したことにふれて、書きなさい。

資料2 1972年5月の沖縄のようす



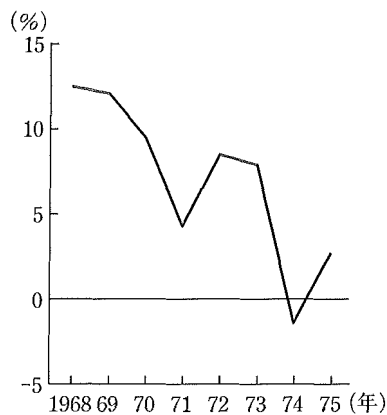
問2 1967年から1982年の間に日本が国交を正常化し、平和友好条約を結んだ国はどれか。2010 京都

- (カ) 韓国 (キ) ソ連 (ク) 中国 (ケ) アメリカ

問3 高度成長の時期の我が国の産業や社会の説明として最も適当なのは、(1)～(4)のうちではどれですか。一つ答えなさい。 2012 岡山

- (1) 高度経済成長が始まると円高が急激に進行し、米と小麦の輸入が増大した。
- (2) 所得の増加とともに洗濯機などの家庭電化製品や自動車が普及した。
- (3) 大都市では公害によって生活環境が悪化し、農村への人口流出が進んだ。
- (4) 石油危機によって、30年以上続いた高度経済成長は終わった。

問4 日本の高度経済成長に関して、右のグラフは1968年(昭和43年)から1975年までの日本の経済成長率の推移を示し、資料は1973年10月の新聞記事の一部を示しています。グラフが示すように、1974年に日本の経済成長率が大きく低下したのはなぜだと考えられますか。その主な理由を、資料をもとに、簡潔に書きなさい。 2012 広島



第6回解答

問1 沖縄が日本に返還され、ドルを円に交換する必要があったから。

問2 (ク)

日本は中国と1972年に日中共同声明を発表して国交を正常化し、その後1978年に日中平和友好条約を結んだ。

問3 (2)

高度経済成長の時期には、洗濯機や冷蔵庫、テレビなどの家庭電化製品が広く普及していった。(4)について、高度経済成長は1950年代半ばから始まり、1973年の石油危機で終わったので、30年以上は続いていない。

問4 中東戦争の影響で、原油の価格が引き上げられ、エネルギー源の多くを原油に依存していた日本の産業が大きな打撃を受けたため。

第7回

問1 40点

問2・問3各30点

点


問1 C班の紙芝居で、「東京オリンピックの開催」を【場面構成】に加える場合、右の**ア～エ**のどの位置にあたるか。記号で答えなさい。2011 山口

【タイトル】

国際協調をめざして

—戦後のわが国の国際関係—

【参考】



東京オリンピック

【場面構成】

④国際社会への復帰

↓…ア

国際連合への加盟

↓…イ

石油危機が起こる

↓…ウ

米ソの冷戦の終わり

↓…エ

問2 次の1～3のできごとを年代の古い順にならべ、記号で答えなさい。

- 1 日韓基本条約を結ぶ。 2 沖縄が返還される。 3 国際連合に加盟する。

→ →

年代	できごと
1854	A 日米和親条約を結ぶ
1875	樺太・千島交換条約を結ぶ
1895	B 下関条約を結ぶ
1905	ポーツマス条約を結ぶ
1919	C ベルサイユ条約を結ぶ
1945	ポツダム宣言を受諾する
1978	日中平和友好条約を結ぶ

①

問3 次の**ア～エ**は、上の年表中①の期間におこったできごとである。おこった順に**ア～エ**を並べなさい。2010 徳島

- ア** 沖縄が返還される。 **イ** 国際連合が発足する。
- ウ** 朝鮮戦争がおこる。 **エ** 日米安全保障条約が改定される。

→ → →

第7回解答

問1 イ

東京オリンピックは1964年に開催された。国際連合の加盟は1956年、石油危機は1973年におこったできごとである。

問2 (3) → (1) → (2)

1は1965年、2は1972年、3は1956年。

問3 イ → ウ → エ → ア

アは1972年、イは1945年、ウは1950年、エは1960年のできごと。

第8回 問1 40点 問2 各30点

点

問1 次のア～エは、我が国の各時代における女性の活躍を紹介したカードである。略年表中の⑥の期間における女性の活躍を紹介したカードとして適当なものを、ア～エから二つ選び、年代の古い順に、その記号を書け。2012 愛媛

年代	できごと
1850	<ul style="list-style-type: none"> ①ペリーが4隻の軍艦を率い、浦賀に來航する ②西南戦争が起こる
1900	<ul style="list-style-type: none"> ③日清戦争の講和条約が結ばれる ④日露戦争が起こる ⑤第一次世界大戦が起こる
1950	<ul style="list-style-type: none"> ⑦平和条約が結ばれる 日本が国際連合に加盟する

() → ()

ア



東京や大阪を走るバスに、女性の車掌しゃしやうが乗るようになった。

イ




津田梅子つだうめこら女子留学生が、岩倉使節団いわくらに同行した。

ウ



我が国で初めて、女性が国会議員となった。

エ



東京オリンピックに、多くの女性選手が出場した。

図

1868年	1912年	1926年	1945年	1989年
ア	イ	ウ	エ	
明治	大正	昭和		

問2 真一さんは、上の図中のエの期間に起こったできごとを、新たに作成したカードXに示した。カードX中の(P)にあてはまる県名と(Q)にあてはまる国名を書け。2010 福岡

X
現在の(P)県が27年ぶりに本土に復帰した同じ年に、わが国は(Q)との国交正常化 <small>きやう</small> の共同声明 <small>どうせいめい</small> に調印した。

P

Q

第8回解答

問1 ア→ウ

アは第一次世界大戦後の大正時代，ウは戦後初めて行われた衆議院議員選挙によって誕生した女性議員。
イの岩倉使節団が派遣されたのは，明治時代の1871～1873年。エの東京オリンピックが開催されたのは昭和時代の1964年。

問2 P 沖縄 Q 中国

第9回

問1 各35点 問2 30点

点

問1 選挙制度が変わったことについて、

資料1、資料2を参考に、(1)、(2)の問いに答えなさい。

資料1 有権者の割合

衆議院議員総選挙が行われた年	直接国税の金額による制限	有権者の割合 (全人口に対する比率)
1890	15 円以上	1.1%
1902	10 円以上	2.2%
1920	3 円以上	5.5%
1928	制限なし	20.8%
1946	制限なし	50.4%

資料2 ある年に実施された選挙における投票風景 2012 佐賀




(1) 1920 年に比べ、1928 年に行われた衆議院総選挙の有権者の割合が増加した理由は何か、簡潔に書きなさい。

(2) 1928 年に比べ、1946 年に行われた衆議院総選挙の有権者の割合が増加した理由は何か、簡潔に書きなさい。

問2 Fさんは、第二次世界大戦後の日本の歴史について調べ、資料8の写真を見つけた。この写真中の船は何によって被害を受けたか、またそのできごとをきっかけにして、日本ではどのような動きが高まったか。これらの点について、簡潔に説明しなさい。

2010 佐賀 (前期)

資料8 被害を受けた第五福竜丸



第9回解答

問1 (1) 直接国税の制限がなくなったため。

(2) 女性にも参政権（選挙権）が与えられたため。

問2 第五福竜丸はアメリカによる水爆実験で被害を受けた。それにより原水爆禁止世界大会が日本で開催されるなど、核兵器に対する反対の気運が高まった。

第五福竜丸は、1954年にアメリカがビキニ環礁で行った水爆実験により被ばくした。これをきっかけに核実験の禁止を求める声が高まり、1955年には原水爆禁止世界大会が、日本の広島で開催された。

第10回 問1 60点 問2 40点

点

問1 Eさんは、第二次世界大戦後の日本と朝鮮との関係について調べ、資料7の写真を見つけた。この写真は、朝鮮戦争をきっかけに、連合国軍最高司令官総司令部（GHQ）の指令でつくられた警察予備隊の様子である。この警察予備隊がつけられたのはいつか。その時期を、略年表中のア～エの中から一つ選び、記号を書きなさい。 2012 佐賀

資料7



略年表

ポツダム宣言を受諾する ↑ ア 国際連合への加盟が認められる ↑ イ ベトナム戦争が勃発する ↑ ウ 第一次石油危機が起こる ↑ エ 主要国首脳会議（サミット）が沖縄で開催される

問2 Fさんは、第二次世界大戦後の社会について調べ、資料10のようにまとめた。この中にある下線部の改革指令は、どのような目的で出されたのか。これらの指令を出した組織名を明らかにして簡潔に説明しなさい。 2011 佐賀（前期）

資料10 戦後の改革指令の例

- | |
|----------------------------------------------------------------------------------------------------------------------------------------------------------|
| <ul style="list-style-type: none">① 女性の参政権実現② 労働組合結成の奨励③ 学校教育の自由主義化④ 秘密警察などの圧政的諸制度の廃止⑤ 農地改革などの経済機構の民主化 |
|----------------------------------------------------------------------------------------------------------------------------------------------------------|

第10回解答

問1 ア

朝鮮戦争が起こったのは1950年。ポツダム宣言の受諾は1945年で、国際連合への加盟が認められたのは1956年であることから、アの期間である。


問2 自作農を創設してその割合を増加させ、地主制度を解体するために、GHQが指示を出した。

第11回 問1 各20点 問2 各30点

点

問1 日本とアメリカとの関係について、資料2と資料3を見つけた。下の(1)、(2)の問いに答えなさい。 2011 佐賀 (後期)

資料2 在日アメリカ軍施設



(沖縄県ホームページより)

資料3 都道府県別の在日アメリカ軍専用施設土地面積の割合

都道府県名	在日アメリカ軍専用施設
沖縄	73.94%
青森	7.66%
神奈	5.86%
東京	4.26%
山口	2.55%
その他	5.73%
合計	100%

(防衛省ホームページより)

(1) 日本には資料2のような在日アメリカ軍施設がある。これは1951年に日本とアメリカの間で、アメリカ軍が日本に駐留することを認める内容を含む条約を結んだことによる。この条約名を書きなさい。

(2) 資料3から、在日アメリカ軍施設についてどのようなことが読み取れるか、簡潔に書きなさい。

問2 1970年、大阪での万国博覧会には海外から76か国が参加したが、a (ア ソ連 イ 中華人民共和国) は、わが国との国交がなく、参加しなかった。

その後、1972年に、b (ア 日ソ共同宣言 イ 日ソ中立条約 ウ 日中共同声明 エ 日中平和友好条約) が調印されて、国交が正常化した。

a, bの()の中から適当なものの一つずつを選び、記号で答えなさい。2011 熊本

第 1 1 回解答

問 1 (1) 日米安全保障条約

(2) 在日アメリカ軍施設の土地面積では、約 4 分の 3 が沖縄に集中している。

資料 3 から、在日アメリカ軍施設の土地面積のうち、75% 近くが沖縄県に集中していることがわかる。

問 2 a イ b ウ

ソ連とは 1956 年に日ソ共同宣言が出されて、国交が回復された。


第12回

問1 60点 問2 40点

点


問1 次のア～エは、太平洋戦争後の国内外のできごとを示した資料とその説明である。年代の古いものから順に並べて、記号を書きなさい。

ア



ベルリンの壁が取り壊された

イ



サンフランシスコ平和条約が結ばれた

ウ



日本国憲法が公布された

エ



日中平和友好条約が結ばれた

→ → →

年	選挙にかかわる主なできごと	年	国民の自由や権利にかかわる主なできごと
1890	e 第1回の衆議院議員選挙が行われる	1874	自由民権運動が始まる
1919	政党内閣のもとで選挙権が拡張される	f ↓	1912 護憲運動が起こる
1925	普通選挙法が成立する	1924	再び護憲運動が起こる
1946	戦後初の衆議院議員選挙が行われる	1938	国家総動員法が制定される
1994	衆議院議員選挙に小選挙区比例代表並立制が導入される	1945	g 民主化への取り組みが始まる
		h ↓	

問2 hの期間に関連して、次のア～エは、その期間の世界のできごとである。古い順に並べかえ、符号を書きなさい。ただし、エは3番目になる。 2012 大分

ア 南北ベトナムの統一

イ 朝鮮戦争が始まる

ウ 東西ドイツの統一

エ ソ連のアフガニスタン侵攻開始

→ → →

第12回解答

問1 ウ → イ → エ → ア

アは1989年、イは1951年、ウは1946年、エは1978年

問2 イ → ア → エ → ウ

アのベトナム戦争は1965～1975年に起こった。南北統一したのは1976年。

イの朝鮮戦争が始まったのは1950年

ウの東西ドイツが統一されたのは1990年

エのソ連のアフガニスタン侵攻が始まったのは1979年

第13回 問1 30点×2 問2 40点

--

点

問1

沖縄県には鉄道のない時期があったことを知った幸子さんは、沖縄の交通の歴史に関する資料を作成するなかで、交通規則が本土とちがう写真に疑問をもち、第二次世界大戦後の年表を使って、その理由を調べました。幸子さんのまとめのなかの **ア** ， **イ** に入る適切な内容を書きなさい



年	おもなできごと
1945	ポツダム宣言受諾 連合軍が日本を占領
1951	サンフランシスコ平和条約 調印
1971	沖縄返還協定の調印
1972	沖縄が日本に復帰

沖縄の交通の歴史に関するまとめ(一部)

◎ 写真を見て疑問に思ったこと

本土とちがう点：沖縄は **ア**

◎ 年表を使って、調べたこと

ちがっていた理由：沖縄は **イ**

問2 1972年、日中共同声明が発表され、中国との国交が正常化したころのできごととして、最も適当なものはどれか。 2011 鹿児島

- ア アメリカの施政下にあった沖縄が、日本に復帰した。
- イ ベルリンの壁が取り払われ、東西ドイツが統一された。
- ウ アメリカとの間で、日米安全保障条約が結ばれた。
- エ 日ソ共同宣言が発表され、ソ連との国交が回復した。

第13回解答

問1 ア 自動車が右側通行だった。

イ 本土とは別に、アメリカが統治していたから。

写真では、車が日本のような左側通行ではなくアメリカのような右側通行をしていることがわかる。沖縄は、第二次世界大戦後アメリカによって統治され、1972年に日本に返還された。

問2 ア

沖縄が日本に復帰したのは同じ1972年。

イのベルリンの壁の崩壊は1989年で、翌年東西ドイツが統一された。

ウの日米安全保障条約の締結は1951年、

エの日ソ共同宣言の発表は1956年。

第14回 問1 40点 問2 各10点 問3 40点

点

問1 サンフランシスコ平和条約と同時に日本とアメリカとの間で結ばれた条約を何といいますか，書きなさい。2013 和歌山

問2 世界遺産条約が，ユネスコ（国際連合教育科学文化機関）で採択されて2012年で40周年を迎えました。この条約が採択された年に，アメリカから日本へ返還されたのはどこですか，現在の都道府県名で書きなさい。2013 和歌山

第14回解答

問1 日米安全保障条約

1951年にアメリカなど48か国との間でサンフランシスコ平和条約が結ばれたとき，同時に日米安全保障条約が結ばれ，日本国内にアメリカ軍の基地が引き続いておかれることになった。

問2 沖縄県

2012年の40年前は1972年。この年に，独立回復後もアメリカの占領下にあった沖縄が日本に返還された。